

4. Soal Ujian Nasional Sosiologi 2013/2014

UJIAN NASIONAL

	Mata Pelajaran : Sosiologi
	Jenjang : SMA/MA
	Program Studi : IPS
	Hari/Tanggal : Selasa, 15 April 2014
	Jam : 10.30—12.30

PETUNJUK UMUM

1. Isikan nomor ujian, nama peserta, dan tanggal lahir pada Lembar Jawaban Ujian Nasional (LJUN) sesuai petunjuk di LJUN.
2. Hitamkan bulatan di depan nama mata ujian pada LJUN.
3. Tersedia waktu 120 menit untuk mengerjakan paket tes tersebut.
4. Jumlah soal sebanyak 50 butir pada setiap butir soal terdapat 5 (lima) pilihan jawaban.
5. Periksa dan bacalah soal-soal sebelum Anda menjawabnya.
6. Laporkan kepada pengawas ujian apabila terdapat lembar soal yang kurang jelas, rusak, atau tidak lengkap.
7. Tidak diizinkan menggunakan kalkulator, HP, tabel matematika, atau alat bantu hitung lainnya.

1. Seorang sosiolog melakukan penelitian tentang kehidupan warga di suatu kompleks perumahan dimana mereka bisa hidup berdampingan dengan solidaritas sosial tinggi, saling menghormati dan menghargai. Dari contoh tersebut, sosiologi berfungsi sebagai ilmu yang
 - A. Menanamkan kesadaran dan pemahaman
 - B. Mengkaji hubungan masyarakat
 - C. Mengembangkan sikap toleransi
 - D. Mengembangkan sikap saling menghormati
 - E. Mengkaji hubungan manusia dengan alam
2. Perhatikan ciri-ciri sosiologi berikut ini:
 - (1) Didasarkan pada observasi terhadap kenyataan dengan akal sehat serta tidak spekulatif
 - (2) Menggunakan metode kuantitatif berdasarkan perhitungan matematis
 - (3) Realitas sebagai dasar menyusun teori baru untuk penyempurnaan teori lama

- (4) Data diolah secara subjektif dimana imajinasi pribadi masuk dalam data
- (5) Fakta dianalisa secara kritis tanpa memerhatikan baik buruknya fakta
- Pernyataan di atas yang merupakan ciri-ciri sosiologi adalah ...
- A. (1), (2), dan (3) D. (2), (4), dan (5)
 B. (1), (2), dan (4) E. (3), (4), dan (5)
 C. (1), (3), dan (5)
3. Setelah sering bergaul dengan teman-teman sebayanya, Dodi akhir-akhir ini menunjukkan perubahan sikap dan perilaku yang cenderung kurang disukai oleh masyarakat di lingkungannya. Perilaku Dodi tersebut merupakan hasil bentuk sosialisasi
- A. Partisipatif D. Primer
 B. Represif E. Sekunder
 C. Preventif
4. Susan merupakan seorang remaja yang sedang tumbuh. Ia gemar mendengar musik dan menonton film Korea. Kebiasaan ini memengaruhi perilaku Susan dalam kesehariannya. Media sosialisasi yang memengaruhi perubahan perilaku Susan adalah
- A. Keluarga
 B. Teman sebaya
 C. Media elektronik
 D. Teman sekerja
 E. Lembaga pendidikan
5. Setiap pagi sebelum proses belajar mengajar, siswa di salah satu SMA selalu berdoa menurut keyakinannya masing-masing. Hal ini dilakukan untuk menanamkan nilai-nilai religi dan meningkatkan ketakwaan terhadap Tuhan Yang Maha Esa. Unsur terciptanya keteraturan sosial dalam contoh tersebut adalah
- A. Pola D. Nilai sosial
 B. Order E. Tertib sosial
 C. Kejegan
6. Pada saat mengendarai kendaraan bermotor seorang remaja tidak menggunakan helm, jaket, sepatu, dan tidak memiliki SIM karena belum cukup umur. Tindakan remaja tersebut telah melanggar norma
- A. Sosial D. Kesopanan
 B. Hukum E. Kebiasaan
 C. Kelayakan
7. Suku, agama, ras, dan antar-golongan (SARA) lekat sekali dengan pandangan sikap yang dianut masyarakat. Pertikaian antarwarga sering disebabkan oleh kasus SARA yang berawal dari hal sederhana. Umumnya terjadi ketika warga lain memberikan pandangan, lalu diterima oleh si penerima yang kondisinya tidak netral, dan menerima pandangan tersebut dengan tanpa berpikir rasional. Faktor yang memengaruhi interaksi sosial tersebut adalah
- A. Simpati D. Imitasi
 B. Identifikasi E. Sugesti
 C. Motivasi
8. Menjelang Pilkada untuk pemilihan Walikota Semarang partai-partai politik melakukan kerja sama dengan tujuan memenangkan Pilkada. Ditinjau dari bentuk interaksi sosialnya, tujuan kerja sama dalam memenangkan Pilkada termasuk
- A. Koalisi D. Bersaing
 B. *Joint venture* E. Koersi
 C. Kooptasi
9. Di setiap pemerintah daerah terdapat satuan pengamanan yang sering disebut Satuan Polisi Pamong Praja yang diberi tugas menjaga keamanan dan ketertiban di wilayahnya. Apabila lembaga tersebut tidak berfungsi secara baik maka akan mengakibatkan
- A. Sistem hukum tidak dapat ditegakkan
 B. Masyarakat yang taat norma semakin berkurang
 C. Hilangnya rasa takut terhadap aparat pemerintah
 D. Kepercayaan masyarakat terhadap aparat berkurang
 E. Munculnya sindikat kejahatan di berbagai bidang
10. Contoh gejala sosial:
 (1) Pengadilan TIPIKOR menjatuhkan hukuman berat kepada pelaku korupsi

- (2) Densus 88 menggrebek rumah teroris di Tangerang Selatan
- (3) Dinas lalu lintas jalan raya memasang rambu lalu lintas agar tidak terjadi kecelakaan
- (4) BNN menkampanyekan bahaya narkoba kepada para pelajar di Jakarta
- (5) Seorang bapak menasehati putranya agar mengendarai motor secara aman dan sopan

Pengendalian sosial yang bersifat preventif ditunjukkan oleh

- A. (1), (2), dan (3) D. (2), (4), dan (5)
- B. (1), (2), dan (4) E. (3), (4), dan (5)
- C. (1), (3), dan (5)

11. Dina seorang remaja putri. Dia sering pulang malam tanpa alasan yang jelas. Di samping itu, Dina sering berpesta hingga larut malam sehingga mengganggu kenyamanan para tetangga. Akhirnya masyarakat mencela. Celaan masyarakat tersebut menyadarkan Dina untuk tidak mengulangi perbuatannya. Berdasarkan ilustrasi di atas, tujuan pengendalian sosial yang dilakukan masyarakat adalah

- A. Menjaga ketertiban sosial
- B. Mencegah penyimpangan
- C. Mengembangkan budaya malu
- D. Menciptakan sistem hukum
- E. Menegakkan sistem hukum

12. Beberapa perilaku:

- (1) Perampokan disertai pembunuhan
- (2) Pegawai kadang membolos kerja
- (3) Manipulasi pajak oleh pegawai Ditjen Pajak
- (4) Menerobos lampu pengatur lalu lintas
- (5) Sekelompok anak muda sering mabuk-mabukan di cafe

Yang termasuk perilaku menyimpang sekunder adalah

- A. (1), (2), dan (3) D. (2), (4), dan (5)
- B. (1), (2), dan (4) E. (3), (4), dan (5)
- C. (1), (3), dan (5)

13. Seorang anak, melanjutkan pendidikan tinggi ke kota lain sehingga harus kos. Ia jarang pulang ke rumah sehingga

orangtua tidak dapat memberi bimbingan dan mengawasi secara maksimal. Kondisi tersebut menyebabkan ia berperilaku bebas dan cenderung melanggar peraturan. Penyimpangan tersebut disebabkan oleh

- A. Pembelajaran dari berbagai penyimpangan
- B. Pemberian label atau cap negatif dari orangtua
- C. Adanya perbedaan penyampaian sosialisasi
- D. Penyerapan nilai dan norma yang tidak maksimal
- E. Pudarnya nilai dan norma sosial yang lama

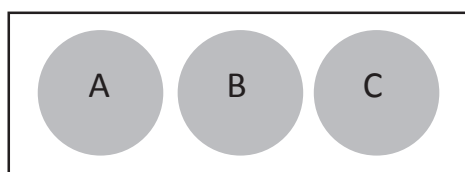
14. Perhatikan pernyataan berikut:

- (1) Turis asing bertanya kepada penduduk setempat dengan bahasa yang tidak dimengerti
- (2) Seseorang mengajak bicara temannya yang sedang tidur mengigau
- (3) Tamu restoran memanggil pelayan di restoran
- (4) Seorang turis memesan kamar pada resepsionis hotel
- (5) Pelayan menanyakan kepada tamu apa yang akan dipesannya

Yang merupakan interaksi sosial adalah

- A. (1), (2), dan (3) D. (2), (4), dan (5)
- B. (1), (2), dan (4) E. (3), (4), dan (5)
- C. (1), (3), dan (5)

15. Perhatikan gambar berikut!



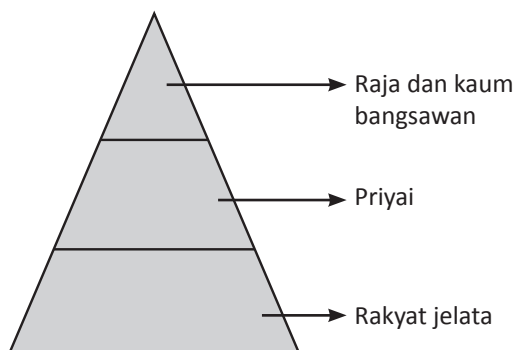
Keterangan gambar:

- A. Islam
- B. Kristen
- C. Hindu

Ikatan sosial pada gambar tersebut berbentuk

- A. Toleransi D. Konsolidasi
- B. Intervensi E. Interseksi
- C. Integrasi

16. Struktur sosial masyarakat feodal di Jawa:



Dari skema di atas dapat diketahui bahwa sesuatu yang dihargai dan dijadikan dasar stratifikasi sosial adalah

- A. Keturunan
- B. Kekuasaan
- C. Keahlian
- D. Pendidikan
- E. Kekayaan

17. Di dalam masyarakat dijumpai kelompok sosial yang memiliki nama belakang Sitompul, Napitupulu, Sirait, dan sebagainya. Kelompok sosial tersebut dibentuk atas dasar

- A. Profesi
- B. Hubungan darah
- C. Hobi yang sama
- D. Kesamaan daerah
- E. Asal daerah

18. Pembangunan fisik di wilayah perkotaan sangat pesat dan sering disertai dengan pengurusan rumah penduduk. Sebagian penduduk yang diuntungkan cenderung bersikap setuju terhadap pengurusan, sementara kelompok yang dirugikan, menolak pengurusan. Munculnya kelompok yang pro dan kontra atau konflik pada masyarakat perkotaan tersebut disebabkan oleh faktor

- A. Proses perubahan yang terlalu cepat
- B. Perbedaan kualitas individu
- C. Tuntutan persaingan yang tinggi
- D. Perbedaan mata pencaharian masyarakat
- E. Perkembangan kebudayaan kelompok

19. Masyarakat menolak kembalinya seorang mantan narapidana ke lingkungan asalnya,

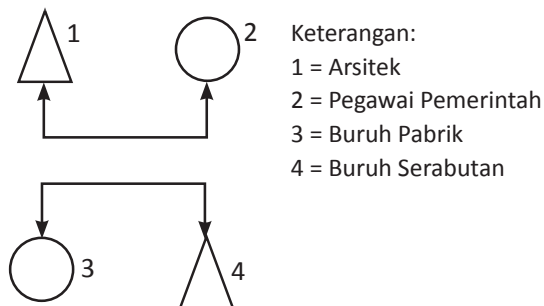
karena masyarakat masih menaruh curiga terhadap residivis tersebut. Konsekuensi yang dihadapi mantan narapidana tersebut adalah

- A. Terputusnya interaksi dengan lingkungan baru
- B. Penyesuaian diri dengan lingkungan baru
- C. Adanya harapan di lingkungan baru
- D. Timbulnya kekecewaan di lingkungan baru
- E. Penurunan status di lingkungan baru

20. Seseorang tamatan Sekolah Menengah Atas yang memiliki kemampuan fisik dan kesehatan yang baik berhasil lulus masuk Akademi Militer Angkatan Darat. Ketika pangkatnya kolonel, ia terpilih menjadi komandan pasukan perdamaian Tentara Indonesia di Timur Tengah karena situasi politik di daerah itu sedang panas. Saluran mobilitas yang digunakan adalah

- A. Lembaga hukum
- B. Organisasi politik
- C. Angkatan bersenjata
- D. Organisasi ekonomi
- E. Saluran perkawinan

21. Bagan mobilitas:



Keterangan:
 1 = Arsitek
 2 = Pegawai Pemerintah
 3 = Buruh Pabrik
 4 = Buruh Serabutan

Gambar tersebut (1 – 4) menunjukkan adanya mobilitas

- A. Vertikal geografis
- B. Horizontal geografis
- C. Horizontal intragenerasi
- D. Vertikal naik antargenerasi
- E. Vertikal turun antargenerasi

22. Contoh mobilitas sosial:
 (1) Ekonomi keluarga tidak mendukung,

menyebabkan seorang anak cerdas yang seharusnya bisa melanjutkan kuliah, namun hanya memilih bekerja untuk membantu orangtua

- (2) Lokasi terpencil membuat warga masyarakat tidak bisa mengenal kemajuan daerah lain sehingga warga di desanya tetap tertinggal
- (3) Di suatu daerah, anak wanita tidak diizinkan sekolah tinggi karena cukup menjadi ibu rumah tangga saja
- (4) Anak-anak dari keluarga tertentu tidak boleh merantau jauh, bagi mereka lebih baik kumpul meski hidup serba kurang
- (5) Penduduk di suku tradisional tertentu dilarang sekolah sebab mereka menganggap pendidikan hanya menjadi penyebab perilaku korup

Mobilitas sosial yang terhambat karena faktor budaya adalah

- A. (1), (2), dan (3) D. (2), (4), dan (5)
- B. (1), (2), dan (4) E. (3), (4), dan (5)
- C. (1), (3), dan (5)

23. Amir mengajukan tuntutan hukum terhadap Hasan untuk menyelesaikan perkara di pengadilan karena dianggap telah mencemarkan nama baiknya. Upaya penyelesaian konflik tersebut merupakan contoh bentuk

- A. Arbitrasi D. Kompromi
- B. Stalemate E. Konsiliasi
- C. Ajudikasi

24. Konflik antara suami dan istri sering berlangsung terbuka di hadapan anak-anak mereka. Kehangatan keluarga kian hari kian menghilang. Dengan dalih kasihan kepada anak-anak maka mereka tidak bercerai meskipun sudah tidak serumah.

Dampak negatif konflik tersebut bagi ketenangan batin anak-anak mengakibatkan

- A. Pekerjaan dalam keluarga terbelengkalai
- B. Kerukunan dengan tetangga terganggu
- C. Silaturahmi dengan keluarga besar tidak ada lagi
- D. Kehidupan ekonomi keluarga lancar
- E. Anak-anak resah dan berubah kepribadiannya

25. Masyarakat Indonesia pada masa kolonial Belanda terdiri atas beberapa kelompok etnis dan ras yang beragam. Setiap kelompok etnis dan ras tidak terjalin hubungan pembauran. Aktivitas ekonomi masyarakat didominasi oleh ras yang jumlahnya sedikit. Bentuk konfigurasi masyarakat multikultural tersebut adalah

- A. Fragmental sosial
- B. Minoritas dominan
- C. Mayoritas seimbang
- D. Mayoritas dominan
- E. Kompetisi seimbang

26. Perhatikan pernyataan berikut!

- (1) Terletak di antara dua benua dan dua samudra
- (2) Budaya bersifat homogen dan ada sedikit kontak budaya
- (3) Kondisi geografis karena bentuk negara kepulauan
- (4) Benturan kepentingan antara kelompok yang berbeda budaya
- (5) Struktur tanah dan iklim serta cuaca yang berbeda

Pernyataan tersebut yang merupakan faktor penyebab Indonesia memiliki suku bangsa yang majemuk adalah

- A. (1), (2), dan (3) D. (2), (4), dan (5)
- B. (1), (2), dan (4) E. (3), (4), dan (5)
- C. (1), (3), dan (5)

27. Perhatikan pernyataan berikut!

- (1) Meskipun Andreas orang Manado, tetapi ia sangat menyukai seni wayang
- (2) Ketika mendengar gamelan Jawa, Bindar Siregar menggerutu karena membuat kantuk
- (3) Pak Hamid Lubis menyukai pakaian dengan bahan batik
- (4) Hartati selalu mengagungkan tari-tarian dari daerahnya
- (5) Tari Tor-tor, tidak atraktif, monoton, kata seseorang dari suku Bali

Tindakan sosial yang tidak sesuai dengan realitas masyarakat multikultural adalah

- A. (1), (2), dan (3) D. (2), (4), dan (5)
- B. (1), (2), dan (4) E. (3), (4), dan (5)
- C. (1), (3), dan (5)

28. Secara sosiologis keberhasilan pemerintah menangani berbagai pergolakan di daerah yang akan memisahkan diri dari NKRI berdampak positif untuk memperkuat
- Budaya nasional
 - Ekonomi nasional
 - Anggaran nasional
 - Kepemimpinan nasional
 - Integrasi nasional
29. Perusahaan tertentu yang memproduksi barang keperluan rumah tangga, memiliki ratusan karyawan. Di antara ratusan karyawannya tersebut ada yang ditugaskan untuk memasarkan hasil produk yang dihasilkan dan mereka bersaing agar mendapatkan apresiasi dan insentif dari perusahaan. Kelompok sosial pada deskripsi ditinjau dari tipenya termasuk
- Gemeinschaft*
 - Gessellschaft*
 - Solidaritas mekanik
 - Solidaritas organik
 - Kelompok sekunder
30. Beberapa ciri kehidupan sosial berikut!
- (1) Menerima keberadaan orang lain yang berbeda ciri sosialnya
 - (2) Mudah menyesuaikan diri dengan lingkungan baru
 - (3) Masing-masing kelompok saling menonjolkan identitasnya
 - (4) Bersikap toleran terhadap pihak lain yang berbeda
 - (5) Menganggap bahwa keyakinannya yang paling benar
- Karakteristik masyarakat multikultural ditunjukkan oleh
- (1), (2), dan (3) D. (2), (4), dan (5)
 - (1), (2), dan (4) E. (3), (4), dan (5)
 - (1), (3), dan (5)
31. Perhatikan pernyataan berikut!
- (1) Pertentangan antarkelompok atau golongan dalam negara
 - (2) Urbanisasi di perkotaan membuat jumlah penduduk kota meningkat
 - (3) Produk buatan asing membanjiri pasar dan mal di kota besar
 - (4) Perang saudara antara tentara pemerintah dengan tentara oposisi
 - (5) Bencana banjir bandang mengubah struktur sosial masyarakat
- Pernyataan tersebut merupakan faktor eksternal penyebab perubahan sosial, yaitu
- (1), (2), dan (3) D. (2), (4), dan (5)
 - (1), (2), dan (4) E. (3), (4), dan (5)
 - (1), (3), dan (5)
32. Masyarakat pantai khususnya di daerah pelabuhan besar yang banyak berkomunikasi dengan dunia luar akan lebih cepat mengalami perubahan sosial. Faktor penyebab perubahan sosial ektern tersebut adalah
- Perkembangan penduduk
 - Adanya penemuan baru
 - Konflik dalam masyarakat
 - Peperangan antarnegara
 - Masuknya budaya asing
33. Warga masyarakat perkotaan cenderung lebih terbuka. Mereka sudah biasa berinteraksi dan bekerja sama dengan orang lain yang berbeda suku, ras, dan agama. Dampak positif dari proses mutual akulturasi tersebut adalah
- Mempercepat proses modernisasi
 - Menghilangkan perbedaan sosial
 - Mengurangi sentimen kelompok primordial
 - Memudarkan identitas kepribadian individu
 - Mendorong homogenitas masyarakat luas
34. Perkembangan teknologi pertanian yang awalnya menggunakan tenaga hewan berkembang ke arah yang lebih maju dengan teknologi traktor. Modernisasi pertanian tersebut bertujuan untuk ...
- Meningkatkan hasil produksi pertanian masyarakat
 - Mengurangi risiko sakit terhadap hewan peliharaannya
 - Meningkatkan efektivitas dan efisiensi dalam pekerjaan
 - Mempermudah dalam menyelesaikan pekerjaan

- E. Mengurangi biaya produksi dalam pengelolaan pertanian
35. Penggunaan media sosial melalui jaringan internet seperti *facebook* maupun *twitter* menjadi *trend* untuk berkomunikasi secara virtual. Ditinjau dari dampak perubahan bagi masyarakat maka perubahan tersebut tergolong
- A. Besar
B. Cepat
C. Progres
- D. Dikehendaki
E. Direncanakan
36. Seorang ahli sosiologi Mac Iver menegaskan, bahwa perubahan sosial adalah perubahan dalam hubungan sosial (*social relationship*) atau perubahan terhadap keseimbangan hubungan sosial. Menurut definisi tersebut, perubahan hubungan sosial merupakan
- A. Penyebab perubahan sosial
B. Akibat dari perubahan sosial
C. Hakikat perubahan sosial
D. Dampak dari perubahan sosial
E. Pelaku perubahan sosial
37. Menjelang Hari Raya Idul Adha 1434 H, Masjid Al Furqon yang terletak di Kampung Balangboddong menyelenggarakan kerja bakti masak yang melibatkan semua warga sekitar dari berbagai latar belakang agama, suku, dan daerah. Berdasarkan uraian di atas, fungsi lembaga dalam menciptakan hubungan sosial harmonis adalah
- A. Berupaya menciptakan hubungan yang harmonis antarmanusia dengan Tuhan, sesama, dan lingkungan
B. Sarana bagi manusia untuk berhubungan dengan Tuhan sehingga manusia senantiasa mendekatkan diri pada-Nya
C. Menerapkan pola hubungan saling asih, asa, asuh di antara umat beragama khususnya dalam suatu wilayah
D. Meyakini bahwa ajaran agama adalah benar dan sama bagi semua pemeluknya yang ada di muka bumi ini
E. Menjalankan fungsi untuk memperkuat perasaan dan ide kolektif yang menjadi ciri dan inti persatuan umat
38. Sektor agraris meliputi kegiatan pertanian, seperti sawah, perladangan, perikanan dan peternakan. Aktivitas pertanian dalam menyediakan bahan pangan diatur sedemikian rupa agar tidak mengalami gagal panen. Uraian tersebut menggambarkan kegiatan agraria sebagai pelaksanaan dari lembaga ekonomi yang bertujuan untuk
- A. Mengatur produksi, distribusi, dan konsumsi
B. Memenuhi kebutuhan ketersediaan pangan
C. Menjaga stabilitas keamanan dalam negeri
D. Mengatur hubungan perdagangan internasional
E. Menjamin terjadinya pemerataan pembangunan
39. Perhatikan beberapa aktivitas lembaga pendidikan di bawah ini!
- (1) Mengurangi pengendalian orangtua
 - (2) Memperpanjang masa remaja
 - (3) Mempertahankan sistem kelas sosial
 - (4) Mempersiapkan anggota untuk mencari nafkah
 - (5) Menanamkan keterampilan yang perlu bagi partisipasi dalam demokrasi
- Dari beberapa aktivitas lembaga pendidikan di atas, yang termasuk fungsi laten adalah
- A. (1), (2), dan (3) D. (2), (4), dan (5)
B. (1), (2), dan (4) E. (3), (4), dan (5)
C. (1), (3), dan (5)
40. Keluarga berperan dalam membentuk kepribadian anak agar sesuai harapan orangtua dan masyarakatnya. Keluarga harus mampu menerapkan nilai-nilai atau norma-norma masyarakat melalui keteladanan orangtua. Ilustrasi di atas menunjukkan bahwa fungsi sosialisasi di dalam keluarga adalah
- A. Mengasahi seluruh anggota keluarga inti
B. Mengajarkan nilai dan norma yang berlaku
C. Melindungi anak dari gangguan fisik/psikis

- D. Memperjelas status anak dan orang lain
E. Memberikan rasa nyaman dan betah
41. Pilpres digelar lima tahun sekali sesuai ketentuan perundangan yang berlaku di Indonesia. Dengan Presiden dipilih langsung oleh rakyat diharapkan akan mampu mengemban amanah dan memerhatikan kesejahteraan rakyat. Tujuan lembaga politik dari ilustrasi tersebut adalah
- Mewujudkan keadilan dan kesejahteraan masyarakat sesuai amanah rakyat
 - Memperhatikan aturan yang berlaku untuk melangsungkan kekuasaan
 - Membuat aturan agar setiap penyelenggaraan pilpres ada peluang untuk menang
 - Mengemban tugas amanah yang diberikan oleh partai pendukungnya
 - Mengatur dan menyelenggarakan pelaksanaan Pemilihan Umum
42. Salah satu lembaga sosial adalah *unsanctioned institution* yang merupakan lembaga yang tidak disukai oleh masyarakat. Ciri lembaga tersebut adalah
- Tumbuh dengan tidak sengaja meskipun masyarakat menolak
 - Merupakan sistem norma yang mengatur masyarakat
 - Ditolak masyarakat, tetapi masyarakat tidak mampu memberantas
 - Sengaja dibentuk oleh masyarakat untuk mengatasi penyimpangan
 - Dikenal oleh sebagian kecil masyarakat, sedangkan lainnya menolak
43. Perhatikan pernyataan berikut:
- Memiliki tradisi dan tata tertib
 - Memerlukan alat perlengkapan untuk beraktivitas
 - Memiliki simbol dan bersifat super organik
 - Terdiri dari sejumlah lapisan sosial yang teratur
 - Perilaku yang disesuaikan dengan kedudukan sosial
- Yang menjadi ciri lembaga sosial adalah
- (1), (2), dan (3) D. (2), (4), dan (5)
 - (1), (2), dan (4) E. (3), (4), dan (5)
 - (1), (3), dan (5)
44. Secara garis besar laporan penelitian terdiri dari tiga bagian. Salah satu isinya adalah isi laporan (*body of the paper*). Kegunaan dari isi laporan tersebut antara lain
- Masyarakat dapat memahami, menilai, dan mungkin menyempurnakan hasil penelitian
 - Adanya kejelasan dan kemampuan meyakinkan pembaca dengan isi penelitian
 - Mampu menggambarkan pola berpikir ilmiah dalam keseluruhan proses penelitian
 - Pembaca dapat diajak mempelajari garis besar isi dan mengikuti laporan dengan mudah
 - Dapat menafsirkan sebuah kesimpulan akhir yang ditarik dari analisis yang telah dilakukan
45. Perhatikan tabel frekuensi pergi ke Mal dan nilai rata-rata sosiologi di suatu SMA kelas XII

Kategori	f	Nilai Rata-rata Sosiologi
Sangat Sering	22	6,1
Sering	19	7,0
Cukup Sering	7	8,2
Jarang	2	9,0
Jumlah	50	

Dari tabel di atas, peserta didik yang mempunyai nilai kurang baik adalah peserta didik yang

- Jarang ke Mal
- Cukup sering ke Mal
- Sering ke Mal
- Sangat sering ke Mal
- Tidak pernah ke Mal

46. Wawancara merupakan percakapan yang diarahkan pada masalah tertentu. Kegiatan ini merupakan proses tanya jawab secara lisan dari dua orang atau lebih yang saling berhadapan secara fisik (secara langsung). Salah satu kelebihan instrumen pengumpulan data dengan wawancara adalah
- Menggali informasi lebih dalam

- B. Tidak memakan waktu lama
 C. Dapat dijawab pada waktu senggang
 D. Mudah diolah data penelitiannya
 E. Responden menjawab pertanyaan dengan bebas
47. Setelah kenaikan harga BBM kehidupan nelayan mengalami keterpurukan, kegiatan melaut jadi berkurang karena tidak mampu membeli BBM. Hasil tangkapan tidak mencukupi untuk menafkahi keluarga. Dari ilustrasi tersebut, jika dilakukan penelitian rumusan masalah yang tepat adalah
- A. Bagaimana dampak kenaikan BBM terhadap kehidupan masyarakat nelayan?
 B. Seberapa besar kenaikan harga BBM berpengaruh terhadap hasil tangkapan?
 C. Mengapa kehidupan nelayan bergantung pada harga BBM?
 D. Bagaimana upaya nelayan mencukupi kebutuhan hidup sehari-hari?
 E. Benarkah kehidupan nelayan dipengaruhi tingginya harga kebutuhan pokok?
48. Joni melakukan penelitian di sekolahnya tentang pengaruh penggunaan internet terhadap kemudahan siswa mencari sumber belajar. Joni mendata para siswa yang menggunakan internet dari seluruh kelas. Kemudian, ia mengambil nomor urut kelipatan 3 dari seluruh pengguna internet. Teknik pengambilan sampel penelitian tersebut adalah
- A. Stratifikasi D. Kelompok
 B. Wilayah E. Random
 C. Purposif
49. Judul penelitian “Dampak kesenjangan penghasilan suami istri terhadap disorganisasi sosial dalam keluarga”. Variabel bebas dari penelitian tersebut adalah
- A. Kesenjangan penghasilan suami istri
 B. Penghasilan suami istri dan disorganisasi
 C. Disorganisasi sosial dalam keluarga
 D. Disorganisasi dalam keluarga karena kesenjangan
 E. Suami istri bekerja dan disorganisasi
50. Sebuah penelitian memfokuskan masalah penelitiannya pada satu variabel dengan kajian yang mendalam dan teknik pengumpulan data yang digunakan adalah wawancara. Jenis penelitian tersebut adalah
- A. Eksperimen D. Deskriptif
 B. Kuantitatif E. Eksplanatif
 C. Eksploratif

HUBUNGAN YANG ANEH

