

Prediksi SKD

Tryout dan Pembahasan

SKD

Seleksi Kompetensi Dasar

Kisi-kisi Tryout Seleksi Kompetensi Dasar

30 Soal Tes Wawasan Kebangsaan (Nasionalisme - Integritas - Bela negara - Pilar negara)

35 Soal Tes Inteligensi Umum (Verbal (Analogi, Silogisme, Analitis) - Numerik (Berhitung, Deret Angka, Perbandingan kuantitatif, Soal cerita) - Figural (Analogi, Ketidaksamaan, Serial))

45 Soal Tes Karakteristik Pribadi (Pelayanan Publik - Jejaring Kerja - Sosial Budaya - Teknologi Informasi dan Komunikasi - Profesionalisme - Anti Radikalisme)

Soal-Soal
HOTS
CPNS

Paket Soal Tryout SKD

1

Jumlah soal = 110
Waktu = 100 menit

Tes Wawasan Kebangsaan (TWK)

- Sebanyak 850 prajurit TNI yang tergabung dalam Satuan Tugas Pengamanan Perbatasan Indonesia-Papua Nugini diberangkatkan ke Papua dan Papua Barat untuk bertugas di sejumlah titik rawan sebagai upaya melaksanakan salah satu tujuan negara, yaitu
 - Ikut menjaga perdamaian dunia
 - Ikut melaksanakan ketertiban dunia
 - Melindungi segenap bangsa Indonesia
 - Memajukan kesejahteraan umum
 - Menghapuskan penjajahan di atas dunia
- Salah satu upaya untuk menunjang ketahanan fiskal adalah melalui pungutan pajak dari warga negara, yang kemudian digunakan untuk melaksanakan pembangunan yang bermanfaat bagi masyarakat luas. Kesadaran setiap warga negara Indonesia dalam melaksanakan kewajiban membayar pajak merupakan implementasi nyata dari Undang-Undang Dasar 1945 Pasal
 - 23 A
 - 27 Ayat 3
 - 30
 - 33 Ayat 2
 - 33 Ayat 3
- Pak Agus yang menjabat sebagai kepala kepegawaian pada sebuah instansi pemerintahan berniat merekomendasikan Arif untuk mendapatkan jabatan yang lebih tinggi meskipun tidak memiliki kemampuan kerja yang sesuai. Pak Agus kemudian memanfaatkan celah dalam sistem seleksi pegawai sehingga berhasil menempatkan Arif pada jabatan tersebut. Faktor penyebab utama terjadinya pelanggaran integritas pada keadaan di atas adalah
 - Kepandaian Pak Agus dalam memanfaatkan kesempatan
 - Penyalahgunaan kekuasaan
 - Tidak adanya pengawasan pada sistem seleksi pegawai
 - Standar operasional prosedur sistem seleksi pegawai yang tidak efektif
 - Adanya kerjasama untuk melakukan kecurangan
- Salah satu hak asasi warga negara yang dijamin pemerintah melalui Undang-Undang Dasar 1945 adalah hak untuk berserikat, berkumpul, dan mengeluarkan pendapat. Hal ini menunjukkan bahwa Pemerintah Indonesia
 - Memberikan kebebasan untuk berekspresi kepada setiap warga negara
 - Ingin menyerap aspirasi dari seluruh warga negara



- C. Menyadari adanya pemikiran kritis yang bersumber dari warga negara
- D. Membuktikan bahwa negara Indonesia adalah negara yang demokratis
- E. Ingin mempermudah pengawasan terhadap warganya dengan memberikan ruang berkumpul dan berserikat
5. Dampak dari perkembangan teknologi menjadikan komunikasi antar negara di dunia menjadi seperti tidak terbatas dan berjarak lagi. Hal ini juga meningkatkan peluang bagi budaya negara lain untuk masuk ke dalam negara kita. Sebagai generasi muda sikap paling tepat yang harus dilakukan dalam menghadapi kemajuan teknologi di bidang sosial budaya adalah
- A. Menjadikannya kesempatan untuk mempelajari kebudayaan dari negara lain
- B. Menjadikannya kesempatan untuk memperkenalkan kebudayaan bangsa ke negara lain
- C. Menerima dengan baik nilai sosial budaya negara lain yang sesuai dengan minat pribadi
- D. Mencegah dan tidak mau terpengaruh nilai sosial budaya dari negara lain
- E. Menyeleksi dengan hati-hati masuknya nilai sosial budaya dari negara lain
6. Demi meraih hasil maksimal dalam menghadapi Piala Asia, Timnas Sepakbola banyak memanggil pemain-pemain naturalisasi ke dalam tim. Nama-nama seperti Jordi Amat, Ivan Jerner, dan Justin Hubner dipastikan menjadi andalan dari tim asuhan pelatih Shin Tae Yong. Dalam perjalanannya, nama-nama pemain di atas mendapatkan status kewarganegaraannya melalui
- A. Naturalisasi biasa
- B. Naturalisasi istimewa
- C. Keturunan
- D. Perkawinan
- E. Jasa terhadap bangsa
7. Sebagai semboyan nasional, Bineka Tunggal Ika diharapkan menjadi suatu hal yang dapat mencerminkan Indonesia. Sehingga menjadi kewajiban bagi seluruh warga negara untuk mengaktualisasikan Bhinneka Tunggal Ika dalam kehidupan bermasyarakat dan bernegara. Berikut ini merupakan contoh aktualisasi Bhinneka Tunggal Ika dalam kehidupan sehari-hari dalam bidang sosial budaya, kecuali
- A. Mengadakan event pagelaran seni budaya dari berbagai macam daerah di Indonesia
- B. Mempromosikan budaya-budaya dari suku lain di tingkat internasional
- C. Bersedia untuk mempelajari budaya dari suku lain
- D. Meminta jamuan dari daerah asal saat melakukan kunjungan kerja ke wilayah suku lain
- E. Menghormati orang-orang dari suku lain dalam kehidupan sehari-hari
8. Pak J divonis bersalah di mata hukum dan mendapatkan hukuman selama 10 tahun. Namun, setelah menjalani masa pidana selama 2 tahun, ternyata Pak J dinyatakan tidak bersalah, sehingga Presiden memberikan keputusan untuk memulihkan haknya dalam kemampuan, kedudukan, dan harkat serta martabatnya, sesuai dengan wewenang Presiden berdasarkan UUD 1945
- A. Pasal 13 Ayat 3
- B. Pasal 14 Ayat 1
- C. Pasal 14 Ayat 2
- D. Pasal 15
- E. Pasal 16
9. Pada November 2023 warga Aceh menolak gelombang kedatangan pengungsi Rohingya dari Myanmar, karena dipandang dapat menimbulkan masalah baru terutama di bidang sosial dan ekonomi. Pemerintah dituntut untuk segera mencari jalan keluar masalah ini, karena kedatangan imigran gelap secara masif ini merupakan salah satu contoh ancaman terhadap integrasi nasional, yaitu ancaman



- A. Hibrida
B. Militer
C. Nonmiliter
D. Aktual
E. Potensial
10. Saat sedang mengantre di sebuah kantor pelayanan publik Andre melihat seorang nenek berada di belakangnya. Andre kemudian meminta nenek tersebut untuk berpindah ke depannya supaya dapat mendapatkan pelayanan dengan lebih cepat. Perilaku Andre tersebut termasuk ke dalam norma berdasarkan daya pengikat
- A. Cara
B. Kebiasaan
C. Tata kelakuan
D. Adat istiadat
E. Sopan santun
11. Dalam perjalanan untuk melaksanakan amanat UUD 1945 melindungi segenap bangsa Indonesia dan seluruh tumpah darah Indonesia, Pemerintah Indonesia membuat perjanjian dengan negara lain terkait batas-batas negara yang jelas. Perjanjian batas negara ini merupakan contoh perjanjian paling formal dari dua negara atau lebih yang disebut
- A. Piagam
B. Konvensi
C. Deklarasi
D. Charter
E. Traktat
12. Pancasila sebagai dasar negara Indonesia mengandung tiga nilai yaitu nilai dasar, nilai instrumental, dan nilai praksis. Sebagai penjabaran dari nilai dasar, nilai instrumental berperan penting dalam menjaga keteraturan dalam kehidupan bermasyarakat. UUD 1945 sebagai sumber hukum tertinggi memuat banyak nilai instrumental Pancasila, salah satunya adalah nilai instrumental dari sila kelima yang tertuang dalam
- A. Pasal 19
B. Pasal 34 Ayat 1
C. Pasal 35
D. Pasal 29
E. Pasal 28E Ayat 1
13. Pak Yadi berhasil memenangkan Pemilihan Kepala Desa di tempat tinggalnya dengan keunggulan yang cukup signifikan. Setelah dilantik sebagai seorang kepala desa, upaya langsung yang dapat ia lakukan untuk ikut berpartisipasi dalam usaha bela negara adalah
- A. Mengajak warganya untuk mencintai produk-produk dalam negeri
B. Mendorong generasi muda di desa untuk belajar giat dan berusaha meraih cita-cita
C. Membuat pelatihan bagi generasi muda di desa untuk persiapan menjadi tenaga militer
D. Menyisihkan sebagian pendapatannya untuk membantu orang-orang di sekitarnya
E. Memastikan seluruh warganya mendapatkan kesejahteraan yang layak
14. Demokrasi Pancasila merupakan sistem politik di Indonesia yang mengintegrasikan prinsip-prinsip demokrasi dengan nilai-nilai Pancasila. Hal ini memuat arti bahwa demokrasi diharapkan dapat berjalan sesuai dengan nilai-nilai yang ada pada setiap sila Pancasila. Pada saat ini pelaksanaan demokrasi Pancasila masih memiliki tantangan dan terkendala oleh banyak faktor, yang salah satunya adalah
- A. Jarak waktu pelaksanaan Pemilu yang cukup lama
B. Terbatasnya kebebasan berpendapat di kalangan masyarakat
C. Munculnya pihak-pihak yang mementingkan kepentingan pribadi dan golongan
D. Belum maksimalnya pemenuhan hak dasar warga negara
E. Masih lemahnya penanganan hukum di Indonesia
15. Akhir-akhir ini banyak berita tentang pertikaian antara pengendara kendaraan bermotor dengan masyarakat yang disebabkan oleh penggunaan knalpot yang dimodifikasi atau yang lebih dikenal dengan knalpot brong. Ini terjadi karena masyarakat



- terganggu oleh suara berlebihan yang keluar dari knalpot brong tersebut. Padahal pemerintah telah menetapkan bahwa knalpot brong sendiri dilarang untuk digunakan pada kendaraan bermotor. Berdasarkan nilai-nilai Pancasila, pertikaian di atas dapat dihindari apabila
- Pengendara bermotor selaku warga negara mendapatkan haknya secara bebas dari pemerintah
 - Pengendara bermotor selaku warga negara melaksanakan hak dan kewajibannya
 - Pemerintah dapat mengakomodir keinginan pengendara bermotor untuk menggunakan knalpot brong
 - Pengendara bermotor selaku warga negara mengetahui peraturan yang dikeluarkan oleh pemerintah
 - Masyarakat lebih menghargai hak dari pengendara bermotor saat di jalan raya
- Pembangunan infrastruktur menjadi salah satu target utama pemerintah untuk meningkatkan konektivitas antar kawasan sebagai salah satu langkah pemerataan pembangunan. Selain itu pembangunan infrastruktur diharapkan mampu mendorong pertumbuhan ekonomi Indonesia melalui penciptaan lapangan kerja dan pertumbuhan titik ekonomi baru. Ini sesuai dengan amanat nilai dasar Pancasila, yaitu nilai
 - Ketuhanan
 - Kemanusiaan
 - Persatuan
 - Kerakyatan
 - Keadilan
 - Sejak tahun 2015 Indonesia telah mengalami fenomena bonus demografi yang masa akhir puncaknya diperkirakan terjadi pada tahun 2035. Namun, yang terlihat mencolok pada saat ini justru dampak negatif dari fenomena tersebut, yaitu
 - Tingginya angka pengangguran
 - Pengaruh budaya asing yang begitu kuat
 - Tingginya angka kejadian tindak kejahatan
 - Banyaknya generasi muda yang putus sekolah
 - Tingginya laju urbanisasi yang menjadikan desa susah untuk berkembang
 - Dalam perjalanan sejarah perjuangan bangsa Indonesia, keyakinan akan kekuasaan Tuhan Yang Maha Esa menjadi kekuatan yang menggerakkan bangsa Indonesia dalam memperoleh kemerdekaan. Pengakuan dan kepercayaan bangsa Indonesia terhadap Tuhan Yang Maha Esa ini kemudian dipertegas dalam
 - Pembukaan UUD 1945 alinea pertama
 - Pembukaan UUD 1945 alinea kedua
 - Pembukaan UUD 1945 alinea ketiga
 - Pembukaan UUD 1945 alinea keempat
 - Seluruh jawaban benar
 - Gaya hidup eksklusif yang ditampilkan oleh selebritis dan public figure lain melalui media sosial sangat berpengaruh terhadap cara pandang generasi muda yang akhirnya berlomba-lomba untuk mengikutinya dengan menggunakan barang-barang buatan luar negeri supaya terlihat lebih bergengsi. Dalam jangka panjang situasi ini dapat menjadi ancaman bagi bangsa utamanya dalam bidang
 - Sosial
 - Budaya
 - Politik
 - Ideologi
 - Ekonomi
 - Saat sedang mengurus pembuatan Kartu Tanda Penduduk Zico mendapatkan tawaran untuk mempersingkat proses dengan membayar sejumlah uang. Namun Zico menolak tawaran tersebut dan memilih untuk mengikuti prosedur sesuai aturan yang berlaku. Tindakan Zico ini menjadi salah satu upaya meminimalisasi terjadinya korupsi berdasarkan asas
 - Partisipasi
 - Akuntabilitas
 - Transparansi
 - Responsif
 - Efisiensi
 - Pembukaan Undang-Undang Dasar Negara Republik Indonesia Tahun 1945 mengandung pokok-pokok pikiran yang menggambarkan suasana kebatinan dari Undang-Undang Dasar Negara Republik



Indonesia Tahun 1945. Salah satunya adalah pokok pikiran keadilan sosial yang implementasinya dalam kehidupan bermasyarakat dan bernegara terwujud dalam bentuk

- A. Pemerintah mengedepankan kepentingan masyarakat bersama di atas kepentingan individu ataupun golongan
- B. Pemerintah menjamin kebebasan beribadah menurut agama kepercayaannya bagi seluruh warganya
- C. Pemerintah melakukan segala daya upaya untuk melindungi segenap bangsa Indonesia dan seluruh tumpah darah Indonesia
- D. Pemerintah selalu mengedepankan asas musyawarah untuk mufakat dalam menyelesaikan suatu persoalan
- E. Pemerintah memberikan kesempatan yang sama bagi seluruh masyarakat untuk berusaha mendapatkan tingkat pendapatan dan kesejahteraan yang layak

22. Saat ini penduduk Indonesia tercatat sebagai tiga besar pengguna media sosial di dunia bersama dengan negara Brazil dan India. Hal ini bukan merupakan sesuatu yang mengejutkan mengingat di Indonesia hampir seluruh penduduk mulai dari anak-anak sampai orang dewasa menggunakan media sosial untuk melihat dan berbagi informasi. Tanggung jawab kita sebagai warga negara dalam menggunakan media sosial supaya sejalan dengan nilai Pancasila adalah

- A. Menyampaikan informasi yang berasal dari orang yang kita percaya
- B. Menyebarkan informasi yang benar dan bermanfaat
- C. Menyebarkan informasi yang dibutuhkan banyak orang
- D. Menyebarkan informasi yang sudah disebarkan oleh banyak orang lain
- E. Menyebarkan informasi terkait berita terkini di Indonesia

23. Mitha sedang melakukan pelayanan saat seorang tamu yang dikenalnya sebagai teman dekat atasannya mendatanginya dan

meminta untuk mendapatkan pelayanan terlebih dahulu karena sedang terburu-buru untuk pergi ke suatu tempat. Namun dengan sopan Mitha menolak permintaannya dan mengarahkan tamu tersebut untuk antre sesuai urutannya. Perilaku Mitha menunjukkan wujud good governance yang termasuk dalam prinsip

- A. Responsiveness
- B. Orientation
- C. Participation
- D. Equality
- E. Rule of Law

24. Akhir-akhir ini di Indonesia muncul seruan boikot terhadap produk-produk yang terafiliasi dengan negara Israel sebagai bentuk protes terhadap serangan yang dilancarkan oleh Israel ke wilayah Palestina yang menelan banyak korban. Tindakan ini dapat termasuk ke dalam penerapan nilai dasar Pancasila yaitu

- A. Ketuhanan
- B. Kemanusiaan
- C. Persatuan
- D. Kerakyatan
- E. Keadilan

25. Penyalahgunaan trotoar menjadi pemandangan yang sering kita jumpai, utamanya di kota-kota besar. Banyak pengendara kendaraan bermotor yang memaksakan untuk melewati jalur khusus untuk pejalan kaki tersebut. Perbuatan pengendara motor yang melanggar lalu lintas dengan melewati trotoar ini tersebut bertentangan dengan nilai Pancasila, utamanya sila

- A. Pertama
- B. Kedua
- C. Ketiga
- D. Keempat
- E. Kelima

26. Pada masa kampanye pemilihan umum gesekan antar pendukung capres sangat rentan terjadi. Berbagai macam berita dan pendapat terkait calon presiden pilihan beredar di media sosial dengan intensitas yang sangat tinggi. Beberapa orang



bahkan menggunakan bahasa yang sangat kasar untuk menyerang calon presiden lain dan pendukungnya. Tantangan penerapan Pancasila yang terlihat dalam ilustrasi di atas adalah

- A. Hoaks
 - B. Chauvinisme
 - C. Individualisme
 - D. Fanatisme
 - E. Egoisme
27. Sejarah perjuangan bangsa Indonesia dalam melawan kolonialisme tercatat dalam berbagai periode yang sangat panjang, dimulai dari perjuangan yang bersifat kedaerahan sampai masuk ke masa pergerakan nasional yang mencapai titik kulminasi berupa Sumpah Pemuda yang berhasil menghasilkan
- A. Arah perjuangan yang jelas menuju kemerdekaan
 - B. Semangat nasionalisme bersama
 - C. Konsensus integrasi nasional
 - D. Kesepakatan untuk mengesampingkan kedaerahan
 - E. Lahirnya tokoh-tokoh utama dalam perjuangan bangsa Indonesia
28. Sebagai identitas budaya bangsa Indonesia, tradisi gotong royong yang sarat dengan nilai-nilai luhur harus kita lestarikan. Terlebih lagi Indonesia merupakan negara yang majemuk, baik dari sisi agama, budaya, suku maupun bahasa. Sehingga gotong royong dapat menjadi sarana untuk
- A. Mencegah terjadinya berbagai konflik
 - B. Meningkatkan rasa kerja sama dan persatuan warga
 - C. Membantu meringankan beban orang lain
 - D. Mengurangi kesalahpahaman akibat konflik sosial
 - E. Merekatkan dan menguatkan solidaritas sosial
29. Dalam besaran UMK Provinsi Jawa Tengah yang diumumkan pada akhir tahun 2023, Kota Semarang masih menempati daerah dengan UMK tertinggi, sementara UMK

terendah adalah Kabupaten Banjarnegara. Penetapan UMK oleh daerah ini merupakan perwujudan dari salah satu asas otonomi daerah, yaitu

- A. Sentralisasi
 - B. Desentralisasi
 - C. Dekonsentrasi
 - D. Destrukturisasi
 - E. Tugas pembantuan
30. Perkembangan teknologi komunikasi selain memberikan peluang juga membawa tantangan dan permasalahan dalam kehidupan berbangsa dan bernegara di Indonesia. Salah satu permasalahan yang marak terjadi akhir-akhir ini adalah terjadinya pelanggaran HAM melalui media internet yang dapat berakibat terjadinya gangguan psikologis pada korban, yaitu
- A. Penculikan dan perdagangan manusia dengan memanfaatkan media sosial
 - B. Provokasi dan ujaran kebencian yang berlebihan melalui media sosial
 - C. Kasus bullying yang dilakukan secara terbuka di media sosial
 - D. Penipuan yang dilakukan dengan mengirim pesan palsu melalui aplikasi whatsapp
 - E. Tingginya tuntutan hukum akibat kasus pelanggaran undang-undang ITE

Tes Inteligensi Umum (TIU)

31. BAJAU : MEMUKUL
- A. Provokasi : Gangguan
 - B. Marka : Garis
 - C. Kaki : Sepatu
 - D. Berangkat : Tiba
 - E. Baju : Kain
32. MAKAN HATI : MENJADI BEBAN PIKIRAN
- A. Kepala Batu : Menghargai
 - B. Lurus Hati : Iri
 - C. Mata Angin : Arah
 - D. Buah Tangan : Banyak Bicara
 - E. Muka Dua : Dermawan



33. PASAK : BAJI
- Galat : Keliru
 - Derai : Ombak
 - Mangkus : Obat
 - Kadaluwarsa : Tepat
 - Pemerintah : Eksekutif
34. TIRANA : ALBANIA = ... : ...
- Manat : Azerbaijan
 - Botswana : Gaborone
 - Yuan : China
 - Santiago : Brazil
 - Luanda : Angola
35. Konvers pernyataan “Jika saya mengantuk maka saya akan tidur” adalah
- Jika tidak mengantuk, saya tidak tidur.
 - Saya mengantuk, saya nonton liga Inggris.
 - Saya tidak mengantuk dan saya tidak tidur.
 - Jika saya akan tidur maka saya mengantuk.
 - Jika saya tidak tidur maka saya tidak mengantuk.
36. Pernyataan “Jika laut pasang maka tiang dermaga tenggelam” ekuivalen dengan ...
- Jika laut pasang maka dermaga tenggelam.
 - Jika laut pasang maka tiang dermaga tidak tenggelam.
 - Jika laut tidak pasang maka tiang dermaga tenggelam.
 - Jika laut tidak pasang maka tiang dermaga tidak tenggelam.
 - Jika tiang dermaga tidak tenggelam maka laut tidak pasang.
37. Diberikan pernyataan-pernyataan sebagai berikut:
- Jika penguasaan matematika rendah maka sulit untuk menguasai IPA.
 - IPA tidak sulit dikuasai atau IPTEK tidak berkembang.
 - Jika IPTEK tidak berkembang maka negara akan semakin tertinggal.
- Dari ketiga pernyataan di atas, dapat disimpulkan ...
- Jika penguasaan matematika rendah maka negara akan semakin tertinggal.
 - Jika penguasaan matematika rendah maka IPTEK berkembang.
 - IPTEK dan IPA berkembang.
 - IPTEK dan IPA tidak berkembang.
 - Sulit untuk memajukan negara.
38. Diberikan pernyataan-pernyataan sebagai berikut:
- Jika Upik rajin belajar maka naik kelas.
 - Jika Upik tidak dapat hadiah maka tidak naik kelas.
 - Upik rajin belajar.
- Kesimpulan yang sah adalah ...
- Upik naik kelas
 - Upik dapat hadiah
 - Upik tidak dapat hadiah
 - Upik naik kelas dan dapat hadiah
 - Upik dapat hadiah atau naik kelas
39. Film *Bundaku Tersayang* memecahkan rekor paling banyak ditonton orang. Sementara film *Pencuri yang Baik Hati* memperoleh 4 buah piala Citra, antara lain sutradara dan peran utama pria terbaik. Film *Rinduku Terpaut di Awan* tidak ditonton sebanyak orang dibandingkan dengan film terdahulu, tetapi mendapat piala Citra dua lebih banyak dari film *Pencuri Yang Baik Hati* yang merupakan film dokumenter terbaik. Film *Tersanjung* merupakan film yang laris di bioskop. Film *Kisah Klasik* mendapatkan 5 piala citra. Manakah film terbaik berdasarkan piala Citra yang diperolehnya?
- Rinduku Terpaut di Awan
 - Pencuri Yang Baik Hati
 - Bundaku Tersayang
 - Tersanjung
 - Kisah Klasik
40. Ibu Dina ingin membeli polis asuransi jiwa dengan premi termurah. Setelah meneliti puluhan perusahaan asuransi, terpilihlah lima asuransi yang kredibilitasnya cukup meyakinkan. Harga polis Asuransi Bahagia cukup murah, tetapi premi yang harus dibayar per bulannya lebih mahal dari Asuransi Asal Selamat, meski tetap lebih murah dibandingkan dengan Asuransi Seger



Waras. Premi yang harus dibayar untuk Asuransi Ayam Tentrem tiap bulannya lebih murah dibandingkan dengan Asuransi Asal Selamat., tetapi masih kalah murah dengan Asuransi Timbang Apes. Polis Asuransi mana yang memenuhi kriteria Ibu Dina?

- A. Asuransi Timbang Apes
- B. Asuransi Asal Selamat
- C. Asuransi Ayam Tentrem
- D. Asuransi Seger Waras
- E. Asuransi Bahagia

41. Saat liburan ke luar kota, bagian konsumsi mengharuskan peserta menentukan paket makanan dengan ketentuan berikut.

- 1. Peserta hanya boleh memilih empat makanan.
- 2. Makanan yang dapat dipilih adalah es campur, bakso, soto, nasi kuning, nasi rames, dadar gulung, dan kue bolu.
- 3. Peserta harus mengambil nasi kuning atau nasi rames, tetapi tidak keduanya.
- 4. Dadar gulung dan kue bolu hanya tersedia untuk paket nasi rames.
- 5. Es campur hanya tersedia untuk paket nasi kuning.
- 6. Bakso tidak boleh dipilih bersamaan kue bolu atau soto.

Jika dalam suatu paket seorang peserta mengambil nasi rames maka makanan lain yang harus diambil adalah

- A. Bakso, dadar gulung, soto
- B. Bakso, es campur, dadar gulung
- C. Soto, dadar gulung, kue bolu
- D. Soto, dadar gulung, bakso
- E. Bakso, es campur, dadar gulung

42. Hasil survei dari lima acara televisi, yakni sinetron, musik, animasi, berita, dan film terhadap penduduk suatu kota adalah sebagai berikut.

- 1. Acara musik lebih disukai daripada berita, tetapi musik kurang mendidik dibandingkan berita.
- 2. Acara sinetron lebih disukai daripada animasi, tetapi sinetron kurang mendidik dibandingkan animasi.
- 3. Acara animasi lebih disukai daripada musik, tetapi animasi kurang mendidik dibandingkan musik.

4. Acara berita lebih disukai daripada film, tetapi film kurang mendidik dibandingkan berita.

Jika acara sinetron dijadikan acara unggulan televisi maka pemirsa akan menonton acara yang paling

- A. Mendidik dan juga paling tidak disukai
- B. Mendidik walaupun kurang disukai
- C. Mendidik dan belum tentu disukai
- D. Kurang mendidik dan paling tidak disukai
- E. Kurang mendidik walaupun paling disukai

43. 51% dari 576% dari $\frac{22}{576} = \dots$

- A. 0,0221
- B. 0,1122
- C. 1,2452
- D. 4,2248
- E. 45,162

44. $(6 \times 31)^2 - (201 - 14)^2 = \dots$

- A. 373
- B. 186
- C. 36
- D. -186
- E. -373

45. Nilai $37,5\%$ dari $0,333$ adalah ...

- A. 0,008
- B. 0,015
- C. 0,1
- D. 0,125
- E. 0,321

46. Manakah nilai berikut yang terbesar?

- A. $\frac{1}{3}$ dari 24
- B. $\frac{2}{7}$ dari 28
- C. $\frac{1}{9}$ dari 72
- D. $\frac{1}{4}$ dari 32
- E. $\frac{2}{3}$ dari 15

47. 1, 2, 3, 6, 7, 8, ..., 17, 18, 36, 37,

- A. 11, 38
- B. 16, 39
- C. 16, 38
- D. 16, 36
- E. 11, 36



48. 7, 12, 14, 16, 28, ..., ..., 24, 112, 28
- 20, 48
 - 20, 56
 - 24, 48
 - 32, 48
 - 24, 56

49. 2, 9, 6, 12, ..., 18, 20, 27, 30, ...
- 11, 36
 - 12, 39
 - 15, 36
 - 15, 39
 - 12, 36

50. Jika a sembarang bilangan real dan $x = 5a^2 + 20$ dan $y = a^2 + 50$ maka ...
- $x > y$
 - $x < y$
 - $x = y$
 - x dan y tidak bisa ditentukan
 - $2x > 2y$

51. Jika x = jumlah bilangan genap antara 1 sampai dengan 30 dan y = jumlah bilangan ganjil antara 1 sampai dengan 30 maka ...
- $x > y$
 - $x < y$
 - $x = y$
 - x dan y tidak bisa ditentukan
 - $x > 2y$

52. Jika $x = 16,67\%$ dan $y = \frac{2}{12}$ maka ...
- $x > y$
 - $x < y$
 - $x = y$
 - x dan y tidak bisa ditentukan
 - $2x > 2y$

53. Seorang petani membeli beberapa ekor sapi dengan harga Rp45.000.000,00, kemudian dijual dengan harga Rp52.000.000,00. Petani tersebut mendapatkan untung Rp700.000,00 per ekor. Berapa ekor sapi yang dibeli dan dijualnya itu?
- 7 ekor
 - 8 ekor
 - 9 ekor
 - 10 ekor
 - 11 ekor

54. Seseorang bersepeda motor dengan kecepatan tetap menempuh jarak 20 km dalam waktu 30 menit. Berapa jam waktu yang ia perlukan untuk menempuh jarak 140 km?
- 2 jam
 - 2,5 jam
 - 3 jam
 - 3,5 jam
 - 4 jam

55. Satu tim yang terdiri atas 16 orang dapat menyelesaikan sebuah pekerjaan dalam 9 hari. Jika 4 orang dari tim tersebut tidak dapat bekerja karena sakit, berapa persen penambahan hari untuk menyelesaikan pekerjaan tersebut?
- 12,5%
 - 25%
 - 33,33%
 - 40%
 - 60%

56. Luas suatu persegi A adalah 25 cm². Jika keliling dari persegi B adalah 3 kali keliling persegi A maka luas persegi B adalah ...
- 81 cm²
 - 100 cm²
 - 144 cm²
 - 225 cm²
 - 256 cm²

57. Yono bersepeda ke sekolah dengan kecepatan 20 km/jam. Ternyata bekal Yono tertinggal sehingga Ibu Yono harus mengantarkan bekal tersebut. Jika Ibu Yono berangkat 10 menit kemudian mengendarai sepeda motor dengan kecepatan 30 km/jam, setelah berapa kilometer Ibu Yono menyusul Yono?
- 5 km
 - 10 km
 - 15 km
 - 20 km
 - 25 km

58. Jika n bilangan bulat positif maka hasil dari $\left(1 - \frac{1}{2}\right)\left(1 - \frac{1}{3}\right)\left(1 - \frac{1}{4}\right)\dots\left(1 - \frac{1}{n}\right)$ adalah



- A. $\frac{1}{n}$ D. $\frac{2}{n(n-1)}$
 B. $\frac{n-1}{n}$ E. $\frac{2}{n}$
 C. $\frac{1}{n+1}$

59. Carilah gambar yang berbeda.



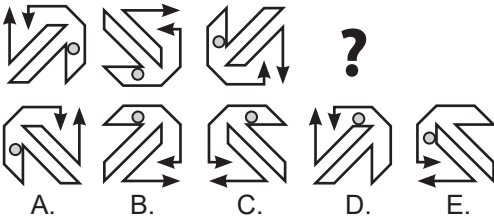
- A. B. C. D. E.

60. Carilah gambar yang berbeda.



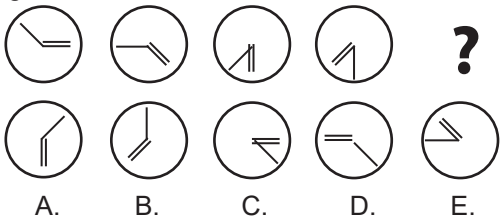
- A. B. C. D. E.

61. Carilah gambar selanjutnya pada seri gambar berikut ini.



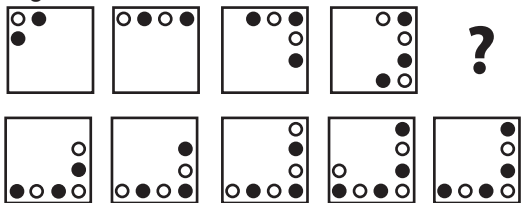
- A. B. C. D. E.

62. Carilah gambar selanjutnya pada seri gambar berikut ini.



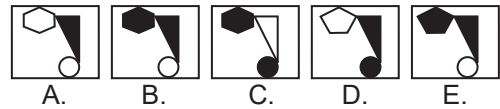
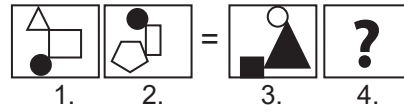
- A. B. C. D. E.

63. Carilah gambar selanjutnya pada seri gambar berikut ini.


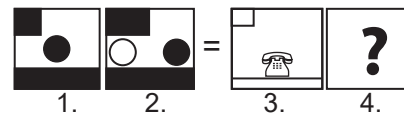


- A. B. C. D. E.

64. Carilah gambar yang yang tepat untuk mengisi posisi 4 menggunakan logika gambar 1 dan 2.



65. Carilah gambar yang yang tepat untuk mengisi posisi 4 menggunakan logika gambar 1 dan 2.



Tes Karakteristik Pribadi (TKP)

66. Saya sedang berkonsentrasi untuk melayani customer, tiba-tiba saya mendengar seseorang dari tempat antrian menelepon dengan suara sangat keras yang cukup mengganggu saya dan beberapa orang yang antri di sekelilingnya. Saya akan

- Menegur dan memintanya untuk meneruskan menelepon di luar ruangan
- Membiarkannya saja sampai ditegur oleh orang-orang di sekitarnya
- Memberikan kode kepada *security* untuk menegur dan mengingatkannya
- Menegur dan memintanya untuk memelankan suaranya saat menelepon
- Tetap berusaha fokus melakukan pelayanan seolah tidak terjadi apa-apa

67. Kantor kami bekerja menggunakan sistem *shift* untuk melaksanakan pelayanan. Suatu hari teman saya terlambat datang saat jam



kerja saya sudah habis, padahal pelanggan yang mengantre untuk mendapatkan pelayanan banyak. Langkah yang saya lakukan adalah

- A. Menggantikannya sampai dia datang dan akan memarahinya karena terlambat datang
 - B. Tetap melaksanakan pelayanan karena pelayanan tidak boleh terhenti
 - C. Melaporkan situasi kepada atasan dan meminta petunjuk lanjutan
 - D. Meminta teman yang sedang tidak melaksanakan pelayanan untuk menggantikan teman saya sampai dia datang
 - E. Segera menghubungi teman saya karena banyak orang sudah menunggunya untuk mendapatkan pelayanan
68. Saat sedang melakukan pelayanan, tiba-tiba *customer* yang sedang saya layani mengatakan bahwa pelayanan saya kurang ramah dan menyenangkan. Padahal saya merasa sudah melakukan pelayanan yang sesuai dengan standar pelayanan dan berusaha seramah mungkin. Saya akan
- A. Menerima masukannya dan berusaha melayaninya lebih baik lagi
 - B. Menerima masukannya dan berusaha mempercepat pelayanannya
 - C. Memintanya untuk memasukkan keluhannya dalam kotak saran resmi untuk perbaikan instansi kami
 - D. Merasa tidak terima dan meminta teman untuk melanjutkan pelayanan kepadanya
 - E. Menanyakan kepadanya bagian mana dari pelayanan saya yang dirasa kurang olehnya
69. Seseorang datang ke kantor dari tempat yang jauh dan mengatakan sudah memiliki jadwal janji untuk mendapatkan pelayanan. Setelah saya melihat jadwal pelayanan, ternyata jadwal pelayanan untuknya masih besok dan saat ini sudah ada jadwal pelayanan lain yang harus dilakukan. Saya akan
- A. Tetap melayaninya dan menganggap dia sama dengan antrean yang lain

- B. Memintanya untuk datang kembali keesokan harinya sesuai jadwal pelayanannya
- C. Menghubungi atasan dan meminta arahan untuk tindak lanjutnya
- D. Meminta teman yang sedang tidak ada pelayanan untuk melayaninya
- E. Memintanya menunggu setelah saya menyelesaikan seluruh jadwal pelayanan hari ini dan akan melayaninya setelah itu

70. Teman-teman sekampus Anda merencanakan untuk berkumpul lagi dan mengadakan reuni di kota tempat menuntut ilmu dulu. Acara yang diagendakan adalah makan malam bersama yang melibatkan semua alumni dan keluarga. Anda yang kebetulan berdomisili di kota tersebut dipercaya untuk memilihkan restoran untuk acara tersebut. Langkah yang Anda lakukan adalah

- A. Memilih restoran dengan harga terjangkau agar seluruh peserta acara mampu dan tidak merasa keberatan dengan biaya yang harus dikeluarkan
- B. Memilih restoran yang sangat istimewa baik dari harga dan kualitas pelayanan sehingga akan menjadi pengalaman makan yang sangat berkesan
- C. Memilih restoran yang terkenal bersih dan memiliki menu enak mengingat mungkin ada yang membawa anak kecil
- D. Memilih restoran yang mudah dijangkau dan memiliki lokasi yang nyaman untuk berkumpul
- E. Memilih restoran yang memiliki kenangan bagi sebagian besar peserta alumni saat mahasiswa dulu

71. Saya bekerja di bagian pelayanan sebuah perusahaan. Saat mendekati jam pulang, sudah tidak ada antrean pelayanan di meja saya, sementara saya melihat masih cukup banyak antrean pelayanan di meja teman saya. Saya akan

- A. Menutup pelayanan dan menggunakan waktu tersisa untuk beristirahat sambil menunggu jam pulang



- B. Membereskan peralatan dan berkas pelayanan sambil menunggu barangkali ada antrean baru di meja pelayanan saya
- C. Menghampiri meja teman saya dan membantunya melakukan pelayanan agar bisa selesai lebih cepat
- D. Mengarahkan sebagian antrean untuk menuju meja pelayanan saya supaya pelayanan bisa berjalan lancar dan cepat selesai
- E. Menanyakan kepada teman saya apakah membutuhkan bantuan saya untuk menyelesaikan antrean pelayanan
72. Risma adalah seorang penjual daging di Pasar Manis yang dikenal memiliki banyak pelanggan karena selalu memberikan pelayanan yang ramah dan cepat. Suatu hari, Risma mendapat komplain dari pelanggan yang mendapati daging tidak sesuai dengan pesannya dan baru diketahui setelah daging tersebut dimasak. Langkah yang akan Risma lakukan adalah
- A. Meminta maaf dan akan memberikan daging sesuai pesanan dengan setengah harga
- B. Meminta maaf dan segera memberikan daging sesuai pesanan dan menganggap daging yang sebelumnya adalah bonus
- C. Menerima komplain dan berjanji akan berusaha tidak akan melakukan kesalahan serupa lagi
- D. Menerima komplain dan berjanji akan memberikan potongan harga pada pembelian daging berikutnya
- E. Menerima komplain dan menganggap itu hal yang wajar mengingat pembeli yang begitu banyak
73. Saya dikenal memiliki banyak hubungan pertemanan yang baik dengan orang lain, di dunia kerja maupun kehidupan bermasyarakat. Mudah-mudahan saya membuat pertemanan dan menjaga hubungan pertemanan ini menurut saya disebabkan karena
- A. Saya merupakan sosok yang hangat dan menyenangkan
- B. Saya pandai menempatkan diri dalam hubungan pertemanan
- C. Saya sangat perhatian dan selalu siap membantu teman
- D. Saya merupakan pendengar yang baik dan selalu bisa memberikan solusi permasalahan
- E. Saya tulus dan tidak pernah mengambil keuntungan dalam sebuah hubungan pertemanan
74. Seorang karyawan yang lebih baru dari saya mendapatkan promosi yang sudah sangat lama saya idamkan. Padahal selama ini menurut saya dia bekerja biasa dan saya tidak melihat kinerja yang menonjol dari dirinya. Menurut saya
- A. Pimpinan melihat kelebihan dari dirinya yang tidak bisa saya lihat
- B. Dia memiliki koneksi yang lebih baik dari saya yang bisa membuatnya meraih promosi
- C. Pimpinan telah salah memilihnya karena saya jauh lebih berpengalaman darinya
- D. Dia lebih baik dari saya dalam hal menunjukkan eksistensi di mata pimpinan
- E. Dia memiliki keberuntungan sehingga bisa mendapatkan posisi tersebut dalam waktu yang singkat
75. Dalam susunan kepanitiaan sebuah acara, saya ditempatkan dalam satu bidang dengan seorang teman yang memiliki hubungan kurang baik dengan saya. Kami sudah tidak berkomunikasi dengan baik selama hampir dua tahun terakhir karena suatu masalah pada masa lalu. Saya akan
- A. Berkomunikasi pada hal-hal yang menyangkut kepentingan acara tersebut saja
- B. Melihat bagaimana respons yang dia berikan dan akan berkomunikasi sesuai respons tersebut
- C. Membagi pekerjaan sehingga tidak perlu terlalu sering berkomunikasi
- D. Mencoba aktif memulai komunikasi demi kelancaran acara tersebut
- E. Meminta seorang teman sebagai perantara dalam komunikasi kami berdua



76. Saya akan keluar untuk meninjau pekerjaan di lapangan dan teman seruangan saya setuju untuk menggantikan pekerjaan saya di kantor saat saya pergi. Setelah saya kembali, saya kaget melihat banyak pekerjaan menumpuk yang berarti teman seruangan saya tidak menggantikan menyelesaikan pekerjaan sama sekali. Saya akan
- Merasa sedih karena teman seruangan saya ternyata tidak membantu saya sama sekali
 - Merasa gusar dan menanyakan kepada teman saya kenapa dia tidak menggantikan menyelesaikan pekerjaan saya
 - Merasa sangat kecewa dan tidak akan mau membantunya saat dia membutuhkan bantuan saya nanti
 - Memaklumi saja karena saya tahu teman saya juga memiliki kesibukan pekerjaan sendiri
 - Langsung berusaha menyelesaikan pekerjaan tersebut meskipun dengan perasaan yang kurang senang
77. Saya memiliki seorang anak buah yang terkenal sangat rajin dan cekatan. Namun akhir-akhir ini dia sering datang terlambat dan tidak fokus pada pekerjaannya. Setelah saya selidiki ternyata dia memiliki masalah dengan hubungan asmaranya yang kandas. Saya akan
- Mebiarkannya sementara karena saya rasa saat ini dia perlu untuk menenangkan diri
 - Memberinya teguran karena hal tersebut dapat berpengaruh terhadap rekan kerjanya yang lain
 - Mengajaknya berbicara dan memintanya untuk kembali berkonsentrasi pada pekerjaannya
 - Memberinya semangat dan berharap dia akan kembali bekerja baik seperti sebelumnya
 - Menghiburnya dengan mengatakan bahwa jalannya masih panjang dan masih banyak peluang yang bisa dia raih
78. Saya adalah seorang pengusaha makanan tradisional kemasan yang memasarkan produk ke pasar-pasar tradisional dan pusat oleh-oleh daerah. Suatu hari datang seseorang yang ingin membeli produk saya, tetapi ingin mengemasnya menggunakan merknya sendiri dan memasarkannya secara *online*. Saya akan
- Menolaknya dan langsung membuat tim untuk melakukan pemasaran produk secara *online*
 - Menerimanya dengan senang hati karena bisa membantu meningkatkan penjualan produk saya
 - Menerimanya dengan senang hati sekaligus saya akan belajar cara berjualan secara *online*
 - Menerima tawaran tersebut dengan memberikan syarat berupa pembelian minimal dalam jumlah yang cukup banyak
 - Menerima tawaran tersebut dengan syarat produk dengan merknya tidak memasuki pasar yang sudah saya bangun
79. Saya mendapatkan promosi untuk memimpin sebuah kantor cabang yang baru dibuka sebulan yang lalu. Ketika saya mulai bekerja saya terkejut melihat karyawan yang sudah direkrut oleh kantor sebagian besar belum berpengalaman dalam bisnis ini. Saya akan
- Membawa beberapa karyawan dari kantor lama selama beberapa bulan untuk memberikan transfer ilmu di kantor cabang yang baru
 - Melakukan rekrutmen baru untuk menggantikan para karyawan yang belum berpengalaman tersebut
 - Mencari karyawan berpengalaman dari perusahaan pesaing dan merekrutnya untuk menggantikan sebagian karyawan tersebut
 - Memberikan pelatihan dan strategi tentang bisnis terhadap karyawan yang belum berpengalaman
 - Melakukan evaluasi secara bertahap dan ketat untuk menyaring karyawan yang mampu beradaptasi dengan sistem kerja saya



80. Saya memiliki sejumlah hutang pada sebuah lembaga peminjaman uang yang akhir-akhir ini tersendat pembayarannya karena kondisi keuangan saya sedang tidak baik. Suatu hari seorang penagih hutang perwakilan lembaga tersebut datang ke rumah, saya akan
- Bersembunyi dan pura-pura tidak melihatnya karena saya benar-benar tidak ada uang untuk membayarnya
 - Menjelaskan kondisi keuangan saya saat ini dan meminta kebijakan dari lembaga tersebut
 - Memintanya untuk kembali karena saya tidak ada uang untuk membayar angsuran pada hari itu
 - Mencoba meminta tambahan beberapa hari lagi untuk berusaha mendapatkan uang angsuran
 - Membayar seadanya uang yang saya miliki dan akan segera membayarkan sisa angsuran secepat mungkin
81. Untuk meminimalisasi penyebaran penyakit, pemerintah menyarankan untuk melakukan Perilaku Hidup Bersih dan Sehat, salah satunya adalah mencuci tangan dengan sabun sebelum memasuki rumah. Suatu hari teman dekat saya dari luar kota datang ke rumah saya dan langsung masuk ke dalam rumah, padahal di depan rumah sudah disediakan tempat cuci tangan dan membasuh muka sebelum masuk rumah. Saya akan
- Memintanya untuk kembali ke luar untuk mencuci tangan dan membersihkan diri terlebih dahulu
 - Membiarkannya saja karena dia melakukan perjalanan dengan mobil pribadi sehingga tidak kontak dengan orang lain
 - Menegurnya dan memintanya untuk menaati anjuran pemerintah dengan mencuci tangannya terlebih dahulu sebelum memasuki rumah
 - Mengingatkannya dan langsung memintanya ke kamar mandi untuk mencuci tangannya
 - Membiarkannya saja karena dia terlihat sehat dan tidak menunjukkan gejala penyakit tersebut
82. Untuk mengoptimalkan kinerja penjaga keamanan di perumahan, pengurus RT membuat keputusan untuk memberikan mereka jatah makan siang dan makan malam. Jadwal pemberian jatah makan diatur bergiliran untuk setiap warga. Jadwal akan dimulai dua hari lagi dan kebetulan saya mendapatkan giliran yang pertama. Saya akan
- Menerima saja keputusan tersebut karena masih ada waktu untuk mempersiapkannya
 - Menerima saja keputusan tersebut karena semua warga akan mendapatkan gilirannya
 - Menerima saja keputusan tersebut karena penjaga keamanan sangat berjasa dalam mengamankan perumahan kami
 - Sedikit merasa keberatan karena keputusan diambil oleh pengurus RT tanpa melibatkan warganya
 - Merasa belum siap dan meminta warga yang telah siap untuk mengambil giliran lebih awal
83. Kakek saya sangat senang menonton langsung pertunjukan wayang, sebuah kesenian yang saya tidak tahan melihatnya karena durasi yang terlalu lama. Malam minggu ini di kota kami akan ada sebuah pertunjukan wayang yang menghadirkan seorang dalang terkenal. Kakek ingin menonton dan meminta untuk diantarkan. Langkah yang saya lakukan adalah....
- Meminta adik saya untuk mengantarkan dan menemani kakek menonton pertunjukan tersebut
 - Mengantarnya dan menemani menonton sebentar saja, lalu nanti akan menjemputnya
 - Membuat acara pada malam minggu tersebut dan keluar rumah lebih awal
 - Mengantarnya dan menemaninya menonton sampai pertunjukan selesai
 - Mengantarnya dan menemani menonton



- ton, tetapi memintanya untuk tidak menonton sampai pertunjukan selesai
84. Saya memiliki tetangga lanjut usia yang sangat miskin, tetapi dia tidak tercatat sebagai salah satu penerima bantuan dari pemerintah. Banyak orang yang lebih sejahtera kehidupannya malah mendapatkan bantuan dari pemerintah. Saya akan
- Menyampaikan dan mengusulkan tetangga saya pada pemerintah desa untuk mendapatkan bantuan
 - Melakukan protes karena pemerintah desa tidak cermat dalam melakukan seleksi penerima bantuan
 - Mencarikan bantuan lain yang dapat membantu kehidupan tetangga saya tersebut
 - Menyisihkan uang saya sebagian untuk membantu masalah perekonomiannya
 - Mengajak para tetangga sekitar yang lain untuk lebih peduli dan berusaha membantu kesusahannya
85. Pemerintah sedang menerapkan Pembatasan Sosial Berskala Besar (PSBB), yaitu kita harus menjaga jarak dan interaksi sosial menjadi tidak seperti biasanya. Suatu hari teman-teman saya mengajak untuk berkumpul dan berbincang di sebuah kedai kopi. Saya sudah menolaknya, tetapi mereka berusaha untuk terus merayu saya supaya saya ikut berkumpul dengan mereka. Saya akan
- Menegur dan mengingatkan mereka akan larangan berkumpul selama masa PSBB ini
 - Tidak termakan provokasi mereka dan tetap pada pendirian saya untuk mematuhi masa PSBB
 - Melaporkan mereka karena mengadakan kegiatan berkumpul di masa PSBB dan melakukan provokasi
 - Merasa sedih karena mereka tidak menghormati pilihan saya untuk mematuhi masa PSBB
 - Memenuhi ajakan tersebut sebentar saja untuk menghargai mereka yang telah berupaya keras membujuk saya
86. Tetangga saya memelihara ayam dalam jumlah cukup banyak di rumahnya. Sebagian ayam-ayam tersebut terkadang berkeliaran di jalan dan masuk ke perkarangan rumah saya, dan bahkan mengotori teras rumah. Beberapa tetangga lain merasakan hal yang sama, tetapi tidak berani menegurnya. Saya akan
- Mendatangi tetangga saya dan melarangnya untuk memelihara ayam lagi karena mengganggu kenyamanan tetangga lain
 - Menangkapi semua ayam yang masuk ke perkarangan dan mengotori teras rumah saya
 - Menegur tetangga saya dan memintanya untuk mengandangkan ayam peliharaannya sehingga tidak berkeliaran
 - Melaporkan kepada ketua RT supaya ditindaklanjuti karena sudah mengganggu kenyamanan warga
 - Menyarankan kepada tetangga saya tersebut untuk memelihara ayam di tempat yang lebih sesuai dan tidak di perumahan padat penduduk
87. Sebagai seorang kepala divisi, setiap tahun saya dituntut untuk melakukan inovasi dan pengembangan di divisi saya, termasuk pengembangan penggunaan teknologi informasi dan komunikasi. Tahun ini saya berencana untuk mengembangkan pelaporan kinerja berbasis aplikasi, tetapi banyak anak buah saya yang merasa kalau hal tersebut terlalu berlebihan dan belum layak untuk dijalankan. Saya akan
- Tetap menjalankan rencana tersebut dan membiarkan anak buah saya untuk beradaptasi
 - Tetap menjalankan rencana tersebut dengan melalui masa percobaan terlebih dahulu
 - Tetap menjalankan rencana tersebut dengan keputusan yang dibuat oleh atasan sehingga anak buah saya tidak bisa melakukan protes
 - Menunda pelaksanaan rencana tersebut sampai seluruh anak buah mendukung gagasan saya tersebut



- E. Mengadakan dengar pendapat dengan anak buah tentang perlu tidaknya rencana tersebut dijalankan
88. Deni adalah seorang penjual sayur yang berkeliling dari satu lokasi ke lokasi yang lain. Suatu hari seseorang memesan sayur dalam jumlah yang banyak melalui aplikasi *messenger* dan memintanya untuk mengirimkan ke sebuah perumahan yang sering menjadi tempatnya berjualan. Langkah yang akan Deni lakukan adalah
- Tanpa curiga langsung membelikan sayuran dan membawanya ke lokasi yang ditentukan
 - Menghubungi dan memintanya untuk mengirimkan uang muka terlebih dahulu sebagai jaminan pembelian sayur tersebut
 - Membeli sayur jenis tertentu saja yang masih bisa dijual apabila pesanan tersebut ternyata tidak benar
 - Mendatanginya untuk meminta uang terlebih dahulu sebelum membelikannya sayur yang dipesan
 - Membelikannya sesuai pesanan dan berharap pemesan tidak membohonginya
89. Pembatasan Sosial Berskala Besar berimbas kepada segala lini kehidupan masyarakat, termasuk kehidupan Rukun Tetangga di kampung saya. Karena kondisi ini, ketua RT mengusulkan untuk mengadakan rapat RT bulan ini melalui aplikasi *video meeting* sehingga dapat diikuti oleh semua warga dari rumah masing-masing. Langkah yang saya lakukan adalah
- Akan segera mengunduh aplikasi tersebut agar bisa berpartisipasi dalam rapat RT
 - Kurang setuju karena rapat RT melalui aplikasi *video meeting* akan menjadikan peserta rapat tidak fokus
 - Kurang setuju karena rapat RT melalui aplikasi *video meeting* sangat tergantung pada kualitas HP dan kekuatan sinyal, sementara tidak semua warga memiliki fasilitas tersebut
 - Menyetujui usul tersebut karena menganggap ini sebuah inovasi baru yang bisa dilakukan di lingkungan RT
 - Kurang setuju karena tidak semua warga familiar dengan aplikasi tersebut, dan mengusulkan untuk menunda pertemuan RT sampai suasana kondusif
90. Suatu hari saya ditugaskan untuk membagikan bantuan di sebuah desa yang terletak cukup jauh dari kantor saya. Setelah sampai di tempat pembagian, ternyata saya lupa membawa daftar penerima bantuan yang sudah saya siapkan. Saya akan
- Segera kembali ke kantor untuk mengambil daftar penerima bantuan agar kegiatan pembagian bisa segera terlaksana
 - Meminta teman di kantor untuk memfoto daftar penerima bantuan dan mengirimkannya ke *handphone* saya
 - Meminta teman di kantor untuk mengirim *file* daftar penerima bantuan melalui *email* dan akan mencetaknya di lokasi
 - Menyuruh perwakilan dari desa untuk mengambil daftar penerima bantuan ke kantor saya
 - Menghubungi kantor dan meminta dikirimkan orang untuk mengantar daftar penerima bantuan ke lokasi
91. Sebagai pengelola *website* sekolah saya bertugas untuk mengunggah informasi-informasi terbaru yang berkaitan dengan kegiatan sekolah serta menampung komentar dan masukan dari masyarakat. Suatu hari seseorang memberikan informasi bahwa sistem pendaftaran *online* yang ada di *website* sering mengalami masalah sehingga mempersulit para pendaftar. Padahal masa pendaftaran siswa tinggal dua hari lagi. Saya akan
- Segera menghubungi ahli IT sekolah kami untuk memperbaiki sistem pendaftaran *online* yang ada di *website* sekolah



- B. Segera mengunggah informasi terkait dengan perpanjangan masa pendaftaran siswa akibat permasalahan tersebut
- C. Menerima dan melaporkan masukan tersebut untuk dapat segera ditindaklanjuti oleh sekolah
- D. Berusaha secepat mungkin memperbaiki sistem pendaftaran *online* sehingga bisa segera digunakan kembali
- E. Menerima masukan tersebut dan meminta pendaftar untuk terus mencoba melakukan pendaftaran secara *online*
92. Hari ini saya dan rekan kerja saya memiliki jadwal untuk melakukan presentasi di depan calon investor untuk usaha yang sedang kami rintis bersama. Namun, mendekati waktu pertemuan, secara mendadak rekan saya mengabarkan tidak bisa menghadiri pertemuan karena orang tuanya sakit dan harus dibawa ke rumah sakit. Padahal materi presentasi yang sudah kami susun dibawa olehnya. Langkah yang akan saya lakukan adalah
- A. Menghubungi dan memintanya untuk segera menyusul ke tempat pertemuan saat kondisi sudah memungkinkan
- B. Meminta rekan saya untuk mengirimkan materi presentasi melalui *email* dan akan melakukan presentasi sendiri
- C. Menghubungi investor dan meminta untuk menjadwalkan ulang pertemuan karena rekan saya berhalangan hadir
- D. Mengambil materi di rumah sakit sekalian menjenguk dan menanyakan kondisi orang tua rekan saya
- E. Meminta teman saya untuk membuat video presentasi dari rumah sakit dan akan menyampaikannya kepada investor
93. Di era saat ini kemajuan teknologi membuat banyak kantor melakukan perubahan pelayanan dengan memanfaatkan teknologi yang ada, sementara di kantor yang saya pimpin sebagian besar karyawan berusia tua dan sudah hampir memasuki masa pensiun. Langkah yang akan saya lakukan adalah
- A. Memberikan pensiun lebih cepat kepada mereka dan menggantinya dengan tenaga muda yang lebih memahami teknologi
- B. Menunda penggunaan teknologi sampai dengan seluruh karyawan yang berusia tua pensiun
- C. Menerapkan penggunaan teknologi yang mudah diadaptasi oleh seluruh karyawan termasuk karyawan yang sudah tua
- D. Memberikan pelatihan pada seluruh karyawan sebelum mulai untuk menggunakan teknologi dalam proses pelayanan
- E. Menerapkan penggunaan teknologi dalam pelayanan dan akan memberhentikan mereka yang tidak mampu beradaptasi
94. Atasan memberikan tambahan anak buah untuk tim saya dengan maksud membantu pekerjaan saya. Namun, pada kenyataannya anak baru ini tidak mampu beradaptasi dengan cepat dengan ritme pekerjaan saya dan kurang mampu berkomunikasi dengan rekan setim yang lain. Saya akan
- A. Meminta kepada atasan untuk memilih seseorang yang baru untuk menggantikannya
- B. Memintanya untuk segera beradaptasi dengan ritme kerja dan lingkungan kerjanya
- C. Memberinya batas waktu untuk segera beradaptasi, utamanya dengan ritme kerja saya
- D. Meminta anggota tim yang lain untuk aktif berkomunikasi supaya dia bisa merasa nyaman
- E. Memintanya aktif berkomunikasi supaya cepat merasa nyaman dan bisa mengikuti ritme kerja teman yang lain
95. Saya ditugaskan oleh kantor untuk memantau sebuah kegiatan yang sedang diadakan oleh salah satu divisi. Kegiatan ini berlangsung pada akhir minggu di luar kota, sementara saya sudah terlanjur ada janji dengan teman-

- teman saya untuk mengunjungi salah satu teman yang baru saja kembali dari sekolah di luar negeri. Saya akan
- Menghubungi divisi penyelenggara dan meminta laporan kegiatan sehingga saya tetap bisa menjalankan acara saya
 - Menghubungi teman-teman dan mengajak mereka untuk menunda kunjungan pada hari Senin
 - Melakukan kegiatan pemantauan secukupnya dan segera pulang untuk menepati janji dengan teman-teman saya
 - Meminta maaf kepada teman-teman tidak bisa ikut mengunjungi teman saya karena mendapatkan tugas mendadak
 - Meminta bantuan teman untuk menggantikan kegiatan pemantauan sehingga saya bisa tetap menjalankan acara saya
96. Sebagai seorang analis data di sebuah instansi pemerintah daerah, tugas saya adalah mengumpulkan dan menganalisis data dari seluruh desa di kabupaten. Seluruh desa sudah mendapatkan pelatihan tentang pengumpulan dan penyajian data untuk pemerintah daerah. Namun, ada beberapa desa yang memberikan saya data mentah yang belum diolah. Saya akan
- Mengembalikan dan meminta desa untuk menyajikan data seperti yang dibutuhkan
 - Memisahkan data tersebut dan tidak memasukkan ke dalam bagian data yang dianalisis
 - Menyajikan data mentah tersebut dalam analisis terpisah dari data yang lain
 - Mengolah data mentah tersebut untuk bisa dianalisis bersama data lain sebagai sebuah kesatuan
 - Mengolah data mentah tersebut karena jika harus mengembalikan ke desa akan memakan waktu yang cukup lama
97. Anda baru saja diterima menjadi seorang Pegawai Negeri Sipil, dan mulai bulan depan Anda mendapatkan jadwal untuk melaksanakan diklat dan harus di karantina selama dua bulan. Sementara di sisi lain
- Anda juga sedang memasuki bulan-bulan akhir kuliah pascasarjana yang sudah Anda tempuh jauh sebelum diterima sebagai PNS. Langkah yang Anda lakukan adalah
- Meminta atasan mendahulukan teman kantor lain untuk mengikuti diklat tersebut karena saya sedang mengejar untuk lulus kuliah saya terlebih dahulu
 - Terpaksa mengambil cuti kuliah karena menjadi PNS merupakan cita-cita saya, dan diklat ini sangat penting untuk karier saya sebagai PNS
 - Meminta kompensasi untuk boleh keluar dari karantina untuk menyelesaikan kegiatan kuliah saya
 - Menggunakan waktu satu bulan untuk menyelesaikan tugas-tugas kuliah saya yang tidak bisa saya kerjakan saat saya di karantina nanti
 - Mengikuti kegiatan diklat dengan baik dan berusaha mengejar ketertinggalan di perkuliahan
98. Pimpinan memberi banyak tugas kepada saya dan meminta saya untuk menyelesaikannya padahal saat itu sudah mendekati jam pulang dan saya sudah memiliki janji setelah pulang kantor akan menjenguk istri teman yang baru saja melahirkan. Saya akan
- Mengerjakan tugas tersebut secepat mungkin dan mengusahakannya hanya terlambat sedikit setelah jam pulang
 - Meminta bantuan teman agar pekerjaan tersebut bisa selesai sebelum jam kantor
 - Mengerjakan tugas tersebut sampai jam pulang kantor dan akan meneruskannya keesokan harinya
 - Meminta izin sebentar untuk menjenguk istri teman dan akan kembali ke kantor untuk menyelesaikannya hari itu juga
 - Menanyakan kepada atasan dan memastikan kapan tugas tersebut harus diserahkan
99. Saya bekerja sebagai penjaga apotek di sebuah desa dengan penduduk yang saling mengenal satu sama lain. Suatu hari datang seorang pelanggan yang sudah sangat saya kenal ingin membeli



obat keras, tetapi dia tidak membawa resep dokter karena ketinggalan di rumah. Langkah yang saya lakukan adalah

- A. Memberikan obat yang dia minta karena dia sudah biasa membeli obat tersebut
- B. Memberikan obat yang dia minta karena dia adalah salah satu pelanggan apotek saya
- C. Memberikan obat yang dia minta dan memintanya mengambil resep dokter itu untuk saya
- D. Memintanya mengambil resep dokter di rumah dan akan memberinya obat jika dia bisa menunjukkan resep
- E. Berkonsultasi dengan apoteker dan melaksanakan semua keputusan yang diberikan oleh apoteker

100. Saya merupakan seorang guru di sebuah sekolah menengah atas terkemuka di kota saya. Selain mengajar di sore hari, saya membuka les privat persiapan masuk perguruan tinggi. Suatu hari seorang murid privat mendatangi saya dan menanyakan tentang jurusan yang sebaiknya dia ambil saat mendaftar di perguruan tinggi. Saya akan

- A. Menyarankannya untuk berbicara dan meminta saran tentang jurusan yang diinginkan oleh orang tuanya
- B. Menyarankannya untuk mengambil jurusan sesuai minatnya dan meningkatkan fokus belajarnya
- C. Menyarankannya untuk mengambil jurusan dengan tingkat persaingan yang tidak terlalu sulit
- D. Menyarankannya untuk mengambil jurusan yang memiliki peluang lapangan pekerjaan lebih luas
- E. Menyarankannya untuk mengambil jurusan favorit dari sebuah universitas ternama

101. Adi tinggal di sebuah desa dengan sebagian besar penduduknya berada dalam tingkat ekonomi menengah ke bawah, termasuk keluarganya. Di sebelah rumah Adi tinggal

seorang nenek sebatang kara yang keadaannya sangat menyedihkan. Hal terbaik yang bisa dilakukan Adi adalah

- A. Meminta izin dan membujuk orang tuanya untuk menampung nenek itu ikut keluarganya
- B. Meminta bantuan melalui media sosial untuk nenek tersebut supaya banyak orang yang memperhatikannya
- C. Mengusulkan kepada pemerintah desa untuk memperhatikan nenek tersebut karena hidup seorang diri dan sangat menyedihkan
- D. Membantu langsung nenek tersebut dengan membagi dan memberikan apa pun yang dia punya
- E. Mengajak warga sekitar untuk berperan membantu nenek tersebut secara langsung

102. Lahan sebelah rumah saya adalah pekarangan kosong yang tidak terawat. Sudah beberapa bulan pemilik lahan tidak menengok dan membersihkan lahan tersebut sehingga rumput tumbuh tinggi dan terkesan berantakan. Langkah yang akan saya lakukan adalah....

- A. Membantu membersihkan lahan tersebut saat waktu saya luang sehingga tidak nampak berantakan lagi
- B. Mengajak para tetangga untuk bekerja bakti membersihkan lahan kosong tersebut
- C. Mencoba menghubungi pemilik lahan dan menyampaikan kondisi lahan saat ini
- D. Menyampaikan keadaan tersebut kepada Ketua RT supaya bisa menghubungi pemilik lahan
- E. Membayar orang untuk membersihkan lahan tersebut supaya menjadi bersih dan enak dipandang

103. Saya memiliki teman yang sudah bersama sejak kecil. Dia sangat baik dan sangat perhatian, tetapi dia memiliki sebuah kebiasaan buruk yang membuatnya dihindari oleh banyak orang, yaitu sering



- meminjam sesuatu, tetapi tidak pernah mengembalikannya. Suatu hari dia ingin meminjam uang kepada saya, saya akan
- Meminjamkan uang kepadanya karena dia adalah teman dan sudah sangat baik terhadap saya
 - Menolak meminjaminya karena saya tidak mau kehilangan uang saya dengan percuma
 - Menanyakan alasan yang membuatnya harus berhutang dan memutuskan apakah dia layak diberi pinjaman atau tidak
 - Menolak meminjaminya dan menasihatinya tentang kebiasaan buruknya tersebut
 - Meminjamkan uang kepadanya dengan catatan dia harus benar-benar mengembalikannya
104. Saya sering berbelanja memanfaatkan layanan pesan antar yang disediakan oleh sebuah toko di perumahan saya. Dalam beberapa kesempatan, uang pembayaran saya lebih dan petugas pengantar barang mengambilkan uang kembalian ke toko. Namun, terkadang dia tidak datang lagi dan saya tidak menerima uang kembalian saya. Saya akan
- Melaporkan petugas pengantar belanjaan kepada pemilik toko supaya kebiasaannya tersebut bisa ditegur dan diperbaiki
 - Menemuinya dan mencoba menanyakan tentang uang kembalian saya
 - Menganggap dia lupa dan meyakini bahwa itu bukanlah suatu kesengajaan
 - Menegurnya dan mengingatkan bahwa apa yang dilakukannya tersebut merupakan hal yang buruk
 - Berhenti menggunakan layanan pesan antar dan mulai berbelanja langsung sendiri
105. Selokan di depan rumah saya mampet karena ada banyak sampah yang tidak bisa hanyut dan menyumbat aliran air. Sampah-sampah ini kebanyakan berasal dari rumah tetangga saya yang tidak mau membayar iuran sampah dan akhirnya membuang sampah di saluran air. Langkah yang saya lakukan adalah
- Mengambil sampah dari selokan dan membuangnya di halaman rumah tetangga saya tersebut
 - Membersihkan selokan dan membuang sampah ke tempat penampungan sampah
 - Membersihkan selokan dan menegur tetangga tersebut
 - Membersihkan selokan dan menyampaikan kondisi tersebut kepada ketua RT
 - Membersihkan selokan begitu saja karena saya tidak ingin membuat masalah dengan tetangga
106. Saya dalam perjalanan menjemput ibu ke pasar dan hujan turun sepanjang perjalanan. Di tengah perjalanan ada seseorang yang menyeberang dengan tidak hati-hati sehingga saya harus membunyikan klakson. Orang tersebut berhasil menghindari, tetapi dia terkena cipratan air yang terlindas roda mobil saya. Saya akan
- Berhenti untuk melihat keadaannya sebentar dan melanjutkan perjalanan lagi
 - Tetap melanjutkan perjalanan dan pura-pura tidak melihat kejadian itu
 - Tetap melanjutkan perjalanan karena ibu sudah menunggu dan saya yakin kejadian itu tidak melukai orang tersebut
 - Tetap melanjutkan perjalanan karena itu merupakan kesalahannya yang berusaha menyeberang dengan sembarangan
 - Berhenti melihat keadaannya dan menyarakannya untuk lebih berhati-hati saat menyeberang
107. Anda dipercaya membentuk dan memimpin sebuah tim untuk mengembangkan teknologi informasi dan komunikasi yang akan digunakan untuk meningkatkan



pemasaran produk perusahaan. Pimpinan perusahaan mengharapkan Anda bekerja dengan cepat dan terjaga kerahasiaannya. Anda akan

- A. Memilih teman-teman dekat yang bisa saya percaya untuk menjaga kerahasiaannya
- B. Mencari orang-orang yang tidak kenal dengan orang-orang kantor
- C. Menggunakan anak buah saya saat ini yang sudah bisa saya percaya
- D. Membentuk tim dengan mencari tenaga-tenaga profesional sehingga bisa memberikan hasil yang terbaik
- E. Memilih beberapa karyawan terbaik kantor dan membuat kesepakatan untuk merahasiakan pekerjaan

108. Dalam sebuah pertemuan RT, seorang warga mengusulkan untuk mengadakan kegiatan sosial setiap bulan sebagai upaya untuk meningkatkan rasa toleransi dan kepedulian sosial. Selain itu, menurutnya kegiatan tersebut dapat mencegah tumbuhnya radikalisme di lingkungan kami. Menurut saya

- A. Usul tersebut harus dilaksanakan dengan semangat mencegah radikalisme hadir di lingkungan kami
- B. Hal tersebut kurang efektif karena orang yang telah terpapar radikalisme pasti tidak akan menghadiri kegiatan tersebut
- C. Itu merupakan usul yang bagus dan saya sangat setuju terhadap usul tersebut
- D. Sebaiknya jangan dilaksanakan setiap bulan mengingat kesibukan setiap warga
- E. Usul tersebut hanya menambah padatnya jadwal kegiatan RT dari yang sudah ada saat ini

109. Saat ini pencegahan radikalisme menjadi suatu agenda yang mendesak untuk dilakukan oleh pemerintah karena rentan untuk menjangkiti berbagai lapisan

masyarakat. Pendapat Anda saat melihat informasi tersebut adalah

- A. Mengenali bahaya dan upaya-upaya untuk dapat terhindar dari paparan paham radikal
- B. Saya harus berupaya untuk melindungi diri saya dan keluarga dari paparan paham radikal tersebut
- C. Akan mendukung apa pun program pemerintah yang dibuat untuk mencegah radikalisme
- D. Berusaha mengidentifikasi orang-orang di lingkungan sekitar saya yang kemungkinan terpapar paham radikal
- E. Mengabarkan informasi kepada orang-orang sekitar dan mengingatkan mereka akan bahayanya paham radikal terhadap kehidupan bermasyarakat

110. Anda adalah seorang muslim yang memiliki usaha kuliner yang cukup terkenal di kota Anda. Suatu hari datang perwakilan dari sebuah sekolah non-muslim yang meminta Anda untuk membuka cabang di kantin sekolah mereka dengan tempat yang sudah disediakan khusus untuk cabang kuliner Anda. Anda akan

- A. Merasa curiga dan mencoba melihat apakah ada agenda terselubung di balik penawaran ini
- B. Melihat dulu dari prospek untung rugi usaha sebelum memberikan jawaban kepada mereka
- C. Terpaksa menolaknya karena saat ini saya ingin berkonsentrasi pada satu lokasi saja
- D. Mengomunikasikan dengan para karyawan saya apakah ada yang bersedia untuk ditempatkan di cabang tersebut
- E. Menolak dengan keras karena itu bisa merusak akidah saya dan karyawan sebagai seorang muslim



Pembahasan Tryout SKD

1

Tes Wawasan Kebangsaan (TWK)

1. Salah satu upaya yang dilakukan Pemerintah Republik Indonesia untuk melindungi segenap bangsa Indonesia adalah dengan melakukan pengamanan pada titik-titik rawan perbatasan antar negara.
■ **Jawaban: C**
2. UUD RI 1945 pasal 27 ayat 3 menyatakan bahwa setiap warga negara berhak dan wajib ikut serta dalam upaya pembelaan negara. Salah satu faktor yang menentukan ketahanan suatu negara adalah faktor finansial. Sehingga kesadaran warga negara terhadap kewajiban membayar pajak merupakan salah satu upaya bela negara demi menunjang pelaksanaan program pembangunan, cinta tanah air, serta sebagai upaya mempertahankan keutuhan bangsa dan negara.
■ **Jawaban: B**
3. Adanya celah dalam sistem seleksi pegawai yang kemudian dimanfaatkan menunjukkan standar operasional prosedur sistem seleksi pegawai tidak efektif, sehingga menjadi penyebab utama terjadinya pelanggaran integritas.

4. Berserikat, berkumpul, dan mengeluarkan pendapat merupakan wujud dari kebebasan berekspresi bagi setiap orang. Sehingga penjaminan akan hak-hak tersebut menunjukkan bahwa Pemerintah Indonesia memberikan kebebasan untuk berekspresi kepada setiap warga negara.
■ **Jawaban: D**
5. Menghadapi perkembangan teknologi yang memudahkan masuknya nilai sosial budaya dari negara lain, kita sebagai generasi muda harus berhati-hati dan bisa menyeleksi nilai sosial budaya yang tidak bertentangan dengan nilai sosial budaya negara kita.
■ **Jawaban: E**
6. Nama-nama pemain naturalisasi yang saat ini banyak mengisi tim nasional sepakbola Indonesia mendapatkan kewarganegaraannya melalui proses naturalisasi biasa.
■ **Jawaban: A**
7. Memaksakan penggunaan budaya asal di wilayah budaya lain bukan merupakan contoh aktualisasi dari Bhinneka Tunggal Ika.
■ **Jawaban: D**



8. Pemulihan hak seseorang dalam kemampuan, kedudukan, dan harkat serta martabatnya oleh Presiden karena kekeliruan mengenai orang atau hukum yang diterapkan disebut rehabilitasi. Wewenang Presiden untuk memberikan rehabilitasi diatur dalam UUD 1945 Pasal 14 Ayat 1.
 ■ **Jawaban: B**
9. Kedatangan imigran asing secara masif merupakan salah satu contoh ancaman potensial terhadap integrasi nasional. Ancaman potensial merupakan ancaman yang belum terjadi namun sewaktu-waktu dapat terjadi dalam situasi tertentu menjadi ancaman aktual.
 ■ **Jawaban: E**
10. Salah satu jenis norma berdasarkan daya pengikatnya adalah kebiasaan, yaitu perbuatan yang dilakukan secara berulang-ulang. Kebiasaan-kebiasaan yang dianggap baik dan disepakati masyarakat dapat dianggap sebagai norma, seperti kebiasaan mendahulukan orang lanjut usia saat antrai.
 ■ **Jawaban: B**
11. Traktat merupakan perjanjian paling formal yang merupakan persetujuan dari dua negara atau lebih yang mencakup bidang politik dan ekonomi. Contoh traktat diantaranya adalah perjanjian perbatasan, perjanjian perdagangan, dan perjanjian mengenai dwikewarganegaraan.
 ■ **Jawaban: E**
12. Pasal 34 Ayat 1 UUD 1945 yang berbunyi "Fakir miskin dan anak terlantar dipelihara oleh negara", merupakan salah satu contoh dari nilai instrumental Pancasila sila Keadilan Sosial Bagi Seluruh Rakyat Indonesia.
 ■ **Jawaban: B**
13. Salah satu usaha bela negara yang dapat dilakukan oleh warga negara adalah dengan melakukan pengabdian sesuai profesi. Sebagai seorang kepala desa, pengabdian terbaik yang dapat dilakukan oleh Pak Yadi adalah dengan memastikan seluruh warganya mendapatkan kesejahteraan yang layak.
 ■ **Jawaban: E**
14. Salah satu tantangan dan kendala yang menjadikan pelaksanaan demokrasi Pancasila tidak maksimal pada saat ini adalah munculnya pihak-pihak yang mementingkan kepentingan pribadi dan golongan.
 ■ **Jawaban: C**
15. Pertikaian yang terjadi pada soal dapat dihindari apabila pengendara bermotor selaku warga negara melaksanakan hak dan kewajibannya dengan baik. Dalam hal ini kewajiban untuk tidak menggunakan knalpot brong pada kendaraan bermotor.
 ■ **Jawaban: B**
16. Pembangunan infrastruktur sebagai suatu langkah pemerataan pembangunan merupakan salah satu upaya pemerintah untuk menjalankan nilai keadilan bagi seluruh warga negara.
 ■ **Jawaban: E**
17. Permasalahan mencolok akibat fenomena bonus demografi di Indonesia saat ini adalah tingginya angka pengangguran dan rendahnya kualitas sumber daya manusia.
 ■ **Jawaban: A**
18. Alinea ketiga Pembukaan UUD 1945 menjelaskan bahwa kemerdekaan yang dicapai oleh bangsa Indonesia adalah rahmat dan anugerah Tuhan Yang Mahakuasa. Hal ini merupakan penegasan sikap dan keyakinan bangsa Indonesia terhadap Tuhan Yang Maha Esa.
 ■ **Jawaban: C**
19. Sikap generasi muda yang lebih menyukai produksi luar negeri untuk memenuhi gengsinya merupakan salah satu bentuk baru dari ancaman di bidang ekonomi.
 ■ **Jawaban: E**



20. Tindakan Zico untuk mengikuti prosedur sesuai aturan yang berlaku dalam mengurus sesuatu kepentingan di instansi tertentu merupakan bentuk nyata peran aktif atau partisipasi dalam meminimalisasi terjadinya korupsi.
■ **Jawaban: A**
21. Pokok pikiran keadilan sosial bertujuan untuk memajukan kesejahteraan umum yang berkeadilan, yang salah satu implementasinya dengan memberikan kesempatan yang sama bagi seluruh masyarakat untuk berusaha mendapatkan tingkat pendapatan dan kesejahteraan yang layak.
■ **Jawaban: E**
22. Cara bersosial media yang sesuai dengan nilai Pancasila adalah dengan menyebarkan informasi yang benar dan bermanfaat bagi banyak orang.
■ **Jawaban: B**
23. Perilaku Mitha menunjukkan wujud good governance yang termasuk dalam prinsip kesetaraan (equality) karena memberikan pelayanan dan perlakuan kepada publik tanpa membedakan.
■ **Jawaban: D**
24. Seruan boikot terhadap produk-produk yang terafiliasi dengan negara Israel sebagai bentuk protes terhadap serangan yang dilancarkan oleh Israel ke wilayah Palestina dilandasi oleh sikap menjunjung tinggi nilai kemanusiaan dan berlaku adil terhadap sesama manusia yang merupakan penerapan nilai dasar kemanusiaan dalam Pancasila.
■ **Jawaban: B**
25. Penyalahgunaan trotoar yang dilakukan oleh pengendara motor sangat bertentangan dengan nilai keadilan sosial, karena tidak menghormati hak-hak orang lain, dalam hal ini adalah hak bagi pejalan kaki.
■ **Jawaban: E**
26. Fanatisme yang berlebihan terhadap salah satu calon presiden sehingga menggunakan bahasa yang sangat kasar untuk menyerang calon presiden lain dan pendukungnya merupakan sebuah tindakan yang sangat jauh dari nilai-nilai Pancasila.
■ **Jawaban: D**
27. Sumpah Pemuda merupakan suatu peristiwa bersejarah yang menghasilkan konsensus integrasi nasional pertama kalinya dalam sejarah perjuangan Indonesia.
■ **Jawaban: C**
28. Dalam kondisi negara yang majemuk, baik dari sisi agama, budaya, suku maupun bahasa, gotong royong dapat menjadi sarana untuk merekatkan dan menguatkan solidaritas sosial.
■ **Jawaban: E**
29. Penetapan UMK oleh daerah merupakan perwujudan asas desentralisasi dimana pusat memberikan kekuasaan dan kewenangan kepada daerah untuk melaksanakan pemerintahannya sendiri tanpa intervensi dari pusat.
■ **Jawaban: B**
30. Pelanggaran HAM yang berdampak terjadinya gangguan psikologis pada korbannya akhir-akhir ini marak terjadi melalui media internet dalam bentuk kasus bullying secara verbal yang dilakukan secara terbuka melalui media sosial.
■ **Jawaban: C**



Tes Inteligensi Umum (TIU)

31. BAJAU sama dengan MEMUKUL. PROVOKASI sama dengan GANGGUAN.

■ Jawaban: A

32. Kiasan MAKAN HATI berarti MENJADI BEBAN PIKIRAN. MATAANGIN artinya ARAH.

■ Jawaban: C

33. PASAK sama dengan BAJI. GALAT sama dengan KELIRU.

■ Jawaban: A

34. TIRANA merupakan ibu kota dari Negara ALBANIA. LUANDA merupakan ibu kota dari Negara ANGOLA.

■ Jawaban: E

35. **Ingat rumus invers: Pernyataan $p \Rightarrow q$ memiliki konvers $q \Rightarrow p$**

Konvers pernyataan, "Jika saya mengantuk saya akan tidur" adalah "Jika saya akan tidur maka saya mengantuk."

■ Jawaban: D

36. **Kontraposisi memiliki pernyataan yang ekuivalen dengan implikasi.**

Mencari pernyataan yang ekuivalen sama saja mencari pernyataan yang berkontraposisi. Kontraposisi dari pernyataan, "Jika laut pasang maka tiang dermaga tenggelam" adalah:

Jika tiang dermaga tidak tenggelam maka laut tidak pasang.

■ Jawaban: E

37. **IPA tidak sulit dikuasai atau IPTEK tidak berkembang ekuivalen dengan Jika IPA sulit dikuasai maka IPTEK tidak berkembang**

1. Jika penguasaan matematika rendah maka sulit untuk menguasai IPA.
2. Jika IPA sulit dikuasai maka IPTEK tidak berkembang .

Silogisme: Jika penguasaan matematika rendah maka IPTEK tidak berkembang.

3. Jika IPTEK tidak berkembang maka negara akan semakin tertinggal.

Menggunakan silogisme diperoleh **kesimpulan akhir:**

Jika penguasaan matematika rendah maka negara akan semakin tertinggal.

■ Jawaban: A

38. **Jika Upik tidak dapat hadiah maka tidak naik kelas** ekuivalen dengan **Jika naik kelas maka Upik dapat hadiah.**

1. Jika Upik rajin belajar ~~maka naik kelas.~~
2. ~~Jika naik kelas~~ maka Upik dapat hadiah.

Silogisme: Jika Upik rajin belajar maka Upik dapat hadiah.

3. Upik rajin belajar.

Modus ponens: Upik dapat hadiah.

■ Jawaban: B

39. Dari keterangan soal diperoleh:

- Bundaku Tersayang = 0 piala citra
- Pencuri yang Baik Hati = 4 piala citra
- Rinduku Terpaut di Awan = 6 piala citra
- Tersanjung = 0 piala citra
- Kisah Klasik = 5 piala citra

Film terbaik berdasarkan piala Citra yang diperolehnya *Rinduku Terpaut di Awan* yang memperoleh 6 piala citra.

■ Jawaban: A

40. Simbol > berarti polis asuransi lebih mahal dan simbol < berarti polis asuransi lebih murah.

- Asuransi Bahagia > Asal Selamat atau Asal Selamat < Asuransi Bahagia
- Asuransi Bahagia < Seger Waras
- Ayam Tentrem < Asal Selamat
- Timbang Apes < Ayam Tentrem

Urutan dari paling murah:

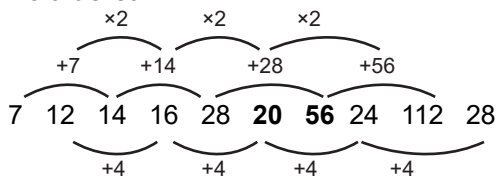
Asuransi Timbang Apes < Ayam Tentrem < Asal Selamat < Asuransi Bahagia < Seger Waras

Asuransi yang dipilih adalah yang termurah, yaitu: Asuransi Timbang Apes.

■ Jawaban: A

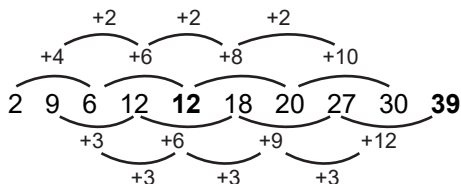


48. Pola deret:



■ Jawaban: B

49. Pola deret:



■ Jawaban: B

50. Karena a sembarang bilangan real maka $a^2 > 0$ akibatnya:

$$5a^2 > a^2$$

Karena $20 < 50$ dan nilai a tidak diketahui dengan pasti, hubungan $5a^2 + 20$ dengan $a^2 + 50$ tidak bisa ditentukan.

Jadi, x dan y tidak bisa ditentukan.

■ Jawaban: D

51. x = jumlah bilangan genap antara 1 sampai dengan 30
 $= 2 + 4 + 6 + \dots + 28$

y = jumlah bilangan ganjil antara 1 sampai dengan 30
 $= 3 + 5 + 7 + \dots + 29$

Karena $3 > 2$,

$$5 > 4,$$

$$7 > 6,$$

...

$$29 > 28,$$

maka dengan menjumlahkan ruas kiri dan kanan diperoleh:

$$3 + 5 + 7 + \dots + 29 > 2 + 4 + 6 + \dots + 28$$

$$\Leftrightarrow y > x$$

■ Jawaban: B

52. $x = 16,67\%$

$$y = \frac{2}{12} = \frac{1}{6} = 16,67\%$$

Jadi $x = y$

■ Jawaban: C

53. Harga beli = Rp45.000.000,00
 Harga jual = Rp52.000.000,00
 Untung = Harga jual – harga beli = Rp7.000.000,00

Untung per ekor = Rp700.000,00

Banyak sapi yang dibeli dan dijual:

$$= \frac{\text{Rp}7.000.000,00}{\text{Rp}700.000,00}$$

= 10 ekor

■ Jawaban: D

54. Jarak = 20 km \Rightarrow waktu = 30 menit

Jarak = 140 km \Rightarrow waktu = x jam

Ingat! 1 jam = 60 menit.

Menggunakan perbandingan senilai maka:

$$\frac{20}{140} = \frac{30}{x}$$

$$x = \frac{30 \cdot 140}{20}$$

$$= 210 \text{ menit} = 3,5 \text{ jam}$$

■ Jawaban: D

55. Semula ada 16 orang, kemudian 4 orang tidak dapat bekerja karena sakit, berarti menjadi 12 orang.

16 orang \Rightarrow 9 hari

12 orang \Rightarrow x hari

Jumlah pekerja sekarang dengan menggunakan perbandingan berbalik nilai adalah:

$$\frac{16 \text{ pekerja}}{12 \text{ pekerja}} = \frac{x \text{ hari}}{9 \text{ hari}}$$

$$x = \frac{16}{12} \times 9$$

$$= 12 \text{ hari}$$

Tambahan hari kerja = $12 - 9 = 3$

Dalam bentuk persentase

$$= \frac{3}{9} \times 100\% = 33,33\%$$

■ Jawaban: C

56. Panjang sisi A = $\sqrt{25}$
 $= 5 \text{ cm}$

Keliling persegi A = 4×5



$$\begin{aligned}
 &= 20 \text{ cm} \\
 \text{Keliling dari persegi B} &= 3 \text{ kali keliling persegi A} \\
 &= 3 \times 20 \\
 &= 60 \text{ cm} \\
 \text{Panjang sisi B} &= 60 : 4 \\
 &= 15 \text{ cm} \\
 \text{Luas persegi B} &= 15 \times 15 \\
 &= 225 \text{ cm}^2
 \end{aligned}$$

■ **Jawaban: D**

57. **Merupakan soal konsep kecepatan dengan tipe susul menyusul.**

Ingat hubungan, jarak, kecepatan, dan waktu.

Jarak = kecepatan × waktu

Pada soal ini yang ditanyakan adalah jarak yang dibutuhkan oleh Ibu Yono untuk menyusul Yono. Misalkan, jarak tersebut adalah s .

Waktu Yono = t

Karena berangkat 10 menit setelah Yono maka:

$$\text{Waktu Ibu} = t - 10 \text{ menit} = t - \frac{1}{6}$$

$$\begin{aligned}
 s &= \text{Jarak ditempuh Yono} \\
 &= \text{kecepatan Yono} \times \text{waktu Yono} \\
 &= 20t
 \end{aligned}$$

$$\begin{aligned}
 s &= \text{Jarak ditempuh Ibu} \\
 &= \text{kecepatan Ibu} \times \text{waktu Ibu} \\
 &= 30 \left(t - \frac{1}{6} \right)
 \end{aligned}$$

Maka:

$$20t = 30 \left(t - \frac{1}{6} \right)$$

$$20t = 30t - 5$$

$$5 = 10t$$

$$t = \frac{1}{2} \text{ jam} = 0,5 \text{ jam}$$

Jadi, $s = 20t = 20 \text{ km/jam} \times 0,5 \text{ jam} = 10 \text{ km}$

■ **Jawaban: B**

58. **Lakukan operasi di dalam kurung terlebih dahulu.**

$$\begin{aligned}
 &\left(1 - \frac{1}{2}\right) \left(1 - \frac{1}{3}\right) \left(1 - \frac{1}{4}\right) \dots \left(1 - \frac{1}{n}\right) \\
 &= \left(\frac{2-1}{2}\right) \left(\frac{3-1}{3}\right) \left(\frac{4-1}{4}\right) \dots \left(\frac{n-1}{n}\right) \\
 &= \frac{1}{2} \times \frac{2}{3} \times \frac{3}{4} \times \dots \times \frac{n-1}{n} \\
 &= \frac{1}{n}
 \end{aligned}$$

■ **Jawaban: A**

59. Gambar A, B, C, dan D merupakan gambar yang sama, hanya berbeda karena efek rotasi.

■ **Jawaban: E**

60. Gambar A, B, C, dan E memiliki jumlah lingkaran putih (4) dan hitam (5) yang sama.

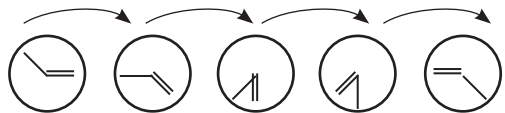
■ **Jawaban: D**

61. Gambar berotasi 90° searah jarum jam.

■ **Jawaban: C**

62. Perhatikan pembahasan berikut.

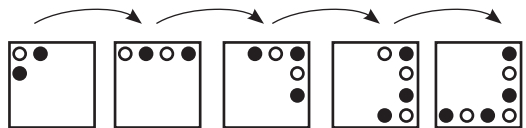
Garis 2 berotasi 45° searah jarum jam, sedangkan garis 1 berotasi 45° berlawanan arah jarum jam.



■ **Jawaban: D**

63. Perhatikan pembahasan berikut.

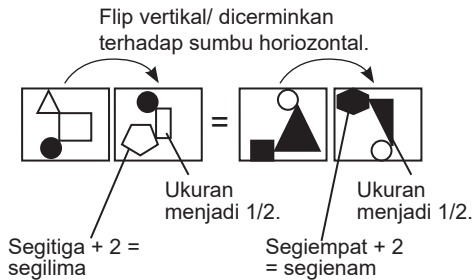
Bergeser 1 langkah dan bertambah 1 lingkaran. posisi lingkaran hitam dan putih selalu sama.



■ **Jawaban: E**

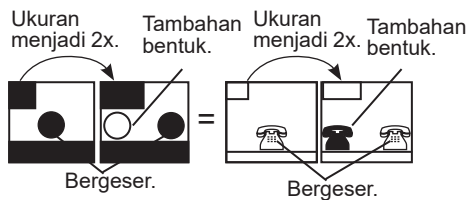


64. Perhatikan pembahasan berikut.



■ Jawaban: B

65. Perhatikan pembahasan berikut.



■ Jawaban: B

Tes Karakteristik Pribadi (TKP)

Skor	5	4	3	2	1
66.	D	C	E	A	B
67.	B	A	D	C	E
68.	A	E	B	C	D
69.	C	D	E	B	A
70.	D	C	E	B	A
71.	D	C	E	B	A
72.	B	A	D	C	E
73.	B	E	C	D	A
74.	A	D	E	B	C
75.	D	A	C	B	E
76.	E	D	B	A	C
77.	C	B	D	E	A
78.	B	C	E	D	A
79.	A	D	C	B	E
80.	E	B	D	C	A
81.	A	C	D	B	E

82.	A	C	B	E	D
83.	B	A	D	E	C
84.	A	E	D	B	C
85.	B	A	D	C	E
86.	E	C	D	A	B
87.	B	A	C	E	D
88.	B	C	D	E	A
89.	A	D	C	E	B
90.	C	B	E	A	D
91.	C	E	A	D	B
92.	B	D	E	A	C
93.	D	C	A	E	B
94.	C	B	E	D	A
95.	C	D	B	E	A
96.	A	D	E	C	B
97.	D	B	E	C	A
98.	C	A	D	E	B
99.	D	E	C	A	B
100.	B	D	C	A	E
101.	C	D	B	A	E
102.	A	C	D	B	E
103.	C	A	E	D	B
104.	B	D	C	A	E
105.	D	C	B	E	A
106.	E	A	C	D	B
107.	D	E	A	C	B
108.	A	C	D	B	E
109.	C	B	A	E	D
110.	B	D	C	A	E



Paket Soal Tryout SKD

2

Jumlah soal = 110
Waktu = 100 menit

Tes Wawasan Kebangsaan (TWK)

1. Perubahan cara berbelanja di era sekarang yang mengalami perubahan dari sistem offline menjadi sistem online membawa pengaruh yang sangat besar. Salah satunya adalah kemudahan untuk berbelanja produk-produk luar negeri dengan harga yang relatif terjangkau. Menyikapi fenomena ini, sebagai generasi bangsa hal yang dapat kita lakukan sebagai upaya bela negara adalah
 - A. Hanya membeli produk luar negeri yang tidak tersedia di dalam negeri
 - B. Mengusulkan kepada pemerintah untuk membuat regulasi yang mengatur batasan dalam pembelian produk luar negeri secara online
 - C. Mengajak kepada masyarakat luas untuk memboikot produk-produk luar negeri
 - D. Menanamkan kepada diri sendiri dan orang sekitar gerakan cinta produk-produk dalam negeri
 - E. Membuat kampanye tentang produk-produk dalam negeri yang berkualitas di media sosial
2. Kebebasan berpendapat merupakan bagian penting dari sebuah demokrasi. Kebebasan ini memiliki dasar hukum yang diatur dalam Pasal 28 UUD 1945 bahwa setiap orang bebas berpendapat, yang dapat disalurkan melalui berbagai media. Dengan berdasarkan tuntunan Pancasila, hal yang tidak wajib kita perhatikan dalam menyampaikan pendapat adalah
 - A. Tidak menyerang pribadi orang lain
 - B. Tidak memiliki tendensi apapun
 - C. Tidak menimbulkan perpecahan
 - D. Menggunakan kata-kata yang santun
 - E. Memiliki dasar argumen yang jelas dan kuat
3. Calista merupakan seorang pegawai di sebuah instansi yang memiliki etos kerja yang baik. Dia selalu berusaha menyelesaikan pekerjaannya yang menumpuk demi mengejar target yang diberikan walaupun saat ini dia sedang mengandung. Sikap Calista ini menunjukkan implementasi dari nilai integritas
 - A. Mandiri
 - B. Kerja keras
 - C. Disiplin
 - D. Tanggung jawab
 - E. Jujur
4. Setelah terpilih sebagai kepala desa Pak Yanto ingin melihat seluruharganya memiliki hunian yang layak, sehingga



- dia segera menjalankan program untuk memperbaiki rumah-rumah warga yang kurang layak. Melihat mulianya program Pak Yanto ini, warga kemudian beramai-ramai untuk ikut memberikan bantuan, mulai dari bantuan tenaga sampai bantuan materi demi mensukseskan program tersebut. Situasi ini menjadi salah satu contoh kejadian yang merupakan implementasi dari wawasan nusantara pada asas
- Solidaritas
 - Sosial budaya
 - Keadilan
 - Tujuan bersama
 - Kerja sama
5. Menjaga kerukunan antarumat beragama merupakan pengamalan sila pertama yang secara tidak langsung dapat menjaga keharmonisan hidup berbangsa dan bernegara. Berdasarkan pemahaman tersebut upaya yang dapat kita lakukan untuk menjaga kerukunan dalam hidup beragama di Indonesia adalah
- Mempelajari ajaran agama selain agama kita
 - Membantu dalam penyebaran agama lain di lingkungan kita
 - Meyakini semua kepercayaan yang ada di Indonesia
 - Memberikan kebebasan beribadah bagi pemeluk agama lain
 - Mengikuti ritual dari keagamaan lain sebagai bentuk toleransi
6. "Sepakbola merupakan olahraga yang memiliki banyak peminat di Indonesia karena hampir semua kalangan memainkannya. Ini berbeda dengan olahraga golf yang hanya dimainkan oleh kalangan menengah ke atas saja." Merupakan salah satu bentuk paragraf eksposisi
- Laporan
 - Berita
 - Ilustrasi
 - Pertentangan
 - Perbandingan
7. Dalam proses perumusan dasar negara pada pendiri bangsa utamanya perwakilan dari tokoh Islam menerima adanya masukan dan terjadinya perubahan atas asas pertama dari Pancasila. Dari peristiwa tersebut kita dapat menyimpulkan sebuah nilai luhur yaitu
- Para pendiri bangsa memiliki rasa rendah hati dan tidak memaksakan pendapatnya dalam perumusan dasar negara
 - Para pendiri bangsa bekerja keras untuk menggali segala nilai-nilai kebangsaan yang dapat menjadi dasar negara
 - Para pendiri bangsa mengutamakan persatuan dan kesatuan bangsa dan negara
 - Para pendiri bangsa melaksanakan keputusan bersama untuk kepentingan bangsa dan negara
 - Para pendiri bangsa memberikan banyak pengorbanan demi masa depan bangsa dan negara
8. Keberagaman yang ada di Indonesia selain sebagai sebuah potensi keunggulan bisa menjadi potensi terjadinya konflik horizontal yang dapat menciptakan terjadinya disintegrasi bangsa. Namun disintegrasi nasional ini dapat dicegah apabila warga negara senantiasa berpegang pada nilai-nilai Pancasila dalam kehidupan bermasyarakat, seperti penerapan nilai-nilai yang terdapat pada sila ketiga yang dapat mencegah terjadinya
- Konflik yang bersumber dari gesekan antar daerah
 - Konflik antar pendukung partai dalam pemilihan umum
 - Konflik antaragama yang muncul akibat rendahnya rasa toleransi
 - Konflik yang terjadi akibat adanya kesenjangan ekonomi di masyarakat
 - Konflik yang bersumber dari pengingkaran hak asasi warga negara
9. Di negara ini banyak sekali daerah yang memiliki keindahan alam dan menjadi tujuan wisata bagi wisatawan domestik



- ataupun mancanegara. Kedatangan wisatawan mancanegara ini tentunya juga dengan membawa budaya mereka yang sebagian tidak sesuai dengan budaya bangsa kita. Upaya yang dapat dilakukan pemerintah untuk mengantisipasi ancaman budaya asing ini terhadap nilai-nilai budaya bangsa adalah
- Mengikutsertakan kegiatan budaya asli pada kegiatan-kegiatan wisatawan mancanegara
 - Mengawasi setiap kegiatan yang dilakukan oleh wisatawan mancanegara secara detail
 - Membuat peraturan hukum terkait batas-batas penggunaan budaya asing saat berkunjung ke daerah
 - Memasukkan kegiatan budaya asli daerah sebagai bagian dari pariwisata untuk meningkatkan kecintaan penduduk lokal terhadap budaya asli daerah
 - Membatasi tingkat kunjungan wisatawan mancanegara ke daerah tersebut
10. Munculnya pergerakan nasional salah satunya didorong oleh rasa senasib sepenanggungan yang berhasil memupuk dan meningkatkan rasa persatuan dan kesatuan bangsa. Makna dari rasa senasib dan sepenanggungan disini adalah
- Bangsa Indonesia memiliki kesamaan nasib dan tujuan untuk meraih kemerdekaan dan terlepas dari penjajahan
 - Bangsa Indonesia memiliki kesamaan nasib penderitaan karena dijajah oleh bangsa asing
 - Bangsa Indonesia memiliki kesamaan nasib yang sama dengan bangsa lain di seluruh dunia
 - Bangsa Indonesia memiliki kesamaan nasib dan beban yang harus dirasakan bersama oleh seluruh bangsa
 - Bangsa Indonesia memiliki kesamaan nasib yang sama dalam merasakan penderitaan dan keterbelakangan pendidikan
11. Riko dan Juan melamar di sebuah perusahaan yang sama. Setelah melalui beberapa seleksi Juan diterima di perusahaan tersebut. Namun setelah ditelusuri ternyata diterimanya Juan kental dengan unsur nepotisme karena merupakan saudara dekat dari petugas seleksi. Kasus pada proses rekrutmen di perusahaan ini merupakan contoh pengingkaran integritas pada nilai
- Inti
 - Etos kerja
 - Kejujuran
 - Disiplin
 - Sikap
12. Salah satu ancaman dan gangguan keamanan adalah adanya kelompok tertentu yang ingin memisahkan diri dari negara Indonesia. Sampai saat ini potensi gerakan separatis masih ada dan berupaya untuk mengganggu stabilitas keamanan di negara kita tercinta. Secara umum kemunculan kelompok separatis ini dapat dihindari apabila
- Negara melakukan pembangunan yang menyeluruh dan dampaknya dapat dirasakan oleh seluruh rakyat
 - Negara dapat memenuhi semua tuntutan yang diberikan oleh kelompok-kelompok ini
 - Seluruh warga negara memiliki jiwa nasionalisme yang tinggi terhadap negara
 - Seluruh warga negara mendapatkan rasa keadilan dalam kehidupan sehari-hari
 - Seluruh warga negara mau untuk bergerak membela negara menghadapi seluruh ancaman dan tantangan
13. Bangsa Indonesia memiliki karakteristik budaya yang berbeda dengan budaya-budaya dari bangsa asing lainnya. Karena budaya bangsa Indonesia memiliki nilai-nilai yang menjadi acuan dan mendasari perkembangan karakter budaya nasional, begitupun dengan budaya bangsa lain.



- Pernyataan yang sesuai dengan paragraf tersebut adalah
- Budaya nasional merupakan sebuah jati diri yang menunjukkan nilai-nilai dari sebuah bangsa
 - Budaya bangsa Indonesia tertinggal dibandingkan dengan budaya dari bangsa-bangsa lain
 - Budaya nasional antar bangsa memiliki karakteristik masing-masing dan saling bersaing untuk menjadi yang lebih unggul
 - Budaya nasional antar bangsa memiliki perbedaan karakter yang dapat disatukan dalam kehidupan global
 - Budaya nasional meliputi karakter dan nilai di dalamnya dan tidak hanya terbatas pada bahasa saja
14. Di Indonesia, asas kewarganegaraan yang berlaku bersifat tunggal dan kewarganegaraan ganda secara terbatas yang dalam penetapannya menganut asas ius sanguinis yaitu penentuan kewarganegaraan berdasarkan keturunan. Tetapi dalam kondisi tertentu juga menganut asas ius soli, seperti pada kondisi berikut
- Anak yang lahir dari perkawinan yang sah dari seorang ayah warga negara asing dan ibu warga negara Indonesia
 - Anak yang lahir di luar perkawinan yang sah dari seorang ibu warga negara Indonesia
 - Anak yang lahir dalam tenggang waktu 300 (tiga ratus) hari setelah ayahnya meninggal dunia dari perkawinan yang sah dan ayahnya warga negara Indonesia
 - Anak yang lahir dari perkawinan yang sah dari seorang ibu warga negara Indonesia, tetapi ayahnya tidak mempunyai kewarganegaraan atau hukum negara asal ayahnya tidak memberikan kewarganegaraan kepada anak tersebut
 - Anak yang lahir di wilayah negara Republik Indonesia yang pada waktu lahir tidak jelas status kewarganegaraan ayah dan ibunya
15. Mulai awal tahun ini Pemerintah Kota Semarang akan melakukan penertiban terhadap pedagang kaki lima yang berjualan di atas trotoar dan memindahkannya ke lokasi khusus yang telah disediakan. Hal ini dilakukan karena keberadaan pedagang kaki lima di trotoar telah mengganggu hak pejalan kaki dan menjadikan lingkungan sekitar trotoar menjadi kumuh. Sesuai dengan nilai Pancasila, perilaku yang dapat dilakukan oleh pedagang kaki lima adalah
- Tetap berjualan di trotoar dengan memberikan ruang buat pejalan kaki dan menjaga kebersihan lingkungan
 - Segera mencari lokasi trotoar lain yang terbebas dari upaya penertiban pemerintah
 - Melakukan demonstrasi besar-besaran dan menolak rencana pemerintah tersebut
 - Mendukung dan segera melakukan persiapan untuk berjualan di lokasi yang telah disediakan oleh pemerintah
 - Meminta kepada pemerintah untuk mencari lokasi yang lebih baik daripada lokasi yang sudah disediakan pada saat ini
16. Dalam sebuah penulisan penggunaan majas bertujuan untuk membuat tulisan atau kalimat menjadi lebih hidup dan enak didengar, termasuk kalimat di bawah ini yang menggunakan majas litotes yaitu
- Setiap pagi aku selalu membersihkan gigiku dengan pepsodent
 - Kalau berkenan mampirilah ke warung sederhanaku di Jogja City Mall
 - Setiap kali Dia marah suaranya menggelegar memecahkan gendang telinga
 - Seujung kuku pun aku tidak akan menginjakkan kakiku di halaman rumahnya lagi
 - Suaramu indah sekali seperti suara bebek yang sedang berbaris
17. Clara baru saja berhasil mendapatkan beasiswa untuk studi lanjut, dan kemudian dia berinisiatif untuk membagikan kiat-kiat mendapatkan beasiswa tersebut pada teman-temannya dan adik kelasnya. Sesuai norma dan keadilan berdasarkan

Pancasila, perilaku Clara ini termasuk dalam partisipasi untuk

- A. Menjaga keselarasan hak dan kewajiban
 - B. Memberikan kepantasan dan kesamaan nasib
 - C. Menempatkan keadilan sebagai tujuan bangsa
 - D. Mewujudkan persatuan tanpa diskriminasi
 - E. Mewujudkan kebebasan penyampaian aspirasi
18. Akhir-akhir ini media sosial diramaikan oleh beredarnya sebuah video yang menunjukkan sekelompok nelayan Indonesia yang berusaha menghalau kapal-kapal dari nelayan asing yang berusaha memasuki wilayah Indonesia untuk mencari ikan. Upaya para nelayan ini merupakan bentuk tindakan dari upaya bela negara sishankamrata dari ciri
- A. Utama
 - B. Pendukung
 - C. Kewilayahan
 - D. Kesemestaan
 - E. Kerakyatan
19. Masyarakat Baduy memiliki pandangan hidup berupa norma cekelan yang artinya pegangan hidup. Dalam pandangan mereka alam semesta harus dilestarikan dengan menjaga sikap dan perilaku sebagai manusia. Upaya-upaya orang Baduy untuk menjaga lingkungan tempat tinggalnya dengan menghargai alam sepenuh hati supaya tidak sampai rusak ini disebut sebagai
- A. Tradisi
 - B. Budaya
 - C. Kearifan lokal
 - D. Khasanah
 - E. Adat
20. Indonesia merupakan bangsa dan negara yang besar, baik secara kuantitas maupun secara kualitas. Dengan potensi tersebut Indonesia memiliki kekuatan besar untuk menerapkan Pancasila dalam kehidupan global dengan melawan segala kelemahan dan mengatasi segala tantangannya.

Berdasarkan analisis SWOT, salah satu tantangan yang dapat menghambat penerapan Pancasila dalam kehidupan global adalah

- A. Rendahnya kualitas Sumber Daya Manusia
 - B. Masuknya budaya luar yang mempengaruhi gaya hidup generasi muda
 - C. Pembangunan yang belum merata
 - D. Adanya bencana alam
 - E. Pengelolaan sumber daya alam yang belum maksimal
21. Dalam Pasal 32 Ayat 2 UUD Tahun 1945, dijelaskan bahwa negara menghormati dan memelihara bahasa daerah sebagai kekayaan budaya nasional. Namun yang terjadi pada saat ini banyak generasi muda yang tidak bisa menggunakan bahasa daerahnya. Pernyataan yang sesuai untuk menyikapi kondisi ini adalah
- A. Pelestarian bahasa daerah harus diatur dan dijamin dalam undang-undang
 - B. Saat ini bahasa daerah digunakan secara rutin di lingkungan sekolah
 - C. Bahasa daerah merupakan warisan leluhur yang merupakan bagian dari kebudayaan nasional
 - D. Bahasa daerah merupakan refleksi dari nilai luhur masyarakat
 - E. Bahasa daerah harus diajarkan di lingkungan keluarga kepada generasi penerus
22. Sebagai demokrasi terbesar yang ada di Republik Indonesia pemilihan umum terkadang menyisakan perselisihan. Apabila terjadi perselisihan hasil pemilihan umum maka lembaga yang bertugas untuk menyelesaikan adalah MK bukan KPU atau Panwaslu karena
- A. Sesuai dengan amanat yang tercantum dalam UUD 1945
 - B. Mencegah adanya keberpihakan pada salah satu pihak yang berselisih
 - C. KPU dan Panwaslu tidak memiliki kemampuan untuk menyelesaikannya
 - D. Meminimalisir terjadinya bentrokan antar pendukung pihak yang berselisih



- E. Merupakan lembaga independen yang tidak terikat
23. Gotong royong dalam mewujudkan Indonesia yang damai dalam persatuan dan kesatuan memerlukan tanggung jawab dan kolaborasi dari seluruh pihak. Langkah awal yang dapat dilakukan untuk menjaga rasa persatuan dan kesatuan di tengah keberagaman yang ada di Indonesia adalah
- Saling menghormati dan patuh terhadap aturan hukum yang berlaku
 - Berusaha mewujudkan keseimbangan antar hak dan kewajiban dalam kehidupan sehari-hari
 - Menghormati perbedaan dan meningkatkan rasa toleransi dalam kehidupan bermasyarakat
 - Melakukan kegiatan-kegiatan yang berkeadilan sosial terhadap siapapun yang membutuhkan
 - Banyak melakukan kegiatan bersama lintas budaya untuk menumbuhkan persatuan dan kesatuan
24. Karena tidak bisa mengontrol emosi saat melaksanakan debat, Firman melakukan tindakan yang bertentangan dengan Pancasila dengan mencela dan menghina Azis secara personal. Setelah melakukan itu Firman merasa tertekan dan tidak tenang karena dihantui oleh rasa bersalah dan penyesalan. Dalam kehidupan berbangsa dan bernegara yang dilandasi oleh Pancasila, situasi ini terjadi karena Firman telah melakukan pelanggaran terhadap norma
- Adat
 - Agama
 - Hukum
 - Kesusilaan
 - Kesopanan
25. Berdasarkan catatan sejarah, BPUPKI mengadakan sidang sampai dua kali dalam upaya persiapan kemerdekaan Indonesia. Pada sidang pertama BPUPKI bertujuan untuk merumuskan dasar negara, kemudian pada sidang yang kedua membahas tentang rancangan undang-undang dasar, bentuk negara, serta hal lain yang terkait dengan pemerintahan. Nilai yang dapat kita ambil dari peristiwa dua sidang BPUPKI ini adalah
- BPUPKI berusaha menyiapkan alat-alat negara secara lengkap
 - BPUPKI memiliki dedikasi yang tinggi untuk kemerdekaan bangsa Indonesia
 - BPUPKI memiliki tujuan menjadikan bangsa Indonesia sebagai negara yang berdaulat
 - BPUPKI berusaha untuk meraih tujuan kemerdekaan dengan bekerja keras
 - BPUPKI memberikan contoh betapa tidak mudahnya upaya untuk meraih kemerdekaan
26. Ridwan selalu bangun pagi setiap hari. Setelah menjalankan ibadah shalat subuh Dia selalu berjalan kaki berkeliling desa selama satu jam. Pada akhir perjalanan Dia selalu beristirahat di tepi sungai pinggir desa. Di pinggir sungai tersebut terdapat sebuah saung kecil yang menjadi tempat favorit orang-orang untuk melihat matahari terbit. Melihat isinya paragraf di atas termasuk ke dalam paragraf
- Persuasi
 - Deskripsi
 - Eksposisi
 - Argumentasi
 - Narasi
27. UUD Tahun 1945 merupakan pengejawantahan dari sila-sila Pancasila. Termasuk pasal yang menjelaskan bahwa setiap orang berhak mengembangkan diri melalui pemenuhan kebutuhan dasarnya, berhak mendapat pendidikan dan memperoleh manfaat dari ilmu pengetahuan dan teknologi, seni dan budaya, demi meningkatkan kualitas hidupnya dan demi kesejahteraan umat manusia yang merupakan pengejawantahan dari sila
- Pertama
 - Kedua
 - Ketiga

- D. Keempat
E. Kelima
28. Menghargai hak seseorang untuk melaksanakan ibadah sesuai kepercayaan yang dianut merupakan perwujudan nyata dari nilai Pancasila. Kondisi di mana nilai-nilai Pancasila terkait dengan hubungan manusia dengan Tuhan, manusia lain, dan lingkungan merupakan penjabaran dari
- Nilai ideologis Pancasila
 - Nilai subjektif Pancasila
 - Nilai objektif Pancasila
 - Nilai dasar Pancasila
 - Nilai aktual Pancasila
29. Secara umum integritas dirumuskan ke dalam tiga komponen nilai, yaitu nilai inti, nilai etos kerja, dan nilai sikap. Perilaku di bawah ini yang termasuk ke dalam implementasi dari nilai inti integritas adalah
- Yoga menemukan sejumlah uang di ruangan rapat kantor yang tidak diketahui pemiliknya. Dia kemudian mengumumkan kepada seluruh karyawan untuk menemukan pemilik dari uang tersebut
 - Fendi melihat kecurangan dalam proses rekrutmen karyawan di tempatnya bekerja. Tanpa ragu dia kemudian melakukan protes dan meminta rekrutmen karyawan untuk dilaksanakan sebagaimana aturan yang berlaku.
 - Di kantornya Siska dikenal sebagai orang yang suka menolong siapapun yang membutuhkan. Dia selalu berusaha untuk membantu bahkan tanpa diminta sekalipun
 - Argo merupakan seorang direktur di sebuah perusahaan. Sebagai direktur Argo tidak menunjukkan gaya hidup yang berlebihan di kantor. Dia bahkan sering terlihat membawa bekal untuk makan siang dan memakannya di ruang istirahat bersama karyawan yang lain.
 - Naura merupakan pegawai senior di sebuah instansi pemerintah. Sebagai pegawai senior Naura dikenal sangat ramah dan tidak membedakan saat bergaul. Dia bahkan tidak segan untuk turun tangan membantu pegawai baru.
30. Negara Indonesia adalah negara yang berdasarkan atas kedaulatan rakyat yang pelaksanaannya ditentukan oleh UUD Negara Republik Indonesia Tahun 1945. Artinya, UUD Negara Republik Indonesia Tahun 1945 menentukan bagian mana dari kedaulatan rakyat yang pelaksanaannya diserahkan kepada badan/lembaga yang keberadaan, wewenang, tugas, dan fungsinya ditentukan oleh UUD 1945. Teori kedaulatan rakyat ini juga dipertegas dengan kedaulatan hukum yang penegasannya secara jelas tercantum dalam
- Pembukaan UUD 1945 alinea pertama
 - Pembukaan UUD 1945 alinea keempat
 - UUD 1945 Pasal 1 Ayat 2
 - UUD 1945 Pasal 27 Ayat 1
 - UUD 1945 Pasal 29 Ayat 1

Tes Inteligensi Umum (TIU)

31. GUNDU : KELERENG = ... : ...
- Iterasi : Ulangan
 - Komputer : Teknologi
 - Angin : Udara
 - Laut : Ombak
 - Pertimbangan : Awal
32. MATA RANTAI : HUBUNGAN = ... : ...
- Sombong : Besar Kepala
 - Besar Mulut : Oleh-oleh
 - Kaki Tangan : Pemimpin
 - Main Mata : Melirik
 - Tinggi Hati : Ramah
33. ROMANTIKA : LIKA-LIKU = ... : ...
- Buldan : Perumahan
 - Melik : Ingin Memiliki
 - Polos : Garis
 - Markas : Tujuan
 - Laki-laki : Perempuan
34. RAWON : KELUAK = ... : ...
- Kopi : Pahit
 - Balado : Cabe



- C. Opor : Ayam
D. Bakwan : Jagung
E. Pete : Jengkol
35. Diberikan pernyataan-pernyataan sebagai berikut:
1. Jika hari panas maka Ani memakai topi.
 2. Ani tidak memakai topi atau ia memakai payung.
 3. Ani tidak memakai payung.
- Kesimpulan yang sah adalah ...
- A. Hari panas
 - B. Hari tidak panas
 - C. Ani memakai topi
 - D. Hari panas dan Ani memakai topi
 - E. Hari tidak panas dan Ani memakai topi
36. Dalam sebuah kelas, sebagian besar murid pandai berenang, sebagian besar juga pandai mendayung. Jadi
- A. Sebagian besar murid tidak pandai berenang dan tidak pandai mendayung.
 - B. Sebagian besar murid pandai berenang saja.
 - C. Sebagian tertentu dari murid-murid itu pandai berenang dan pandai mendayung.
 - D. Sebagian besar murid pandai berenang dan pandai mendayung.
 - E. Tidak dapat ditarik kesimpulan.
37. Semua penonton konser memakai pita kertas. Ani adalah penonton konser. Jadi
- A. Ani memakai pita kertas.
 - B. Ani tidak memakai pita kertas.
 - C. Bukan Ani yang memakai pita kertas.
 - D. Ani memakai bukan hanya pita kertas.
 - E. Kecuali Ani, penonton memakai pita kertas.
38. Bila melewati pasar atau lorong, harus berselimut atau berjaket. Anis melewati lorong. Jadi
- A. Anis memakai jaket.
 - B. Anis memakai jaket dan berselimut.
 - C. Anis memakai baju yang bukan jaket.
 - D. Anis tidak memakai jaket atau selimut.
 - E. Bukan jaket atau selimut yang dipakai Anis.
39. Enam pelajar diberi kesempatan mempresentasikan hasil penelitian mereka di hadapan dewan juri. Arjuna dan Efendi meneliti tentang Ilmu Pengetahuan Sosial (IPS). Betaria dan Putera meneliti bidang Bahasa, sedangkan Kevin dan Mega melakukan penelitian di bidang Ilmu Pengetahuan Alam (IPA). Jika setiap satu presentasi bidang Bahasa harus diselingi oleh dua presentasi IPA atau satu presentasi IPS, kemungkinan peserta yang tampil adalah
- A. Betaria, Mega, Putera, Arjuna, Kevin, Efendi
 - B. Efendi, Putera, Mega, Arjuna, Betaria, Kevin
 - C. Kevin, Mega, Betaria, Arjuna, Efendi, Putera
 - D. Mega, Kevin, Betaria, Arjuna, Putera, Efendi
 - E. Mega, Betaria, Efendi, Kevin, Putera, Arjuna
40. Aria berlari secepat Coki. Dani jauh lebih cepat larinya daripada Coki dan Eki, sedangkan Aria berlari lebih lambat daripada Eki. Anto berlari jauh lebih cepat daripada Eki dan Dani. Orang yang kecepatan larinya berada pada urutan ketiga tercepat adalah
- A. Anto
 - B. Aria
 - C. Dani
 - D. Coki
 - E. Eki
41. Dalam satu bursa lowongan kerja, perguruan tinggi mengharuskan agar mahasiswa semester akhir menentukan pilihan dengan ketentuan sebagai berikut.
1. Setiap mahasiswa hanya bisa melamar dua sampai empat perusahaan.
 2. Perusahaan yang dapat dipilih adalah Bank, Penerbangan, Agen Travel, Perminyakan, Telekomunikasi, Otomotif.
 3. Mahasiswa yang melamar ke Bank harus juga melamar ke Agen Travel, demikian juga sebaliknya.
 4. Mahasiswa boleh melamar ke Perminyakan atau Telekomunikasi, tetapi tidak keduanya.



5. Perminyakan dan Penerbangan tidak boleh dilamar oleh mahasiswa yang sama.
- Jika dalam bursa tersebut seorang mahasiswa melamar ke Telekomunikasi, perusahaan lain yang dilamar lagi adalah
- Penerbangan, Otomotif, Agen Travel
 - Penerbangan, Perminyakan, Bank
 - Bank, Penerbangan, Perminyakan
 - Bank, Penerbangan, Agen Travel
 - Bank, Penerbangan, Otomotif
42. Agen penjualan sepeda motor menjual lima merk sepeda motor H, S, N, T, J dengan daya tahan dan penggunaan bahan bakar yang berbeda sebagai berikut.
- Sepeda motor H lebih tahan daripada sepeda motor N dan sepeda motor H lebih irit daripada sepeda motor N.
 - Sepeda motor N lebih tahan daripada sepeda motor S dan sepeda motor N lebih irit daripada sepeda motor S.
 - Sepeda motor S lebih tahan daripada sepeda motor T dan sepeda motor S lebih irit daripada sepeda motor J.
 - Sepeda motor T lebih tahan daripada sepeda motor J dan sepeda motor J lebih irit daripada sepeda motor T.
- Sepeda motor J menempati urutan daya tahan dan keiritan penggunaan bahan bakar pada peringkat
- Paling tidak tahan dan kedua paling tidak irit.
 - Paling tidak tahan dan kedua paling irit.
 - Kedua paling tidak tahan dan kedua paling irit.
 - Kedua paling tahan dan kedua paling irit.
 - Ketiga paling tidak tahan dan kedua paling tidak irit.
43. $634 + 8 \times 125 - 2.048 : 64 = \dots$
- 1.456
 - 1.602
 - 1.666
 - 1.774
 - 1.888
44. $(180 : 9)^2 - (120 - 101)^2 = \dots$
- 29
 - 31
 - 33
 - 37
 - 39
45. Diketahui:
- $$\frac{1}{2}; 0,65; 1\frac{1}{7}; \frac{1}{8}; 37,5\%$$
- Urutan pecahan dari yang terkecil ke terbesar adalah ...
- $\frac{1}{8}; 37,5\%; \frac{1}{2}; 0,65; 1\frac{1}{7}$
 - $\frac{1}{2}; 0,65; \frac{1}{8}; 37,5\%; 1\frac{1}{7}$
 - $37,5\%; \frac{1}{2}; 0,65; \frac{1}{8}; 1\frac{1}{7}$
 - $\frac{1}{8}; 37,5\%; 0,65; \frac{1}{2}; 1\frac{1}{7}$
 - $\frac{1}{8}; \frac{1}{2}; 37,5\%; 0,65; 1\frac{1}{7}$
46. Nilai dari 65% dari $\frac{1}{13}$ adalah
- 0,04
 - 0,05
 - 0,13
 - 0,78
 - 1,13
47. ..., ..., 9, 15, 23, 33, 45, 58, 75, 90
- 3, 4
 - 1, 2
 - 2, 5
 - 1, 3
 - 3, 5
48. ..., ..., 14, 22, 28, 44, 56, 88, 112
- 7, 9
 - 7, 11
 - 8, 9
 - 8, 11
 - 10, 12
49. -3, ..., -8, -6, -12, -16, ..., -24, -32
- 3, -12
 - 6, -16
 - 6, -12
 - 8, -16
 - 8, -12



50. Jika x menyatakan bilangan 55,4% dari 0,99 dan y menyatakan bilangan 9,9% dari 5,54 maka ...

- A. $x > y$
- B. $x < y$
- C. $x = y$
- D. x dan y tidak bisa ditentukan
- E. $2x > 2y$

51. Jika $x = \frac{1}{13} + \frac{1}{14}$ dan $y = \frac{1}{15} + \frac{1}{16}$ maka ...

- A. $x > y$
- B. $x < y$
- C. $x = y$
- D. x dan y tidak bisa ditentukan
- E. $2x << 2xy$

52. Kereta api dari Jakarta ke Semarang ada 4, sedangkan dari Semarang ke Madiun ada 3. Jika Rully ingin pergi ke Madiun dari Jakarta melewati Semarang dengan kereta api. Ada berapa cara yang dapat ia lakukan untuk menggunakan kereta api?

- A. 6
- B. 7
- C. 9
- D. 12
- E. 15

53. Untuk dapat bepergian ke Makassar, seseorang dari Cilacap harus ke Jakarta naik bus, kemudian dari Jakarta ke Makassar naik pesawat. Jika dari Cilacap ke Jakarta ada 6 bis, sedangkan dari Jakarta ke Makassar ada 4 pesawat maka berapa perjalanan Cilacap–Makassar pergi pulang dan tidak boleh menggunakan kendaraan yang sama?

- A. 160
- B. 200
- C. 240
- D. 360
- E. 400

54. Dalam suatu kelas perbandingan antara siswa perempuan dan siswa laki-laki adalah 4 : 3. Jika selisih jumlah siswa perempuan dan laki-laki adalah 6, banyak siswa dalam kelas tersebut adalah

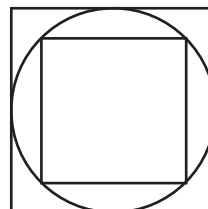
- A. 36
- B. 40
- C. 42
- D. 45
- E. 48

55. Rata-rata dari 2125, 2135, 2145, 2155, 2165, 2175, 2185, 2195 adalah ...

- A. 2155,00
- B. 2155,50
- C. 2160,00
- D. 2165,00
- E. 2155,50

56. Jika luas persegi besar 144 cm² maka keliling lingkarannya adalah ...

- A. 6π
- B. 8π
- C. 9π
- D. 12π
- E. 81π



57. Data hasil penjualan rata-rata setiap bulan sebuah toko serba ada sebagai berikut.

Jenis Barang	Omzet (juta)	Keuntungan
Handuk	40	25%
Buah	50	40%
Biskuit	40	50%
Jaket	25	10%
Alat tulis	50	20%

Jika promosi berhasil meningkatkan omzet penjualan dua kali lipat untuk handuk dan jaket, berapa besar total keuntungan yang diperoleh toko serba ada tersebut?

- A. 45 juta
- B. 55 juta
- C. 63 juta
- D. 65 juta
- E. 75 juta

58. Sebuah bilangan terdiri atas empat buah angka yang berbeda. Jumlah keempat angka adalah 12. Angka pertama ditambah angka ketiga sama dengan angka keempat dikurangi angka kedua. Angka ketiga sama dengan selisih angka pertama dan kedua. Angka keempat dibagi angka kedua sama



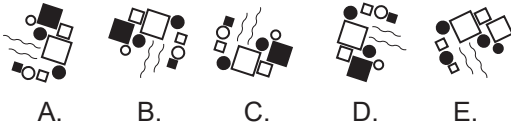
dengan angka pertama dibagi angka ketiga. Bilangan tersebut adalah ...

- A. 1236
- B. 1326
- C. 1632
- D. 2136
- E. 2316

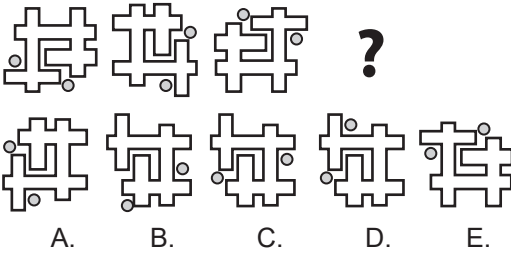
59. Carilah gambar yang berbeda.



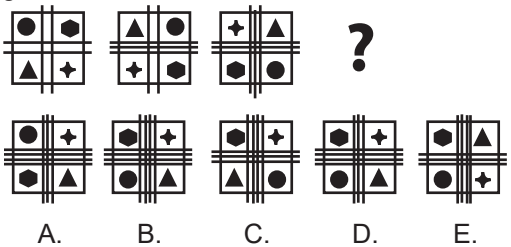
60. Carilah gambar yang berbeda.



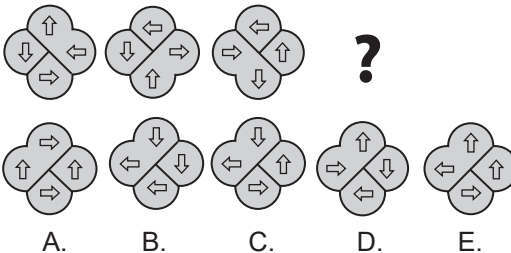
61. Carilah gambar selanjutnya pada seri gambar berikut ini.



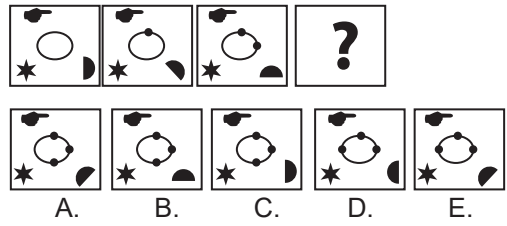
62. Carilah gambar selanjutnya pada seri gambar berikut ini.




63. Carilah gambar selanjutnya pada seri gambar berikut ini.



64. Carilah gambar selanjutnya pada seri gambar berikut ini.



65. Carilah gambar selanjutnya pada seri gambar berikut ini.



Tes Karakteristik Pribadi (TKP)

66. Untuk meningkatkan penjualan produk saya melalui media sosial, salah satu cara yang saya tempuh adalah memberikan keuntungan kepada pembeli dengan tidak membebankan biaya pengiriman. Kemudian ada seorang pembeli yang membeli produk termurah saya dan ternyata dia berasal dari kota yang sangat jauh sehingga biaya kirimnya sangat mahal dan melebihi yang saya duga. Saya akan

- A. Tetap mengirimkan barang sesuai kesepakatan karena saya memang tidak mencantumkan minimal pembelian sebagai syarat
- B. Tetap mengirimkan barang sesuai kesepakatan karena dia tidak berbeda seperti pelanggan lain yang ingin mendapatkan keuntungan dari program ini
- C. Memintanya untuk menambah barang belanjaan supaya saya tidak terlalu dirugikan



- D. Dengan sangat terpaksa tidak menerima pesanan tersebut karena biaya pengiriman yang sangat mahal
- E. Dengan sangat terpaksa memintanya untuk ikut membayar separuh biaya pengiriman
67. Pemimpin instansi menginginkan masukan dari para staf terkait inovasi untuk meningkatkan pelayanan publik di kantor kami. Hal yang menurut saya penting dan akan saya usulkan adalah
- A. Tetap membuka sebagian loket pelayanan pada saat istirahat
- B. Menambahkan pendingin ruangan pada ruang tunggu pelayanan
- C. Menyediakan makanan ringan dan minuman di ruang tunggu pelayanan
- D. Menambah pelayanan melalui aplikasi *online* sebagai salah satu pilihan pelayanan
- E. Menambah fasilitas yang dapat mempermudah masyarakat saat pelayanan
68. Sebagai seorang desainer grafis, Anda dituntut untuk memberikan sebuah karya terbaik kepada pelanggan. Ketika seorang pelanggan datang meminta sebuah jasa desain iklan untuk usahanya, Anda akan mengutamakan
- A. Memberikan desain iklan yang penuh dengan sentuhan artistik
- B. Memberikan desain iklan yang menampung seluruh ide dari pelanggan
- C. Memberikan desain iklan yang kekinian dan mampu bersaing
- D. Memberikan desain iklan yang mampu merepresentasikan usaha dari pelanggan
- E. Memberikan desain iklan yang merupakan hasil kolaborasi ide saya dan pelanggan
69. Seseorang menghubungi saya di luar jam kerja dan meminta untuk mendapatkan pelayanan surat-menyurat. Untuk keamanan, saya memang biasa membawa stempel dan semua keperluan surat-menyurat selalu bersama saya. Saya akan
- A. Memintanya datang ke rumah dan memberinya pelayanan yang dibutuhkan
- B. Menanyakan terlebih dahulu pelayanan yang dimintanya, barangkali di luar wewenang saya
- C. Memintanya untuk datang ke kantor saat jam pelayanan untuk mendapatkan pelayanan
- D. Memasukkannya dalam daftar janji pelayanan saya untuk keesokan harinya
- E. Menghubungi pimpinan dan meminta pertimbangan untuk melakukan pelayanan di luar jam kerja
70. Sudah menjadi kebijakan di restoran kami bahwa karyawan tidak boleh menerima uang tip langsung dari pelanggan dan telah disediakan tempat khusus untuk uang tip yang pada akhir jam kerja akan dibagi rata pada seluruh karyawan. Suatu hari teman masa kecil saya datang ke restoran, dan setelah selesai dia bermaksud untuk memberikan uang tip dalam jumlah yang sangat besar kepada saya. Saya akan
- A. Menerimanya dan langsung meletakkannya di tempat khusus untuk uang tip
- B. Menerimanya dan mengambil sebagian kecil sebelum meletakkannya di tempat khusus untuk uang tip
- C. Meminta teman saya untuk langsung meletakkan uang tip pada tempat khusus yang telah disediakan
- D. Menerimanya untuk saya karena saya yakin dia memberi jumlah yang besar khusus untuk saya
- E. Menolak dan meminta teman saya untuk memberi tip yang sewajarnya saja di tempat khusus uang tip
71. Seorang teman mendatangi saya dan ingin belajar berbisnis kepada saya karena dia melihat usaha jual beli yang saya lakukan berjalan dan berkembang dengan baik.

- Saya melihat dia memiliki kemampuan untuk bebisnis, tetapi terkendala modal usaha yang belum dimilikinya. Saya akan
- Memintanya untuk mengumpulkan modal usaha terlebih dahulu sebelum belajar mengelola sebuah bisnis
 - Meminjamnya modal usaha supaya dia bisa segera memulai usahanya sendiri
 - Mengajaknya menjadi mitra usaha saya untuk mengembangkan penjualan produk saya
 - Mengajarinya langkah-langkah yang diperlukan untuk mengembangkan bisnis
 - Mengajaknya untuk membantu saya berjualan terlebih dahulu supaya dia bisa mengumpulkan modal usaha
72. Akhir-akhir ini rekan kerja saya sejak lama di divisi penjualan berubah sikapnya kepada saya dan sedikit susah diajak berkomunikasi. Setelah saya selidiki ternyata dia merasa kesal karena saya mendapatkan bonus penjualan lebih banyak dari dirinya selama beberapa bulan terakhir. Saya akan
- Mendekati dan mengajaknya bekerja sama supaya bulan berikutnya kami bisa mendapatkan bonus penjualan yang sama
 - Melaporkan permasalahan ini kepada atasan dan meminta atasan untuk memberikan solusi terbaik kepada kami
 - Membiarkan saja dan berusaha untuk membatasi komunikasi dengannya terbatas pada hal-hal yang penting saja
 - Menyemangatnya supaya bekerja lebih baik untuk bisa mendapatkan bonus penjualan yang lebih baik
 - Mendiamkannya dan berharap dia bisa menyadari bahwa apa yang di lakukan terhadap saya tersebut bukan sebuah hal yang baik
73. Suatu hari dua orang karyawan saya terlibat dalam sebuah pertikaian yang ternyata disebabkan oleh masalah utang-piutang. Seorang karyawan berutang dalam jumlah yang cukup besar kepada karyawan yang lain dan tidak kunjung mengangsur utangnya. Saya akan
- Meminta karyawan yang berhutang untuk memberikan sebuah jaminan sampai dia bisa menyelesaikan utangnya
 - Mengambil keputusan dengan memotong gaji karyawan tersebut untuk membayarkan utangnya
 - Meminta mereka berdua untuk tetap bekerja baik dan tidak membuat keributan di kantor
 - Meminta mereka berdua untuk menyelesaikan masalah tersebut di luar kantor
 - Mempertemukan keluarga kedua karyawan tersebut supaya masalah tersebut bisa diselesaikan secara kekeluargaan
74. Seorang relasi di bagian penjualan mendatangi kantor dan menjelaskan bahwa dia sedang mengalami masalah finansial sehingga sedikit kesusahan untuk membayar utangnya dan meminta solusi untuk mengatasi hal tersebut. Solusi yang akan saya berikan adalah
- Memintanya tetap berjualan dan akan memotong seluruh komisi penjualannya untuk mengangsur utangnya
 - Memintanya tetap berjualan dan akan memotong sebagian komisi penjualannya untuk mengangsur utangnya
 - Berhenti memasok barang sementara sampai seluruh utangnya dilunasi
 - Berhenti memasok barang sementara sampai sebagian utangnya dilunasi
 - Memberinya kesempatan untuk tetap berjualan dan memintanya sedikit demi sedikit mulai mengangsur utangnya
75. Saya bekerja sebagai tenaga keamanan di suatu perusahaan dengan sistem *shift*. Dalam setiap *shift*, terdapat dua orang



yang berjaga. Namun, bulan ini saya mendapatkan teman jaga yang sering sekali tidur saat bertugas. Mendapati kondisi ini, saya akan

- A. Melaporkan hal tersebut kepada atasan supaya bisa diambil tindakan tegas terhadap teman saya tersebut
- B. Berusaha mengajak teman jaga saya mengobrol dan berkeliling sehingga dia tidak memiliki kesempatan untuk tidur
- C. Membagi jadwal jaga secara bergantian sehingga saya bisa tidur juga di sebagian waktu jaga
- D. Mengajaknya berbicara dan menasehatinya mengenai kewajiban untuk terjaga saat bekerja
- E. Menghadap atasan dan meminta untuk berganti pasangan jaga tanpa membicarakan tindakan teman saya tersebut

76. Seorang relasi perusahaan mendatangi saya dan meminta bantuan utang untuk acara pernikahan anaknya. Saya tidak terlalu mengenalnya secara pribadi, tetapi dia merupakan relasi yang sangat penting bagi perusahaan. Tindakan yang akan saya ambil adalah

- A. Mengajak teman-teman di perusahaan mengumpulkan uang untuk dipinjamkan kepada relasi tersebut
- B. Meminjamkan uang kepada relasi tersebut menggunakan uang pribadi meskipun jumlahnya kurang dari yang diinginkan
- C. Meminjamkan uang kepada relasi tersebut menggunakan uang perusahaan karena peran relasi tersebut sangat penting
- D. Dengan berat hati menolak permintaan tersebut karena perusahaan tidak mengizinkan hal tersebut
- E. Mengomunikasikan hal tersebut dengan teman-teman sekantor untuk mengambil keputusan terbaik

77. Drainase di lingkungan tempat tinggal kami sudah sangat rusak dan harus diperbaiki dengan segera. Dari hasil keputusan

rapat warga, sudah ditentukan bahwa setiap warga bertanggung jawab akan biaya perbaikan drainase yang terletak di depan rumah masing-masing. Namun, ada beberapa warga yang merasa keberatan dengan biaya tersebut, padahal saya tahu mereka adalah orang yang cukup mampu untuk membayar biaya perbaikan drainase tersebut. Melihat hal tersebut saya

- A. Merasa sedih karena mereka merendahkan dirinya dengan berpura-pura tidak mampu membayar biaya perbaikan drainase
- B. Meminta warga lain untuk membantu kekurangan biaya drainase sehingga drainase dapat diperbaiki seluruhnya
- C. Meminta mereka untuk menghargai hasil keputusan rapat RT karena semua warga berkorban hal yang sama
- D. Mengusulkan untuk memperbaiki drainase pada bagian-bagian depan rumah warga yang setuju saja
- E. Meminta pengurus RT untuk menindaklanjuti kondisi tersebut karena perbaikan drainase harus segera berjalan

78. Dalam perjalanan pulang kerja saat sedang menunggu bus datang, saya melihat seorang nenek mengalami kesulitan menyeberang jalan. Saat saya ingin membantunya, dari kejauhan terlihat bus yang saya tunggu sudah mendekat. Saya akan

- A. Meminta orang lain yang ada di sekitar untuk menolong nenek tersebut karena saya harus menaiki bus tersebut
- B. Segera menuju bus dan berharap ada orang yang dapat menolong nenek tersebut
- C. Menolong nenek tersebut terlebih dahulu dan akan menunggu bus berikutnya
- D. Memberi tanda kepada supir bus untuk menunggu saya selagi saya menolong nenek tersebut
- E. Menuju bus dengan perasaan bersalah karena tidak bisa menolong nenek tersebut



79. Setahun terakhir ini seorang teman dekat mempercayakan kepada saya untuk mengelola usahanya. Semua ide pengembangan dan pengelolaan sudah saya coba, tetapi hasil yang dicapai menurun dibandingkan hasil tahun sebelumnya. Saya akan
- Mengevaluasi kekurangan dan akan memperbaikinya secepatnya
 - Meminta maaf dan berjanji akan segera memperbaiki keadaan perusahaan
 - Merasa sedih karena telah mengecewakan teman saya yang telah memberi kepercayaan
 - Berusaha mencari cara baru untuk meningkatkan performa dan keuntungan perusahaan
 - Merasa biasa saja karena untung dan rugi merupakan hal yang biasa dalam sebuah usaha
80. Orang tua Rudi melarangnya untuk bepergian di malam hari karena maraknya aksi perampokan kendaraan bermotor di tengah jalanan sepi. Padahal sebagai anak muda, Rudi senang dan memerlukan waktu untuk berkumpul bersama teman-temannya. Rudi sebaiknya....
- Mengurangi kegiatan keluar malam dan hanya keluar pada hari-hari tertentu saja
 - Mematuhi orang tua dan mengajak teman-teman untuk berkumpul malam di rumah
 - Mematuhi orang tua dengan perasaan kecewa karena merasa terkekang kebebasannya
 - Hanya keluar malam pada saat yang sangat penting dan berusaha untuk kembali saat jalanan masih ramai
 - Tetap keluar malam, tetapi berusaha untuk selalu mengajak teman supaya tidak sendirian saat di jalan
81. Dalam sebuah rapat RT, saya memberikan sebuah usulan yang didukung oleh sebagian besar warga. Namun, tiba-tiba ada seorang tokoh yang berpengaruh di desa kami menolak usulan tersebut dan membuat warga menjadi bingung untuk memilih. Saya akan
- Mengusulkan dilakukan *voting* tertutup untuk membuat pilihan yang diinginkan oleh warga
 - Menarik usulan saya karena saya tidak ingin membuat warga menjadi bingung untuk memilih
 - Mempertahankan usulan saya dengan memberikan alasan-alasan yang membuat warga menjadi lebih tertarik
 - Menanyakan kekurangan usulan saya sehingga membuat tokoh tersebut menolaknya
 - Berharap usulan saya tersebut bisa diterima, meskipun dengan perbaikan-perbaikan di beberapa bagian
82. Sebagai petugas lapangan, saya diharuskan untuk memasukkan laporan kegiatan ke dalam aplikasi pada hari itu juga. Saat saya mengisi laporan ke dalam aplikasi, tanpa saya sadari saya melintasi waktu tengah malam sehingga sebagian kegiatan saya kemarin tertinggal sebagai pekerjaan hari ini. Saya akan
- Memberikan laporan tertulis kepada atasan yang menjelaskan kejadian tersebut
 - Menghadap atasan dan memberikan laporan atas kejadian tersebut
 - Menghubungi ahli IT kantor yang bertugas mengelola aplikasi tersebut dan memintanya untuk mengubah tanggal
 - Membiarkan saja dan tidak akan melakukan kegiatan pada hari ini karena laporan kegiatan sudah terisi
 - Membiarkan saja dan akan menjelaskan jika ditanya terkait kejadian tersebut
83. Saat sedang memasukkan laporan, sistem yang saya gunakan untuk mengerjakan mengalami masalah. Padahal saya baru saja menyelesaikan separuh pekerjaan dan laporan tersebut ditunggu untuk dianalisis keesokan harinya. Saya akan



- A. Segera menghubungi atasan untuk melaporkan kejadian tersebut dan meminta arahan lebih lanjut
 - B. Berusaha memperbaiki sistem tersebut dengan mencari referensi dari internet
 - C. Langsung membuat laporan secara manual sebagai pengganti karena sistem mengalami masalah
 - D. Menunggu sampai sistem normal kembali dan akan melanjutkan memasukkan laporan
 - E. Menghubungi teknisi IT kantor untuk memberitahukan kondisi tersebut dan meminta untuk segera diperbaiki
84. Saya ditugaskan untuk memasukkan laporan keuangan tahunan kantor ke dalam *website* Pemerintah Daerah. Kesempatan yang diberikan hanyalah sekali input, tanpa masa perbaikan sama sekali. Untuk menghindari kesalahan yang mungkin terjadi dalam pengisian laporan, saya akan
- A. Mengecek satu persatu bagian yang saya masukkan dan memastikannya sudah sesuai dengan data asli
 - B. Membuat rangkuman garis besar laporan keuangan dan menuliskannya dalam catatan ringkas
 - C. Memasukkan laporan keuangan tersebut saat saya dalam kondisi tubuh yang segar dan fokus
 - D. Membuat simulasi laporan secara manual untuk memastikan tidak ada kesalahan
 - E. Meminta teman untuk mendampingi saya dan membacakan laporan, sementara saya bertugas untuk memasukkannya
85. Saya bekerja sebagai seorang guru olahraga di sebuah sekolah menengah atas di kota saya. Di masa pandemi Covid-19 ini, sekolah memberlakukan Belajar Dari Rumah pada seluruh siswanya sehingga setiap guru harus memberikan materi belajar secara *online*. Strategi dan media yang saya gunakan untuk memberikan materi ajar kepada murid saya adalah
- A. Membentuk sebuah grup Whatsapp untuk sarana komunikasi antara seluruh anak didik dengan saya
 - B. Membuat *powerpoint* materi pembelajaran dan mengirimkan kepada murid untuk dipelajari
 - C. Meminta murid belajar mandiri dan memberikan soal secara berkala melalui ujian *online*
 - D. Melaksanakan tatap muka secara teratur melalui *video meeting* dan menjelaskan materi melalui sarana tersebut
 - E. Membuat video pengajaran dan tutorial praktik kegiatan olahraga yang bisa dilaksanakan murid di rumah
86. Saya sedang membangun sebuah usaha baru yang bergerak dalam bidang produksi makanan ringan. Untuk memperkenalkan usaha saya secara lebih luas langkah yang menurut saya paling efektif dan efisien untuk dilakukan adalah
- A. Menggunakan media sosial untuk promosi produk saya
 - B. Melaksanakan promosi langsung dengan membagikan sampel gratis di keramaian
 - C. Meminta bantuan teman-teman dekat saya untuk mengenalkan produk saya pada kenalan mereka
 - D. Membuat sebuah acara promosi khusus dengan mendatangkan bintang tamu untuk menarik pengunjung
 - E. Memberikan tambahan gratis untuk setiap pembelian tertentu guna menarik lebih banyak pelanggan
87. Untuk meningkatkan kedisiplinan pegawai, kantor memutuskan untuk menerapkan absensi elektronik di seluruh cabang. Namun, kebetulan mesin absensi di kantor cabang yang saya pimpin rusak setelah seminggu pemakaian dan tidak dapat digunakan untuk absen. Melihat kondisi ini saya akan
- A. Mengundang ahli elektronik untuk segera memperbaikinya



- B. Segera melaporkan ke kantor pusat dan menunggu tindak lanjutnya
- C. Membiarkan saja dan akan menggunakan absen manual seperti sebelumnya
- D. Membeli mesin absensi elektronik yang baru untuk menggantikan mesin yang rusak tersebut
- E. Meniadakan absensi sampai mesin elektronik tersebut selesai diperbaiki
88. Kantor tempat Anda bekerja berencana untuk melakukan perjalanan wisata ke luar pulau dan Anda dipercaya untuk melakukan survei tentang tempat-tempat wisata yang layak dikunjungi di pulau tersebut. Untuk mempermudah pelaksanaan survei tersebut, Anda akan
- A. Melakukan perjalanan awal ke pulau tersebut dan melakukan survei lokasi secara langsung
- B. Meminta informasi dari teman yang pernah melakukan perjalanan wisata ke pulau tersebut
- C. Melakukan survei melalui internet tentang lokasi-lokasi destinasi wisata yang menarik di pulau tersebut
- D. Menggunakan jasa agen perjalanan untuk melakukan survei tersebut supaya lebih tepat sasaran
- E. Meminta teman yang tinggal di pulau tersebut untuk mengirimkan foto-foto lokasi destinasi wisata terbaik yang ada di pulau tersebut
89. Bekerja sebagai penjaga malam di sebuah perumahan memiliki tantangan yang berbeda daripada sebagai penjaga malam di tempat lain karena selain harus menjaga keamanan, kita juga harus mampu bersosialisasi dengan warga penghuni perumahan, salah satu caranya adalah dengan membantu saat mereka membutuhkan pertolongan. Saat saya sedang bertugas di pos jaga, datang seorang warga meminta tolong saya untuk membelikan makan malam untuk anaknya. Saya akan
- A. Memanfaatkan jasa pengantaran *online* untuk membelikannya makan malam
- B. Membelikannya makan malam dari tempat terdekat agar saya bisa segera kembali ke pos jaga
- C. Membelikannya makan malam dan meminta tolong untuk menjaga pos saat saya pergi
- D. Meminta teman untuk membelikan pesanan makan malam tersebut sehingga saya tetap bisa berjaga
- E. Membelikannya makan malam karena upah yang diberikan bisa untuk tambahan penghasilan
90. Suatu hari perusahaan memutuskan bahwa karyawan harus bekerja lembur malam secara bergantian untuk menyelesaikan pekerjaan yang sudah mendekati masa tenggat. Padahal di malam hari saya harus membantu orang tua berjualan nasi goreng untuk membantu perekonomian keluarga kami. Saya akan
- A. Meminta izin tidak ikut lembur malam dan menggantinya dengan lembur di hari minggu
- B. Mengambil jatah pekerjaan lebih banyak di siang hari sehingga tidak perlu ikut lembur
- C. Mengikuti lembur malam sampai selesai dan langsung menuju tempat orang tua berjualan
- D. Meminta izin pada orang tua tidak ikut membantu berjualan saat mendapat jatah lembur malam
- E. Mengikuti lembur malam hanya sampai saat jam jualan orang tua karena saya harus membantu orang tua
91. Atasan memberikan tugas baru di luar tugas rutin yang biasa Anda kerjakan. Dalam pelaksanaan tugas tersebut, Anda menemukan kendala-kendala baru yang Anda belum pernah alami sebelumnya. Anda akan
- A. Berusaha sekeras mungkin untuk menghadapi dan mencari jalan keluar dari kendala tersebut



- B. Berkonsultasi dengan teman kantor yang lebih senior tentang cara menghadapi kendala tersebut
- C. Mengomunikasikan kendala tersebut kepada atasan dan meminta saran pemecahannya
- D. Berkonsultasi dengan teman kantor yang pernah menghadapi tugas dan kendala serupa
- E. Melihat sejauh mana kendala tersebut mengganggu pengerjaan tugas yang saya laksanakan
92. Sebagai pengusaha konveksi saya dikenal karena selalu memberikan kualitas terbaik kepada pelanggan saya. Suatu hari sebuah perusahaan datang memesan seragam untuk seluruh karyawannya dan meminta untuk dikerjakan dengan cepat tanpa mepedulikan kualitas hasil seragam. Saya akan
- A. Meminta sedikit tambahan waktu supaya pengerjaan seragam bisa maksimal dan memberikan hasil terbaik
- B. Berusaha memenuhi permintaan dan mengupayakan supaya hasilnya tidak mengecewakan
- C. Menolak permintaan tersebut karena menurunkan kualitas bisa membuat usaha saya terlihat buruk
- D. Menyarankan perusahaan tersebut untuk memesan di tempat lain yang saya tahu tidak terlalu mengutamakan kualitas
- E. Menyarankan perusahaan tersebut untuk mengutamakan kualitas supaya karyawan mendapatkan seragam dengan kualitas yang baik
93. Saya bekerja sebagai seorang supir di sebuah instansi pemerintahan di kota saya. Suatu hari saya harus mengantarkan sejumlah pegawai melakukan perjalanan ke luar kota. Di tengah jalan saya sedikit kurang berkonsentrasi dalam berkendara karena belum sempat sarapan saat berangkat. Saya akan
- A. Meminta izin untuk berhenti sementara di tempat makan supaya saya bisa mengisi perut
- B. Berusaha mengendarai dengan sebaiknya sampai saat istirahat makan tiba
- C. Meminta bekal roti dari pegawai yang kebetulan membawanya sebagai pengganti perut
- D. Mencoba menahan rasa lapar dan merasa menyesal karena tidak sempat sarapan
- E. Mempercepat laju kendaraan supaya cepat sampai di tempat istirahat untuk makan
94. Dalam sebuah perlombaan, saya tidak berhasil menjadi yang terbaik. Saya akan
- A. Biasa saja
- B. Tetap berlatih seperti biasa
- C. Terpukul dan merasa gagal
- D. Akan mencobanya lagi dan berusaha dengan lebih baik
- E. Mengevaluasi kegagalan saya
95. Setelah diterima sebagai PNS, sepuluh tahun berikutnya saya rasa saya akan berada di posisi
- A. Lebih baik dari saat ini
- B. Sama seperti saat ini
- C. Belum jelas karena saya tidak tahu nasib saya
- D. Sama seperti saat ini, tetapi berbeda tempat kerja
- E. Bukan PNS lagi
96. Saat terjadi kekosongan pimpinan di bagian tempat saya bekerja, saya diberikan tugas untuk menjadi pelaksana tugas pimpinan. Saya akan
- A. Meminta waktu untuk memikirkannya
- B. Menolaknya karena beban kerjanya sungguh berat
- C. Menerima dan melaksanakan dengan sebaik mungkin
- D. Menolak dan menyarankan teman lain untuk menggantikan saya
- E. Menerima dan meminta bantuan teman untuk membantu saya
97. Saya sangat senang melakukan perjalanan dan berpetualang karena
- A. Memberikan energi baru untuk bekerja
- B. Bisa melakukan hal-hal baru



- C. Bisa melupakan beban pekerjaan
 D. Membuat hati menjadi tenang
 E. Bisa bertemu dengan banyak orang baru
98. Dalam menghadapi sebuah permasalahan, biasanya saya mempunyai ide-ide yang
 A. Sama dengan banyak orang
 B. Segar dan memberi solusi
 C. Sedikit ketinggalan jaman
 D. Biasa saja
 E. Bisa diterima banyak orang
99. Perusahaan membutuhkan masukan terkait sistem kerja baru dan fasilitas karyawan untuk tahun depan. Saya akan
 A. Membiarkan orang lain mengajukan ide terlebih dahulu
 B. Memberi masukan hanya apabila diperintahkan oleh atasan
 C. Tidak ikut memberikan masukan
 D. Memberi masukan sistem kerja yang efektif untuk perusahaan dan karyawan
 E. Mendukung ide dari teman dekat saya
100. Saat sedang menikmati makan siang pada jam istirahat, tiba-tiba datang seorang tamu yang membutuhkan pelayanan di kantor saya. Kebetulan teman saya di bagian tersebut sedang keluar, saya akan
 A. Menelepon teman saya untuk segera kembali ke kantor
 B. Segera membantu tamu tersebut sebisa saya
 C. Meminta teman yang lain untuk menemani tamu tersebut
 D. Membiarkan saja karena itu bukan tanggung jawab saya
 E. Menerima tamu tersebut dan memintanya untuk menunggu
101. Berkembangnya teknologi sangat memudahkan hidup manusia. Berbagai macam layanan berbasis aplikasi bermunculan, termasuk pinjaman *online* yang dapat membantu orang mendapatkan pinjaman dana dengan cepat. Saat terpaksa harus menggunakan pinjaman *online*, hal yang saya lakukan adalah
 A. Meminjam dengan batas paling minim yang diberikan
 B. Meminjam sesuai kebutuhan saya
 C. Membaca ketentuan dan persyaratan dengan saksama
 D. Meminjam sesuai kemampuan saya membayar
 E. Memanfaatkannya untuk meminjam modal usaha
102. Bisnis *online* tumbuh sangat pesat di Indonesia. Banyak orang yang memperoleh keberhasilan melalui bisnis *online*. Melihat peluang yang sangat menjanjikan ini, saya mencoba memulai usaha *online* berjualan dengan memanfaatkan media sosial. Untuk memperkenalkan produk saya dan mencari pelanggan, strategi yang akan saya tempuh adalah
 A. Membuat banyak akun di berbagai macam media sosial agar produk saya mudah dikenal
 B. Memasang iklan pada media sosial untuk menjaring pelanggan
 C. Fokus pada media sosial tertentu yang sekiranya dapat mendongkrak penjualan
 D. Mengamati orang yang sudah berhasil dan meniru cara promosinya
 E. Menetapkan target pasar dan menggunakan media sosial yang sesuai untuk menjangkaunya
103. Untuk alasan keamanan, pemimpin perusahaan memutuskan untuk memasang CCTV di setiap ruangan dan beberapa sudut kantor. Namun, saya merasa alasan utama adalah untuk memantau kinerja para pegawai. Berdasarkan pada pemikiran itu, saya akan
 A. Melakukan protes pada pimpinan karena mengambil keputusan tersebut
 B. Menjauhi zona CCTV saat membutuhkan waktu istirahat bekerja
 C. Tetap bekerja seperti biasa dan tidak terpengaruh adanya pemasangan CCTV di ruangan
 D. Bekerja lebih giat karena semua kegiatan saya akan terpantau oleh CCTV



- E. Mengajak teman-teman yang tidak nyaman dengan pemasangan CCTV melakukan protes kepada pimpinan
104. Pembatasan Sosial Berskala Besar berimbas kepada banyak bidang, termasuk pendidikan. Kegiatan belajar mengajar tatap muka langsung harus berganti kegiatan belajar di rumah sehingga guru dituntut untuk kreatif dalam mengisi kegiatan belajar. Sebagai seorang tenaga pendidik, melihat kondisi ini saya akan
- Memberikan siswa saya bahan ajar secara berkala sesuai jadwal mata pelajaran
 - Meminta siswa untuk mengerjakan dan mengisi seluruh lembar kerja siswa dan mengirimkannya secara bertahap melalui *email*
 - Melihat kegiatan belajar siswa satu per satu setiap hari dengan meminta mereka mengirimkan foto kegiatan belajar mereka
 - Mengadakan kelas tatap muka dengan menggunakan aplikasi *video meeting* supaya siswa tetap mendapatkan materi belajar yang sesuai
 - Membuat video tentang materi ajar dan mengirimkannya kepada semua siswa
105. Saya adalah petugas penyuluh pertanian dengan beberapa kelompok binaan yang tersebar di berbagai lokasi. Sebagian besar kelompok binaan terletak di lokasi yang sulit saya jangkau sehingga frekuensi untuk mengunjungi lokasi sangat kurang. Upaya yang saya gunakan untuk memaksimalkan penyuluhan di tengah kurangnya kunjungan langsung adalah
- Mengumpulkan seluruh ketua kelompok untuk pertemuan evaluasi di kantor seminggu sekali
 - Memberikan target pekerjaan saat kunjungan dan mengevaluasi hasilnya saat kunjungan berikutnya
 - Menggunakan telepon atau aplikasi pesan untuk berkomunikasi terkait info penyuluhan dan perkembangan kelompok
 - Menyuruh mereka untuk aktif menghubungi saya saat mereka membutuhkan saya
 - Menghubungi kelompok secara rutin seminggu sekali melalui telepon untuk memonitor perkembangan
106. Perkembangan dunia teknologi yang sangat pesat telah menumbuhkan era baru dengan teknologi informasi dan komunikasi memegang peranan yang sangat penting dalam setiap sendi kehidupan. Hal ini menurut saya adalah
- Hal tak terhindarkan dari adanya kemajuan zaman
 - Sebuah peluang yang bisa membawa kita kepada era yang lebih baik
 - Sebuah kondisi yang harus dimanfaatkan untuk meraih keuntungan
 - Hal yang harus disikapi dengan bijak terkait efek positif dan negatif yang ditimbulkan
 - Hal yang tidak asing karena sudah diprediksi sejak lama
107. Anda dipercaya membentuk dan memimpin sebuah tim untuk mengembangkan teknologi informasi dan komunikasi yang akan digunakan untuk meningkatkan pemasaran produk perusahaan. Pimpinan perusahaan mengharap Anda bekerja dengan cepat dan terjaga kerahasiaannya. Anda akan
- Memilih teman-teman dekat yang bisa saya percaya untuk menjaga kerahasiaannya
 - Mencari orang-orang yang tidak kenal dengan orang-orang kantor
 - Menggunakan anak buah saya saat ini yang sudah bisa saya percaya
 - Membentuk tim dengan mencari tenaga-tenaga profesional sehingga bisa memberikan hasil yang terbaik
 - Memilih beberapa karyawan terbaik kantor dan membuat kesepakatan untuk merahasiakan pekerjaan
108. Internet menjadi salah satu media yang digunakan untuk menyebarkan paham radikal. Berdasarkan data BNPT, sebanyak

9000 *website* mengandung konten radikalisme dan banyak mahasiswa atau generasi muda di Indonesia yang menjadi responden dari survei yang diselenggarakan BNPT terindikasi rentan dan tertarik pada paham radikal. Sebagai generasi muda, cara yang akan saya lakukan untuk membantu pemerintah melawan penyebaran paham radikal melalui internet adalah

- A. Melaporkan siapa saja yang menuliskan tentang paham radikal di sosial media
- B. Menuliskan narasi yang menyejukkan tentang keragaman dan perbedaan di berbagai media internet
- C. Berhenti menggunakan sosial media supaya terhindar dari pengaruh paham radikal
- D. Berhenti berhubungan dengan teman-teman dunia maya yang terindikasi terpapar paham radikal
- E. Mencoba menyadarkan teman-teman dekat saya yang terindikasi terpapar paham radikal

109. Saya adalah seorang kepala bidang di sebuah instansi pemerintahan. Suatu hari seorang anak buah memberikan laporan bahwa salah satu bawahan saya yang lain terindikasi terpapar paham radikal. Laporan tersebut disertai bukti-bukti lengkap, salah satunya adalah unggahan di media sosial yang menunjukkan sikap intoleran terhadap agama lain. Menghadapi laporan tersebut yang akan saya lakukan adalah

- A. Memanggilnya dan memberinya pembinaan terkait ideologi negara dan pentingnya bersikap toleran menghadapi perbedaan di negara ini
- B. Segera melaporkan hal tersebut kepada pimpinan instansi untuk diambil langkah tindak lanjut
- C. Berkoordinasi dengan kepala bagian kepegawaian tentang tindak lanjut yang harus saya ambil

- D. Memanggilnya dan memarahinya serta mengancam akan memecatnya jika dia masih terus melakukan unggahan semacam itu di media sosialnya
- E. Menunggu bukti lebih kuat lagi sebelum memutuskan untuk mengambil tindakan

110. Pemerintah telah resmi membubarkan HTI pada 19 Juli 2017 lalu, dengan mencabut status badan hukum organisasi kemasyarakatan tersebut. Akan tetapi, seorang tetangga saya yang merupakan simpatisan HTI sampai saat ini masih sering menuliskan di media sosialnya kebencian terhadap tindakan pemerintah yang membubarkan HTI tersebut. Melihat ini saya akan

- A. Membiarkan saja karena hal tersebut tidak berpengaruh terhadap kehidupan pribadi saya
- B. Mencoba mengingatkannya untuk tidak menuliskan hal-hal yang buruk tentang pemerintah
- C. Membalas di kolom komentarnya dengan pembelaan kepada tindakan pemerintah tersebut disertai alasan-alasan yang benar
- D. Menyampaikan hal tersebut kepada Ketua RT untuk diambil tindakan demi kebaikan bersama
- E. Berkomunikasi dengannya untuk membahas tentang masalah tersebut dan mencoba untuk memberikan pengertian tentang pentingnya tindakan tersebut bagi masa depan bangsa



Pembahasan Tryout SKD

2

Tes Wawasan Kebangsaan (TWK)

1. Menanamkan gerakan cinta produk dalam negeri merupakan sebuah langkah awal upaya bela negara dalam menghadapi serangan produk-produk asing dalam pasar bebas yang berkembang pada saat ini.
■ **Jawaban: D**
2. Meskipun UUD 1945 menjamin kebebasan berpendapat, Pancasila memberikan tuntunan bahwa di dalam menyampaikan pendapat hendaknya tetap memperhatikan hal-hal berikut :
 - Menggunakan kata-kata yang santun
 - Memiliki dasar argumen yang jelas dan kuat
 - Tidak memotong pembicaraan orang lain
 - Tidak menyerang pribadi orang lain
 - Tidak menimbulkan perpecahan■ **Jawaban: B**
3. Sikap Calista yang berusaha menyelesaikan target pekerjaan yang telah diberikan walaupun harus bekerja keras dan terkendala merupakan implementasi integritas pada nilai tanggung jawab.
■ **Jawaban: D**
4. Asas wawasan nusantara yang nampak pada kejadian soal adalah asas solidaritas yang memunculkan partisipasi warga terhadap program Pak Yanto yang bertujuan mulia untuk memberikan rumah yang layak bagiarganya.
■ **Jawaban: A**
5. Memberikan kebebasan beribadah bagi pemeluk agama lain merupakan upaya langsung yang dapat menjaga keharmonisan hidup berbangsa dan bernegara sekaligus merupakan bentuk pengamalan dari sila pertama Pancasila.
■ **Jawaban: D**
6. Paragraf eksposisi tersebut memuat ide atau gagasan yang disajikan dengan cara membandingkan olahraga sepakbola dengan olahraga golf.
■ **Jawaban: E**
7. Dalam proses perubahan atas asas pertama dari Pancasila saat perumusan dasar negara, para pendiri bangsa dapat menerima pernyataan tidak setuju dari beberapa kelompok demi mengutamakan persatuan dan kesatuan bangsa dan negara.
■ **Jawaban: C**
8. Penerapan nilai nasionalisme sebagaimana terdapat pada sila ketiga Pancasila dapat mencegah terjadinya konflik horizontal



yang diakibatkan adanya gesekan antar daerah.

■ **Jawaban: A**

9. Salah satu upaya yang dapat mengantisipasi ancaman budaya asing terhadap nilai-nilai budaya bangsa adalah dengan meningkatkan kecintaan warga negara terhadap budaya bangsa, yang pada kasus ini adalah budaya asli daerah.

■ **Jawaban: D**

10. Salah satu faktor yang berhasil memupuk dan meningkatkan rasa persatuan dan kesatuan bangsa pada masa pergerakan nasional adalah adanya kesamaan nasib penderitaan karena dijajah oleh bangsa asing.

■ **Jawaban: B**

11. Kasus pada proses rekrutmen di perusahaan yang mengutamakan saudara dekat merupakan pengingkaran nilai adil yang termasuk ke dalam bagian dari nilai integritas sikap.

■ **Jawaban: E**

12. Kemunculan gerakan separatis dan upaya untuk memisahkan diri dari negara tidak akan terjadi apabila seluruh warga negara memiliki jiwa nasionalisme yang tinggi terhadap negara.

■ **Jawaban: C**

13. Dengan membawa nilai-nilai dasar yang membentuk karakter, maka budaya nasional dapat menjadi identitas atau jati diri dari sebuah bangsa.

■ **Jawaban: A**

14. Salah satu kondisi pemberian kewarganegaraan yang menganut asas *ius soli* di Indonesia dilakukan pada anak yang lahir di wilayah negara Republik Indonesia yang pada waktu lahir tidak jelas status kewarganegaraan ayah dan ibunya.

■ **Jawaban: E**

15. Perilaku yang sesuai dengan nilai Pancasila adalah perilaku yang patuh terhadap aturan yang dikeluarkan pemerintah yang terwujud dalam bentuk dukungan dan kesiapan pedagang kaki lima untuk berjalan di lokasi yang telah disediakan oleh pemerintah.

■ **Jawaban: D**

16. Majas litotes merupakan majas yang menggunakan ungkapan penurunan kualitas untuk merendahkan diri.

■ **Jawaban: B**

17. Perilaku Clara merupakan bentuk keadilan dalam menjaga keselarasan hak dan kewajiban sehingga mendatangkan manfaat bagi orang lain. Karena Setiap warga negara berhak untuk hidup sejahtera dengan pemenuhan hak dasarnya. Hak dasar tersebut meliputi pendidikan, pelayanan kesehatan, kesempatan kerja, tempat tinggal yang layak, dan fasilitas dasar lainnya.

■ **Jawaban: A**

18. Upaya yang dilakukan oleh nelayan dalam menghalau kapal asing merupakan partisipasi aktif warga negara dalam bela negara dan merupakan ciri kerakyatan dalam *sishankamrata*, dimana orientasi pertahanan dan keamanan negara diabdikan oleh dan untuk kepentingan seluruh rakyat.

■ **Jawaban: E**

19. Kearifan lokal adalah pandangan hidup serta berbagai strategi kehidupan berupa aktivitas yang dilakukan masyarakat lokal dalam menjawab berbagai masalah dalam pemenuhan kebutuhan mereka. Upaya-upaya orang Baduy untuk menjaga lingkungan tempat tinggalnya dengan menghargai alam sepenuh hati supaya tidak sampai rusak merupakan salah satu contoh dari kearifan lokal.

■ **Jawaban: C**



20. Salah satu tantangan yang dapat menghambat penerapan Pancasila dalam kehidupan global adalah masuknya budaya asing sebagai dampak dari globalisasi yang dapat mempengaruhi kecintaan dan kebanggaan generasi muda pada budaya sendiri.
 ■ **Jawaban: B**
21. Pernyataan yang sesuai untuk menyikapi generasi muda yang tidak bisa menggunakan bahasa daerah adalah dengan mengajarkan bahasa daerah di lingkungan keluarga kepada generasi penerus.
 ■ **Jawaban: E**
22. Berdasarkan amanat UUD 1945 Pasal 24C ayat (1) Mahkamah Konstitusi memiliki wewenang mengadili pada tingkat pertama dan terakhir yang putusannya bersifat final untuk, salah satunya, memutus perselisihan tentang hasil pemilihan umum.
 ■ **Jawaban: A**
23. Langkah awal yang dapat dilakukan untuk menjaga rasa persatuan dan kesatuan di tengah keberagaman adalah dengan menghormati perbedaan yang ada dan meningkatkan rasa toleransi dalam kehidupan bermasyarakat.
 ■ **Jawaban: C**
24. Rasa gelisah, tertekan, dan tidak tenang yang muncul dari rasa bersalah dan penyesalan merupakan sanksi yang dirasakan oleh orang yang telah melanggar norma kesusilaan. Meski terlihat tidak tegas, sanksi ini dapat memengaruhi mental dari pelaku pelanggaran norma.
 ■ **Jawaban: D**
25. Nilai yang dapat kita ambil dari peristiwa dua sidang BPUPKI adalah adanya dedikasi yang tinggi untuk meraih kemerdekaan bangsa Indonesia dengan mempersiapkan segala sesuatu yang berkaitan dengan kemerdekaan bangsa Indonesia.
 ■ **Jawaban: B**
26. Paragraf pada soal memiliki tokoh, latar tempat, waktu, dan suasana, serta memiliki alur cerita. Sehingga dapat dikategorikan sebagai paragraf narasi.
 ■ **Jawaban: E**
27. Pasal-pasal dalam UUD Tahun 1945 yang mengatur tentang hak dan kewajiban merupakan pengejawantahan Pancasila sila Kemanusiaan Yang Adil dan Beradab.
 ■ **Jawaban: B**
28. Nilai objektif Pancasila memiliki makna bahwa nilai-nilai yang terkandung di dalam Pancasila juga diakui kebenarannya oleh bangsa lain. Salah satu penjabaran nilai objektif Pancasila adalah bahwa nilai-nilai Pancasila terkait dengan kehidupan manusia secara utuh, baik terkait hubungan manusia dengan Tuhan, manusia lain, ataupun lingkungannya.
 ■ **Jawaban: C**
29. Nilai integritas inti meliputi perilaku jujur, bertanggung jawab, dan disiplin. Perilaku yang merupakan implementasi dari nilai inti integritas terlihat pada pilihan A yang menunjukkan perilaku jujur.
 ■ **Jawaban: A**
30. Kedaulatan hukum dalam NKRI ditegaskan melalui :
 • UUD 1945 Pasal 1 Ayat 3 yang menyatakan "Negara Indonesia adalah negara hukum
 • UUD 1945 Pasal 27 Ayat 1 yang menyatakan "Segala warga negara bersamaan kedudukannya di dalam hukum dan pemerintahan dan wajib menjunjung hukum dan pemerintahan itu dengan tidak ada kecualinya"
 ■ **Jawaban: D**



Tes Inteligensi Umum (TIU)

31. GUNDU sama dengan KELERENG. ITERASI sama dengan ULANGAN.

■ **Jawaban: A**

32. Kiasan MATA RANTAI artinya sebuah HUBUNGAN. MAIN MATA berarti MELIRIK.

■ **Jawaban: D**

33. ROMANTIKA adalah LIKA-LIKU. MELIK berarti INGIN MEMILIKI.

■ **Jawaban: B**

34. Dalam masakan RAWON, bahan yang menjadi ciri khas dan harus ada adalah KELUAK. Dalam masakan BALADO, bahan yang menjadi ciri khas dan harus ada adalah CABE.

■ **Jawaban: B**

35. 1. Jika hari panas maka Ani memakai topi.
2. Ani tidak memakai topi atau ia memakai payung ekuivalen dengan Jika Ani tidak memakai topi maka ia memakai payung.

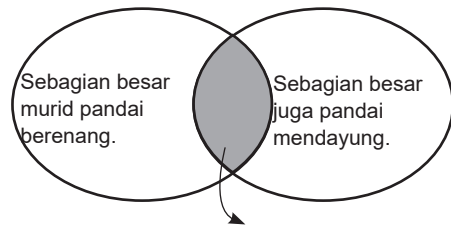
• **Menggunakan silogisme** pada pernyataan 1 dan 2, diperoleh:
Jika hari panas maka ia memakai payung.
Ani tidak memakai payung.

• **Menggunakan modus tollens** maka:
Hari tidak panas.

■ **Jawaban: B.**

36. Dalam sebuah kelas, sebagian besar murid pandai berenang. Sebagian besar juga pandai mendayung. **Sebagian besar, berarti lebih dari 50%. Oleh karenanya, pasti ada yang berurusan di antara yang pandai berenang dan yang pandai mendayung.**

Diagram:



Yang diarsir: Sebagian tertentu dari murid-murid itu pandai berenang dan pandai mendayung.

Jadi, kesimpulan:

Sebagian tertentu dari murid-murid itu pandai berenang dan pandai mendayung.

■ **Jawaban: C**

37. ~~Semua penonton konser~~ memakai pita kertas.

~~Ani adalah penonton konser.~~

Kesimpulan: Ani memakai pita kertas.

■ **Jawaban: A**

38. Bila **melewati** pasar atau **lorong**, harus berselimut atau **berjaket**.

Anis melewati lorong.

- Yang melewati pasar berselimut atau berjaket, tetapi tidak dua-duanya.
- Yang melewati lorong berselimut atau berjaket, tetapi tidak dua-duanya.

Berdasarkan pilihan, Anis memakai jaket.

■ **Jawaban: A**

39. Yang meneliti di bidang bahasa adalah Betaria dan Putera.

A. Betaria, Mega, Putera, Arjuna, Kevin, Efendi

Salah, karena hanya diselengi satu presentasi IPA (Mega).

B. Efendi, Putera, Mega, Arjuna, Betaria, Kevin

Salah, karena diselengi satu presentasi IPA (Mega) dan satu presentasi IPS (Arjuna).

C. Kevin, Mega, Betaria, Arjuna, Efendi, Putera

Salah, karena diselengi dua presentasi IPS (Arjuna dan Efendi).

D. Mega, Kevin, Betaria, Arjuna, Putera, Efendi

Benar, karena diselengi satu presentasi IPS (Arjuna)



- E. Mega, Betaria, Efendi, Kevin, Putera, Arjuna
Salah, karena diselingi satu presentasi IPA (Kevin) dan satu presentasi IPS (Efendi).

■ **Jawaban: D**

40. Perhatikan pernyataan berikut.

Aria = Coki

Dani >> Coki, Eki

Aria < Eki \Rightarrow Eki > Aria

Anto >> Eki, Dani

Jadi, Anto > Dani > Eki > Coki = Aria

■ **Jawaban: E**

41. Karena mahasiswa tersebut melamar di perusahaan telekomunikasi, ia **tidak boleh melamar di perusahaan perminyakan** (pernyataan 4), tapi ia boleh melamar di perusahaan penerbangan. (Jawaban B dan C salah). Dari pernyataan 3, jika melamar di Bank juga harus melamar ke Agen Travel. Jadi, ia boleh melamar di perusahaan telekomunikasi, bank, penerbangan, agen travel.

■ **Jawaban: D**

42. Lebih tahan menggunakan simbol > dan lebih irit menggunakan simbol >>.

1. Pernyataan 1

H > N

H >> N

2. Pernyataan 2

N > S

N >> S

3. Pernyataan 3

S > T

S >> J

4. Pernyataan 4

T > J

J >> T

Jadi diperoleh:

- Tingkat ketahanan: H > N > S > T > J
- Tingkat keiritan: H >> N >> S >> J >> T

Jadi, tentang motor J adalah **Paling tidak tahan dan kedua paling tidak irit.**

■ **Jawaban: A**

43. **INGAT! Lakukan operasi perkalian dan pembagian dahulu.**

$$\begin{aligned} 634 + 8 \times 125 - 2.048 : 64 \\ &= 634 + (8 \times 125) - (2.048 : 64) \\ &= 634 + 1.000 - 32 \\ &= 634 - 32 + 1.000 \\ &= 602 + 1.000 \\ &= 1.602 \end{aligned}$$

■ **Jawaban: B**

44. **Ingat:** $(a^2 - b^2) = (a + b)(a - b)$

$$\begin{aligned} (180 : 9)^2 - (120 - 101)^2 \\ &= 20^2 - 19^2 \\ &= (20 - 19)(20 + 19) \\ &= 1 \times 39 \\ &= 39 \end{aligned}$$

■ **Jawaban: E**

45. Diubah ke bentuk desimal:

- $\frac{1}{2} = 0,5$
- 0,65
- $1\frac{1}{7} = 1,14$
- $\frac{1}{8} = 0,125$
- 37,5% = 0,375

Diperoleh $0,125 < 0,375 < 0,5 < 0,65 < 1,14$

Jadi, urutan dari yang terkecil:

$$\frac{1}{8}; 37,5\%; \frac{1}{2}; 0,65; 1\frac{1}{7}$$

■ **Jawaban: A**

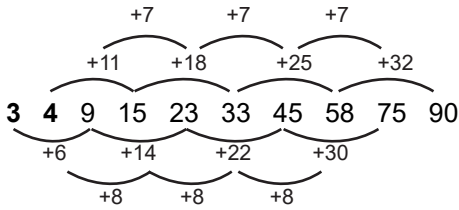
46. 65% dari $\frac{1}{13}$ adalah:

$$\begin{aligned} 65\% \times \frac{1}{13} &= \frac{65}{100} \times \frac{1}{13} \\ &= \frac{5}{100} \\ &= 0,05 \end{aligned}$$

■ **Jawaban: B**

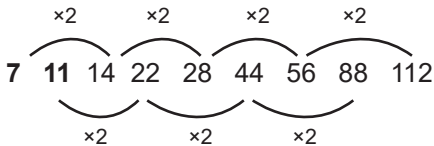


47. Pola deret:



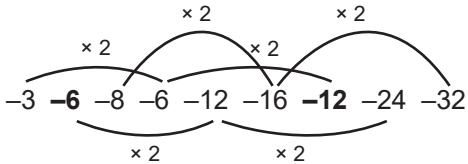
■ Jawaban: A

48. Pola deret:



■ Jawaban: B

49. Pola deret:



■ Jawaban: C

50. $x = 55,4\%$ dari $0,99$

$$\begin{aligned} &= \frac{55,4}{100} \times \frac{99}{100} \\ &= \frac{55,4 \times 99}{10.000} \\ &= \frac{554 \times 99}{100.000} \end{aligned}$$

$y = 9,9\%$ dari $5,54$

$$\begin{aligned} &= \frac{9,9}{100} \times \frac{554}{100} \\ &= \frac{9,9 \times 554}{10.000} \\ &= \frac{99 \times 554}{100.000} \end{aligned}$$

Jadi, $x = y$

■ Jawaban: C

51. **INGAT:** Untuk pembilang yang sama, semakin besar penyebut maka nilai pecahan semakin kecil.

Diketahui:

$$x = \frac{1}{13} + \frac{1}{14} \text{ dan } y = \frac{1}{15} + \frac{1}{16}$$

$$\frac{1}{13} > \frac{1}{15}$$

$$\frac{1}{14} > \frac{1}{16}$$

Maka :

$$\frac{1}{13} + \frac{1}{14} > \frac{1}{15} + \frac{1}{16}$$

Jadi, $x > y$.

■ Jawaban: A

52. Menggunakan aturan perkalian:

$$\begin{aligned} &= \text{Jakarta-Semarang} \times \text{Semarang-Madiun} \\ &= 4 \times 3 \\ &= 12 \end{aligned}$$

■ Jawaban: D

53. Pergi:

Cilacap-Jakarta = 6 cara
Jakarta-Makassar = 4 cara

Pulang:

Makassar-Jakarta = $4 - 1 = 3$ cara
Jakarta-Cilacap = $6 - 1 = 5$ cara

Banyak cara perjalanan Cilacap-Makassar pergi pulang dan tidak boleh menggunakan kendaraan yang sama:

$$\begin{aligned} &= \text{pergi} \times \text{pulang} \\ &= 6 \times 4 \times 3 \times 5 = 360 \text{ cara} \end{aligned}$$

■ Jawaban: D

54. Menggunakan perbandingan maka banyak siswa dalam kelas tersebut adalah:

$$= \frac{\text{jml perbandingan}}{\text{sel perbandingan}} \times \text{selisih siswa}$$

$$= \frac{4 + 3}{4 - 3} \times 6$$

$$= \frac{7}{1} \times 6$$

$$= 42 \text{ siswa}$$

■ Jawaban: C

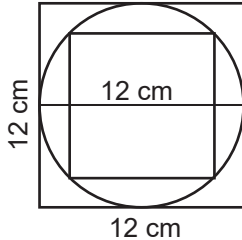


55. $2.125 + 2.135 + 2.145 + 2.155 + 2.165 + 2.175 + 2.185 + 2.195 = 17.280$

Rata-rata = $\frac{17.280}{8} = 2.160$

■ **Jawaban: C**

56. Perhatikan gambar berikut.



Luas persegi besar = 144 cm^2

Sisi persegi besar = 12 cm

Diameter lingkaran = sisi persegi besar = 12 cm

Jadi, keliling lingkaran = $\pi d = 12\pi$

■ **Jawaban: D**

57. Promosi berhasil meningkatkan omzet penjualan dua kali lipat untuk handuk dan jaket. Tabel setelah adanya promosi:

Jenis Barang	Omzet (juta)	Keuntungan (%)	Untung (juta)
Handuk	80	25%	20
Buah	50	40%	20
Biscuit	40	50%	20
Jaket	50	10%	5
Alat tulis	50	20%	10
Total keuntungan			75

■ **Jawaban: E**

58. Misalkan, bilangan yang dimaksud adalah abcd.

(i) Jumlah keempat angka adalah 12.

$$a + b + c + d = 12$$

(ii) Angka pertama ditambah angka ketiga sama dengan angka keempat dikurangi angka kedua.

$$a + c = d - b$$

(iii) Angka ketiga sama dengan selisih angka pertama dan kedua.

$$c = a - b \text{ atau } c = b - a$$

(iv) Angka keempat dibagi angka kedua sama dengan angka pertama dibagi angka ketiga.

Paling mudah adalah dengan mengecek satu persatu.

A. 1236

(i) $1 + 2 + 3 + 6 = 12$ (benar)

(ii) $1 + 3 = 6 - 2$ (benar)

(iii) $3 = 2 - 1$ (salah)

B. 1326

(i) $1 + 3 + 2 + 6 = 12$ (benar)

(ii) $1 + 2 = 6 - 3$ (benar)

(iii) $2 = 3 - 1$ (benar)

(iv) $6 : 3 = 1 : 2$ (salah)

C. 1632

(i) $1 + 6 + 3 + 2 = 12$ (benar)

(ii) $1 + 3 = 2 - 3$ (salah)

D. 2136

(i) $2 + 1 + 3 + 6 = 12$ (benar)

(ii) $2 + 3 = 6 - 1$ (benar)

(iii) $3 = 2 - 1$ (salah)

E. 2316

(i) $2 + 3 + 1 + 6 = 12$ (benar)

(ii) $2 + 1 = 6 - 3$ (benar)

(iii) $1 = 3 - 2$ (benar)

(iv) $6 : 3 = 2 : 1$ (benar)

■ **Jawaban: E**

59. Perbedaan utama gambar tersebut adalah pada komposisi warna hitam putih lingkaran. Semua gambar memiliki 6 lingkaran hitam dan 4 lingkaran putih, kecuali gambar A memiliki 5 lingkaran hitam dan 5 lingkaran putih.

■ **Jawaban: A**

60. Perbedaan utama gambar tersebut adalah pada komposisi warna hitam putih bangun lingkaran dan persegi.

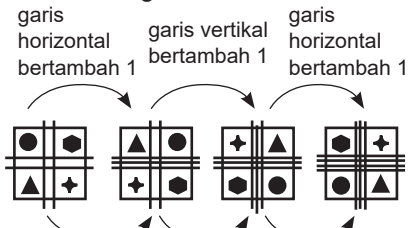
■ **Jawaban: E**

61. Gambar berotasi 90° berlawanan arah jarum jam. Perhatikan juga posisi lingkaran.

■ **Jawaban: D**



62. Perhatikan gambar berikut.



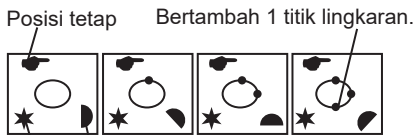
Bangun lingkaran, segienam, bintang, dan segitiga bergeser 1 langkah searah jarum jam.

■ **Jawaban: D**

63. Gambar berotasi 90° searah jarum jam. Perhatikan juga keempat arah panah.

■ **Jawaban: C**

64. Perhatikan pembahasan berikut.



Berotasi 45° berlawanan arah jarum jam.

■ **Jawaban: A**

65. Perhatikan pembahasan berikut.

Berotasi 45° searah jarum jam.



Berotasi 45° berlawanan arah jarum jam.

■ **Jawaban: B**

Tes Karakteristik Pribadi (TKP)

Skor	5	4	3	2	1
66.	B	A	C	E	D
67.	D	E	A	B	C
68.	D	B	E	C	A
69.	D	C	E	B	A
70.	A	C	E	B	D
71.	C	E	B	D	A
72.	A	D	B	E	C

73.	C	E	D	A	B
74.	B	A	E	D	C
75.	B	D	E	A	C
76.	B	D	E	A	C
77.	C	E	D	A	B
78.	D	C	A	E	B
79.	A	D	B	C	E
80.	D	C	B	A	E
81.	A	C	E	D	B
82.	A	B	E	C	D
83.	E	B	A	C	D
84.	A	E	D	B	C
85.	E	D	C	B	A
86.	A	C	B	D	E
87.	A	D	B	C	E
88.	C	B	E	D	A
89.	A	D	C	B	E
90.	D	C	E	B	A
91.	C	A	E	C	B
92.	B	E	A	C	D
93.	B	D	A	E	C
94.	D	E	B	A	C
95.	A	B	D	C	E
96.	C	E	A	D	B
97.	B	E	A	D	C
98.	B	E	A	D	C
99.	D	B	A	E	C
100.	B	E	A	C	D
101.	C	D	B	A	E
102.	E	C	B	A	D
103.	C	D	B	A	E
104.	D	E	B	A	C
105.	C	E	D	A	B
106.	B	D	C	E	A
107.	D	E	A	C	B
108.	B	A	D	E	C
109.	A	D	C	B	E
110.	E	D	B	C	A



Paket Soal Tryout SKD

3

Jumlah soal = 110
Waktu = 100 menit

Tes Wawasan Kebangsaan (TWK)

- Berdasarkan teori kausalitas, diketahui bahwa sumber formal dari Pancasila adalah
 - Kitab Kertanegara
 - Piagam Jakarta
 - Alinea IV Pembukaan UUD 1945
 - Tata kehidupan bangsa Indonesia
 - Hasil sidang BPUPKI I
- Sebagai sebuah ideologi, Pancasila mengandung unsur tujuan hidup yang dijabarkan melalui sila yang
 - Pertama
 - Kedua
 - Ketiga
 - Keempat
 - Kelima
- Nilai-nilai dalam Pancasila akan tetap ada sepanjang masa dalam kehidupan bangsa Indonesia, baik dalam adat istiadat, kebudayaan, kegiatan kenegaraan, maupun dalam keagamaan. Hal tersebut merupakan salah satu tanda bahwa nilai Pancasila bersifat
 - Majemuk
 - Tunggal
 - Objektif
 - Subjektif
 - Kausatif
- Sebagai paradigma pembangunan nasional, Pancasila menjadi dasar bagi segala aspek pembangunan serta meliputi asas-asas pembangunan nasional berikut, *kecuali*
 - Demokrasi
 - Manfaat
 - Adil dan merata
 - Persatuan pembangunan
 - Kesadaran hukum
- Sebagai sebuah ideologi terbuka, Pancasila memiliki nilai-nilai yang dapat berubah dan dinamis sesuai dengan keadaan dan perkembangan zaman. Nilai ini disebut dengan
 - Nilai dasar
 - Nilai proletar
 - Nilai instrumental
 - Nilai dinamika
 - Nilai inovasi
- Inti nilai-nilai Pancasila bersifat universal. Ini berarti
 - Nilai-nilai Pancasila dibuat berdasarkan ideologi dari seluruh dunia
 - Nilai-nilai Pancasila dapat diterapkan dan digunakan juga oleh negara lain



- C. Nilai-nilai Pancasila dibuat melampaui zamannya
- D. Nilai-nilai Pancasila dibuat dengan mempertimbangkan kondisi dunia
- E. Nilai-nilai Pancasila menjadi lambang perdamaian dunia
7. Dasar negara Pancasila merupakan hasil dari sidang BPUPKI. BPUPKI sendiri kemudian dibubarkan pada
- A. 11 Juli 1945
- B. 16 Juli 1945
- C. 27 Juli 1945
- D. 7 Agustus 1945
- E. 9 Agustus 1945
8. Persatuan, kekeluargaan, keseimbangan lahir batin, musyawarah, dan keadilan rakyat adalah dasar negara yang disampaikan oleh
- A. Supomo
- B. Ir. Soekarno
- C. M Yamin
- D. Radjiman Wediodiningrat
- E. Ahmad Subardjo
9. Sila dalam Pancasila yang tidak mendasari, meliputi, dan menjiwai sila lainnya adalah sila
- A. Pertama
- B. Kedua
- C. Ketiga
- D. Keempat
- E. Kelima
10. Penghayatan dan pengamalan akan Bhinneka Tunggal Ika secara sungguh-sungguh merupakan nilai dari sila
- A. Pertama
- B. Kedua
- C. Ketiga
- D. Keempat
- E. Kelima
11. Dalam sejarah pemberlakuan konstitusi di Indonesia, terjadi beberapa kali periode pemberlakuan konstitusi, dengan periode terpendek adalah
- A. UUD 1945
- B. Konstitusi RIS
- C. UUDS 1950
- D. Dekret Presiden 1959
- E. UUD 1945 Hasil Amandemen
12. Pemberian grasi, amnesti, abolisi, dan rehabilitasi oleh Presiden diatur secara lengkap dalam Undang-Undang Dasar 1945 Pasal
- A. 11
- B. 12
- C. 13
- D. 14
- E. 16
13. Pasal 23 Undang-Undang Dasar 1945 secara khusus mengatur tentang segala macam hal yang berkaitan dengan
- A. Keuangan
- B. Dewan Perwakilan Rakyat
- C. Kekuasaan Kehakiman
- D. Wilayah Negara
- E. Warga Negara dan Penduduk
14. Perubahan Undang-Undang Dasar Negara Republik Indonesia Tahun 1945 pertama kali dilakukan pada sidang umum MPR pada tahun
- A. 1998
- B. 1999
- C. 2000
- D. 2001
- E. 2002
15. Ditinjau dari segi sistematika, Undang-Undang Dasar 1945 setelah amandemen terdiri atas bagian.
- A. Satu
- B. Dua
- C. Tiga
- D. Lima
- E. Tujuh
16. Jumlah bab dalam Undang-Undang Dasar Negara Republik Indonesia Tahun 1945 yang mengalami amandemen sebanyak
- A. 17 bab
- B. 19 bab
- C. 20 bab
- D. 21 bab
- E. 25 bab



17. Pemilihan Umum Republik Indonesia pertama kali diselenggarakan pada masa periode konstitusi
- UUD 1945
 - Konstitusi RIS
 - UUDS 1950
 - Dekrit Presiden 1959
 - UUD 1945 Hasil Amandemen
18. Presiden tidak dapat membekukan dan/ atau membubarkan Dewan Perwakilan Rakyat. Hal tersebut merupakan isi pasal UUD 1945 yang mengalami perubahan dalam amendemen UUD 1945 yang
- Pertama dan kedua
 - Pertama
 - Kedua
 - Ketiga
 - Keempat
19. Salah satu bab yang dihapus dalam Undang-Undang Dasar 1945 hasil amendemen adalah bab tentang
- Dewan Pertimbangan Agung
 - Badan Pemeriksaan Keuangan
 - Kementerian Negara
 - Kekuasaan Kehakiman
 - Hak Asasi Manusia
20. Undang-Undang Dasar 1945 atau Konstitusi Negara Republik Indonesia untuk pertama kalinya disahkan dan ditetapkan oleh
- BPUPKI
 - Panitia Sembilan
 - PPKI
 - KNPI
 - DPR
21. Bhinneka Tunggal Ika seharusnya bersifat inklusif maksudnya ...
- Mengembangkan konsep baru dari unsur asli dengan unsur yang datang dari luar
 - Mayoritas tidak memaksakan kehendaknya pada minoritas
 - Adanya kebebasan beragama sesuai yang diyakininya
 - Persatuan adalah hal mutlak di tengah perbedaan
 - Perbedaan adalah hal mutlak di tengah persatuan
22. Bhinneka Tunggal Ika dilandasi oleh sifat-sifat di bawah ini, *kecuali* ...
- Saling percaya
 - Saling hormat
 - Saling cinta
 - Rukun
 - Eksklusif
23. Indonesia terdiri atas *Zelfbesturende landschappen* berarti ...
- Daerah-daerah swapraja
 - Kota dan setingkatnya
 - Desa dan setingkatnya
 - Daerah persemakmuran
 - Daerah bekas jajahan
24. Berikut ini yang *bukan* termasuk ancaman militer adalah
- Spionase
 - Agresi
 - Invasi
 - Sabotase
 - Globalisasi
25. Dalam negara persatuan, bagaimana letak kepentingan individu?
- Kepentingan individu seimbang dengan kepentingan kolektif
 - Kepentingan individu diakomodasi secara aktif
 - Kepentingan kelompok bersifat mutlak diakomodasi
 - Kepentingan individu dan kelompok di bawah kepentingan negara
 - Kepentingan individu tidak bisa diakomodasi karena kepentingan kelompok lebih penting
26. Tentara Keamanan Rakyat merupakan cikal bakal dari TNI. Tokoh yang menjabat sebagai Kepala Staf Tentara Keamanan Rakyat pertama kali adalah
- Urip Sumohardjo
 - Jenderal Soedirman
 - T.B. Simatupang
 - A. H. Nasution
 - Supriyadi



Tes Inteligensi Umum (TIU)

27. Provinsi-provinsi di bawah ini merupakan provinsi yang terbentuk pada masa awal kemerdekaan Republik Indonesia, *kecuali*
- Sumatra
 - DKI Jakarta
 - Jawa Tengah
 - Maluku
 - Sunda Kecil
28. KPK sebagai lembaga khusus tindak pidana korupsi memiliki andil dalam perkara korupsi terutama dalam bidang
- Penuntutan
 - Penyidikan
 - Penuntutan sekaligus penyidikan
 - Pemutusan perkara
 - Penyidikan sekaligus pemutusan perkara
29. Penegakan hukum khusus tindakan korupsi menganut asas
- Lex specialis derogat legi generali*
 - Lex superior derogat legi imperor*
 - Equity before the law*
 - Lex posterior derogat legi priori*
 - Lex imperfecta*
30. Sumpah setia terhadap NKRI dan Pancasila merupakan kewajiban yang harus dilakukan oleh pejabat negara. Dasar sumpah tersebut bagi seorang ASN adalah
- Pancasila sebagai wawasan hidup bangsa
 - Pejabat negara harus setia terhadap NKRI
 - Pancasila merupakan landasan hukum bangsa
 - NKRI dan Pancasila adalah warisan budaya bangsa
 - Pancasila penting dalam membentuk perilaku ASN
31. FLUTE : TIUP = ... : ...
- Dengar : Musik
 - Harpa : Petik
 - Senar : Gitar
 - Betot : Bass
 - Perkusi : Konga
32. PADI : SEBULIR = ... : ...
- Pasir : Sebutir
 - Kayu : Segenggam
 - Darah : Segumpal
 - Segenggam : Beras
 - Selembat : Daun
33. PENSIL : TULIS = ... : ...
- Potong : Gunting
 - Lukis : Kanvas
 - Buku : Abjad
 - Pisau : Iris
 - Gambar : Warna
34. AKAR : TUMBUHAN = ... : ...
- Vena : Sirkulasi
 - Sirkuit : Balap
 - Lebah : Sengat
 - Jantung : Darah
 - Api : Panas
35. Semua pegawai mendapat gaji pokok. Sebagian pegawai mendapat bonus penghasilan. Kesimpulannya
- Semua pegawai tidak mendapat gaji pokok dan bonus penghasilan
 - Semua pegawai mendapat gaji pokok dan bonus penghasilan
 - Sebagian pegawai mendapat gaji pokok dan bonus penghasilan
 - Pegawai yang diberi gaji pokok pasti mendapat bonus penghasilan
 - Sebagian pegawai mendapat bonus penghasilan saja



36. Semua pasangan yang menikah di KUA adalah pasangan sah. Pasangan yang sah pasti memiliki buku nikah. Rina dan Budi mempunyai buku nikah. Kesimpulannya
- Rina dan Budi tidak menikah
 - Buku nikah Rina dan Budi palsu
 - Rina dan Budi menikah di KUA
 - Rina dan Budi pasangan yang tidak sah
 - Budi dan Rina belum tentu sah
37. Semua pemilik mobil harus mempunyai surat izin mengemudi. Lantip memiliki 2 mobil mewah. Kesimpulannya
- Lantip tidak membutuhkan surat izin mengemudi
 - Lantip wajib memiliki surat izin mengemudi
 - Lantip boleh memiliki surat mengemudi
 - Tidak dapat ditarik kesimpulan
 - Semua salah
38. Kendaraan roda dua dan bermesin boleh memasuki tol. Sementara kereta kuda beroda dua. Kesimpulannya
- Tidak ada kesimpulan
 - Kereta kuda harus masuk jalan tol
 - Kereta kuda boleh masuk jalan tol
 - Kereta kuda dilarang masuk jalan tol
 - Semua salah
39. Semua balita mendapat imunisasi. Beberapa balita mendapat vitamin. Kesimpulannya
- Semua balita mendapat imunisasi dan vitamin
 - Balita yang telah imunisasi biasanya mendapat vitamin
 - Sebagian balita mendapat vitamin saja
 - Sebagian balita mendapat vitamin dan imunisasi
 - Semua salah

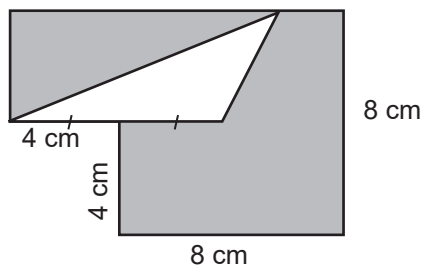
Soal 40– 42 berdasarkan informasi berikut ini.

Pamanku memiliki beberapa anak, di antaranya adalah Anton, Bowo, Cika, dan Desti. Anton lebih tua daripada Cika dan Bowo lebih muda daripada Desti.

40. Jika Endang lebih tua dari Desti, manakah pernyataan berikut yang benar?
- Cika lebih tua dari Endang
 - Anton lebih tua dari Endang
 - Endang lebih tua dari Anton
 - Endang lebih tua dari Bowo
 - Cika sama dengan Endang
41. Jika Bowo lebih muda daripada Cika, manakah pernyataan yang benar?
- Cika lebih muda daripada Desti
 - Desti lebih muda daripada Cika
 - Anton usianya sama dengan Desti
 - Desti lebih tua daripada Anton
 - Anton lebih tua daripada Bowo
42. Jika Anji lebih tua daripada Meli, Dinar, dan Desti, manakah pernyataan berikut yang benar?
- Anton lebih tua dari Anji
 - Anji lebih tua dari Bowo
 - Anji sama dengan Bowo
 - Desti lebih tua dari Anji
 - Anji lebih tua dari Anton
43. Nur mempunyai 3 buah mobil. Harga mobil 1 lebih mahal dibandingkan harga mobil 2. Harga mobil 3 lebih mahal dari harga mobil 2. Manakah pernyataan berikut yang benar?
- Harga mobil 2 lebih kecil dari rata-rata harga mobil 1 dan 3
 - Harga mobil 3 lebih mahal daripada harga mobil 1
 - Harga mobil 1 lebih mahal daripada harga mobil 3 .
 - Harga mobil 1 ditambah harga mobil 2 lebih besar daripada harga mobil 1 ditambah harga mobil 3
 - Tidak ada jawaban yang benar



44. Gaji Pak Maryadi adalah Rp300.000,00 lebih banyak daripada gaji Pak Gito, sedangkan gaji Pak Agus adalah sepertiga gaji dari Pak Gito. Jadi....
- Tidak diketahui apakah gaji Pak Maryadi lebih banyak atau lebih sedikit dari gaji Pak Agus
 - Gaji Pak Maryadi lebih sedikit dari gaji Pak Agus
 - Gaji Pak Maryadi sama banyaknya dengan gaji Pak Agus
 - Gaji Pak Maryadi sama banyaknya dengan gaji Pak Gito
 - Gaji Pak Maryadi lebih banyak dari gaji Pak Agus
45. 30, 31, ..., ..., 40, 45
- 33, 37
 - 32, 34
 - 31, 34
 - 33, 36
 - 31, 33
46. 6, ..., 29, 174, ..., 1002, 995
- 34, 51
 - 35, 51
 - 35, 162
 - 36, 167
 - 36, 154
47. 29, 66, 127, 218, ...
- 343
 - 244
 - 246
 - 341
 - 345
48. $(1,69 : 13) \times 1,3 = \dots$
- 1,69
 - 0,169
 - 16,9
 - 169
 - 1.690
49. $-34 \times (-22) - (-2.020) = \dots$
- 2.768
 - 2.668
 - 2.568
 - 2.478
 - 2.786
50. Jika rata-rata dari 2, 3, x, dan y adalah 5 maka rata-rata dari 4, 5, 6, x, dan y adalah
- 4,6
 - 5,0
 - 5,6
 - 6,0
 - 6,4
51. Suatu persegi panjang mempunyai luas 120 cm^2 . Jika panjangnya bertambah 25% dan lebarnya berkurang 20% maka luasnya menjadi
- 100 cm^2
 - 110 cm^2
 - 120 cm^2
 - 130 cm^2
 - 140 cm^2
52. Sebuah kantor memiliki 8 bagian, masing-masing dengan 10 – 16 seksi. Setiap seksi sedikitnya ada 40 pegawai tetapi tidak lebih dari 60 pegawai. Jika 10 % pegawai pada setiap seksi adalah juru tulis, berapakah minimum jumlah juru tulis di satu bagian?
- 40
 - 60
 - 65
 - 96
 - 100
53. Sepuluh tahun yang lalu, Rudi adalah sepertiga dari usianya sekarang. Lima belas tahun yang akan datang perbandingan antara usia Marlina dan usia Rudi adalah 3 : 5. Berapa tahun usia Marlina 5 tahun yang akan datang?
- 30
 - 20
 - 15
 - 12
 - 8
54. Luas daerah yang berwarna gelap pada gambar di bawah ini adalah



- A. 66 cm²
- B. 64 cm²
- C. 62 cm²
- D. 60 cm²
- E. 58 cm²

55. Jumlah dua bilangan adalah 67 dan selisihnya 13. Jika dua bilangan tersebut dibuat suatu pecahan dengan pembilangnya bilangan yang kecil, penyebut pecahan tersebut adalah ...

- A. 67
- B. 54
- C. 40
- D. 35
- E. 27

56. Diketahui penambahan kasus Covid-19 harian dari tanggal 19 November s.d. 25 November 2020 adalah sebagai berikut. 4.798, 4.792, 4.998, 4.360, 4.442, 4.192, 5.534

Maka pernyataan yang memenuhi adalah

- A. Rata-rata = median
- B. Rata-rata < median
- C. Rata-rata > median
- D. Median = modus
- E. Median > modus

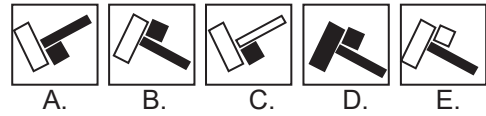
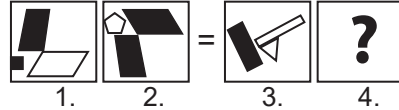
57. Sisa dari 3¹⁰⁰ dibagi 5 adalah ...

- A. 0
- B. 1
- C. 2
- D. 3
- E. 4

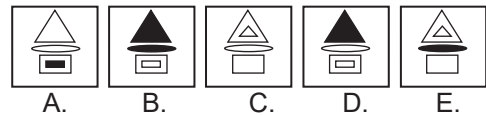
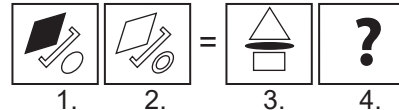
58. Di sebuah perusahaan konveksi ada pesanan membuat 12 lusin jaket. Jika Ade bekerja sendiri, dia dapat menyelesaikannya dalam 18 hari, sedangkan Tenti dalam 24 hari. Setelah mereka berdua mengerjakan pesanan tersebut selama 6 hari, maka banyak pesanan jaket yang belum diselesaikan adalah ... potong.

- A. 36
- B. 48
- C. 60
- D. 72
- E. 84

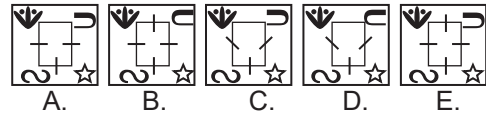
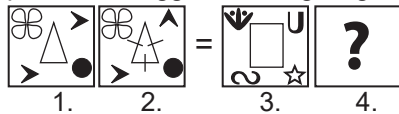
59. Carilah gambar yang tepat untuk mengisi posisi 4 menggunakan logika gambar 1-2.



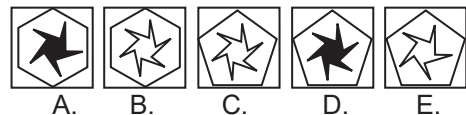
60. Carilah gambar yang tepat untuk mengisi posisi 4 menggunakan logika gambar 1-2.



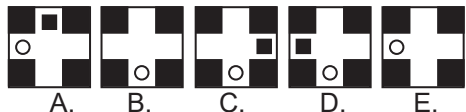
61. Carilah gambar yang tepat untuk mengisi posisi 4 menggunakan logika gambar 1-2.



62. Carilah gambar selanjutnya pada seri gambar berikut ini.

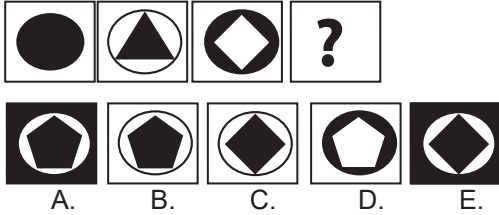


63. Carilah gambar selanjutnya pada seri gambar berikut ini.

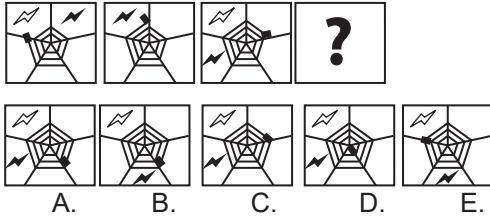


Tes Karakteristik Pribadi (TKP)

64. Carilah gambar selanjutnya pada seri gambar berikut ini.



65. Carilah gambar selanjutnya pada seri gambar berikut ini.



66. Sebagai seorang dokter, saya membuka praktik mandiri setiap sore hari. Hari ini saya dan suami akan merayakan hari pernikahan kami dengan mengundang teman-teman dekat sehingga saya berencana untuk menutup praktik lebih awal. Saat saya sedang bersiap untuk pergi, datang seorang pasien yang datang berobat padahal suami sudah datang menjemput. Saya akan
- Menanganinya terlebih dahulu sambil berharap semoga tidak ada pasien lagi yang datang
 - Merekomendasikannya untuk pergi ke rekan sejawat yang masih praktik pada malam hari
 - Memeriksa dengan cepat dan memberinya resep untuk ditebus di apotek
 - Memintanya untuk datang lagi keesokan harinya karena saya sudah ditunggu oleh tamu undangan
 - Meminta asisten untuk memeriksa dan menyampaikan hasil pemeriksaan kepada saya
67. Karena kelangkaan barang di pasaran, gula pasir yang saya jual menjadi rebutan oleh banyak orang pagi ini. Saat saya sedang melayani antrian pembeli, datang pembeli baru yang bersedia membeli seluruh stok gula pasir yang saya miliki dengan harga di atas harga pasar. Langkah yang saya lakukan adalah
- Memberinya kuota tertentu supaya pembeli lain yang membutuhkan masih bisa membeli gula pasir
 - Segera menutup pelayanan antrian dan menjual seluruh stok gula pasir
 - Memintanya masuk ke dalam antrian dan akan melayaninya sesuai antrian
 - Tidak menjual seluruh stok gula pasir kepadanya karena takut jika dia merupakan seorang penimbun barang
 - Memberikan kuota untuk antrian pembeli sehingga masih banyak stok tersisa untuk dijual dengan harga tinggi



68. Seorang pelanggan bengkel datang dan memberikan komplain terhadap hasil cat pada mobilnya. Saya melihat ada beberapa bagian yang tidak dicat dengan baik dan untuk memperbaikinya secara sempurna harus dilakukan cat ulang. Langkah yang akan saya lakukan adalah
- Menyalahkan pelanggan karena tidak memeriksa keadaan mobilnya sebelum dibawa keluar dari bengkel
 - Memberikan pelayanan cat ulang dengan memberikan potongan separuh harga
 - Meminta pelanggan untuk membeli cat baru dan membebaskan dari biaya pengecatan
 - Menawarkan kepada pelanggan untuk mengecat ulang hanya pada bagian-bagian yang kurang
 - Memberikan potongan separuh harga untuk harga cat dan membebaskan pelanggan dari biaya pengecatan
69. Anda bekerja sebagai seorang pengantar makanan untuk sebuah restoran terkenal di kota Anda. Suatu hari saat Anda mengantarkan pesanan makanan, pemesan makanan ternyata sedang keluar dan tidak ada orang di rumah tersebut. Anda akan
- Berusaha menghubunginya dan akan menanyakan tentang apa yang harus saya lakukan terhadap pesanan makanannya
 - Menitipkan pesanan makanan kepada tetangga sebelah rumahnya dan memintanya untuk memberikan kepada pemesan makanan
 - Menghubungi kantor mengatakan bahwa alamat pengantaran sedang kosong dan meminta instruksi lanjutan
 - Akan kembali ke restoran terlebih dahulu dan akan kembali lagi ke rumah tersebut setelah pemesan kembali pulang
 - Akan mengantarkan pesanan makanan yang lain terlebih dahulu dan akan kembali lagi ke rumah tersebut setelahnya
70. Saya bekerja sebagai pelayan di sebuah restoran cepat saji yang sangat terkenal di kota saya. Suatu hari saat saya sedang menjelaskan menu-menu yang tersedia, sang pembeli tidak memperhatikan saya karena asyik bermain dengan *handphone*-nya. Saat saya sudah selesai menjelaskan dan menanyakan pesannya, dia meminta saya untuk mengulangi penjelasan tersebut. Saya akan
- Merasa kesal dan memberinya daftar menu supaya dia bisa membacanya sendiri
 - Menjelaskan ulang dan memintanya untuk tidak bermain *handphone* saat saya menjelaskan ulang
 - Menjelaskan kembali dengan wajah bersungut-sungut karena merasa tidak diperhatikan
 - Tidak mempedulikannya dan melanjutkan pelayanan pada antrian pembeli berikutnya
 - Menyalahkannya karena bermain *handphone* saat saya menjelaskannya, tetapi tetap kembali menjelaskannya
71. Bekerja sebagai desainer grafis membuat saya harus tertib dengan *deadline* karena banyak pekerjaan yang sudah menanti setelahnya. Suatu saat saya mendapatkan klien baru yang cukup rewel dan meminta saya untuk kembali merevisi desain pesanan yang sudah diterimanya seminggu yang lalu. Padahal desain tersebut sudah dibuat berdasarkan permintaannya dan melewati beberapa kali revisi. Saya akan
- Memberinya satu kali lagi kesempatan revisi dan memintanya untuk memikirkan dengan baik permintaannya
 - Bersikap tegas dan menolak untuk melakukan revisi karena banyak pekerjaan lain yang harus dikerjakan
 - Memberinya satu kali lagi kesempatan revisi dengan pengerjaan yang sangat singkat dan tidak akan menerima revisi lagi
 - Memberinya satu kali lagi kesempatan revisi dengan memberikan biaya tambahan atas permintaan tersebut
 - Menerima permintaan revisi dengan syarat saya kerjakan di sela-sela kesibukan dan tanpa *deadline* ketat



72. Usaha catering yang saya jalani berkembang dengan sangat pesat karena memiliki menu yang unik dan enak yang tidak ditemukan di tempat lain. Suatu pagi saat saya sedang menyelesaikan pesanan yang akan dikirim sore ini, si pemesan menghubungi dan ingin menambah pesanan sebanyak seratus paket lagi. Saya akan
- Menolak dengan halus karena pesanan datang terlalu mendadak dan tidak ada waktu untuk membuatnya
 - Mencoba mengejar pesanan tambahan walaupun tidak bisa memenuhi sebanyak seratus paket
 - Menyanggupi pesanan tambahan dengan syarat adanya tambahan sedikit waktu dari waktu pengiriman awal
 - Berusaha memenuhi pesanan tambahan dengan bekerja sama dengan pengusaha catering lain
 - Melihat situasi dan kondisi tim produksi sebelum menyetujui pesanan tambahan tersebut
73. Saat sedang merancang sebuah produk baru, seorang relasi datang dan memberikan saran-saran tentang produk tersebut yang diharapkan dapat mendongkrak penjualan produk di pasaran. Hal yang akan saya lakukan terkait saran-saran tersebut adalah
- Menerimanya karena relasi tersebut lebih berpengalaman melihat dan memahami keinginan pasar
 - Menerimanya selama itu tidak mengubah secara drastis konsep rancangan yang sudah ada
 - Menerimanya karena tujuan yang ingin dicapai adalah diterimanya produk dengan baik di pasaran
 - Tetap melanjutkan rancangan sesuai konsep dan akan membuat produk lain sesuai masukan relasi tersebut
 - Terpaksa menolaknya karena tim kami sudah merancang produk sesuai penelitian dan pengamatan perkembangan pasar
74. Selama masa pandemi Covid-19 ini kantor menerapkan giliran kerja untuk seluruh karyawan. Kebetulan di divisi kami jadwal yang berlaku adalah dua orang masuk kantor dalam setiap harinya. Namun, teman yang satu giliran dengan saya sering tidak hadir sehingga terkadang saya hanya sendirian bekerja di divisi saya. Saya akan
- Tetap bekerja seperti biasa dan membiarkan saja karena itu merupakan tanggung jawabnya sendiri
 - Meminta teman saya untuk menepati jadwal kerja yang sudah ditentukan karena banyak pekerjaan yang harus diselesaikan
 - Menanyakan alasan ketidakhadirannya dan memintanya untuk berusaha menepati jadwal
 - Menghadap atasan dan meminta untuk bertukar jadwal atau pasangan kerja tanpa menjelaskan alasannya
 - Menghadap atasan dan meminta untuk bertukar jadwal atau pasangan kerja dengan menjelaskan kondisi tersebut
75. Dalam gambaran saya sebuah tim kerja yang efektif dan efisien dapat terbentuk apabila masing-masing anggota tim secara positif memiliki
- Kemampuan dan kemauan yang sama untuk maju
 - Kemampuan dan kemauan yang sama untuk menyelesaikan tugas
 - Tanggung jawab yang sama dalam menyelesaikan tugas-tugasnya
 - Kesamaan sudut pandang dalam melihat fungsi sebuah tim
 - Semangat saling membantu yang kuat untuk meraih tujuan bersama
76. Sebagai *event organizer*, kepercayaan dan kepuasan klien adalah hal yang sangat penting untuk kelangsungan usaha saya. Saat tim kami sedang dalam tur di kota yang sangat jauh dari tempat asal kami, anggota tim yang sering berperan sebagai MC mendadak sakit dan tidak mungkin bisa melaksanakan tugasnya. Padahal acara



akan dimulai beberapa jam lagi. Langkah yang akan saya lakukan adalah

- A. Mencoba menghubungi *event organizer* lain untuk mencari MC pengganti dari lokasi yang dekat dengan tempat acara
 - B. Meminta anggota tim yang lain untuk menggantikan tugasnya sebagai MC acara darurat
 - C. Menghubungi MC lain dari tim kami, dan memintanya untuk menyusul ke tempat kami saat ini
 - D. Berkomunikasi dengan pihak klien untuk mencari keputusan yang terbaik agar acara berjalan maksimal tanpa MC
 - E. Terpaksa mengambil alih tugas sebagai MC supaya acara dapat tetap terselenggara dengan baik
77. Di dalam situasi pandemi Covid-19 seperti ini, banyak relasi penjualan produk perusahaan yang terkena dampak dan mengalami kesulitan dalam menjual barang serta melakukan pembayaran secara rutin ke perusahaan. Langkah yang akan saya lakukan untuk membantu mereka adalah
- A. Menghentikan suplai produk untuk sementara supaya mereka bisa fokus untuk menjual stok yang sudah ada
 - B. Membebaskan mereka dari kewajiban melakukan pembayaran selama beberapa bulan sampai kondisi penjualan kembali normal
 - C. Memberikan bantuan finansial kepada relasi yang mengalami kesulitan keuangan
 - D. Memberikan mereka potongan harga yang lebih tinggi supaya keuntungan untuk mereka lebih banyak
 - E. Mengizinkan mereka untuk membayar separuh jumlah pembayaran yang harus dilakukan setiap bulannya dan sisanya akan diselesaikan setelah penjualan kembali normal

78. Saya memiliki halaman rumah yang cukup luas dengan berbagai macam tanaman, salah satunya adalah pohon mangga yang merupakan buah kesukaan saya. Saya menanam sendiri dan menunggu cukup lama untuk melihat pohon mangga tersebut berbuah. Saat pohon mangga tersebut berbuah lebat dan hampir matang, saya melihat anak-anak tetangga mengambil buah tanpa ijin dan menghabiskan cukup banyak bagian dari pohon. Langkah yang saya lakukan adalah

- A. Menangkap anak-anak itu dan langsung membawanya ke pihak berwajib
 - B. Menangkap anak-anak itu dan membawanya kepada orang tuanya untuk didasahati
 - C. Menangkap anak-anak itu dan membawanya kepada orang tuanya untuk meminta ganti rugi
 - D. Menangkap anak-anak itu dan membawanya kepada ketua RT agar bisa diberikan pengarahan
 - E. Menangkap anak-anak itu dan menasehati mereka untuk tidak melakukan perbuatan itu lagi
79. Setiap musim panen padi datang, desa kami selalu mengadakan acara pesta panen dengan para warga desa berkumpul dan ikut memanen padi di sawah. Karena harus pergi ke luar kota pada perayaan tahun ini, ayah menyuruh saya untuk datang menggantikannya dalam acara tersebut padahal kami bahkan tidak memiliki sawah yang harus dipanen. Saya akan
- A. Menghadiri acara tersebut dengan malas karena biasanya yang datang hanya orang-orang tua
 - B. Akan datang jika ada teman-teman sepermainan saya yang ikut datang juga
 - C. Mendatangi acara sebentar saja karena harus memenuhi permintaan ayah
 - D. Akan datang mengikuti acara karena itu sudah merupakan tradisi di desa kami
 - E. Akan datang mengikuti acara untuk memberikan contoh pada anak muda yang lain



80. Setiap hari selalu saja ada para penjual yang menjajakan barang dagangannya secara berkeliling mampir ke rumah saya, dan saya hampir tidak pernah membeli karena memang tidak memerlukannya. Dari kebanyakan penjual tersebut, ada seorang penjual jajanan pasar yang rajin menawarkan meskipun saya sering menolaknya. Seperti biasanya, sore ini dia datang kembali dan menawarkan kepada saya jajanan pasar yang dijualnya. Saya akan
- Terpaksa membelinya, tetapi hanya untuk kali ini saja
 - Membeli beberapa jajanan karena merasa kasihan terhadap penjual tersebut
 - Membeli beberapa jajanan untuk saya berikan pada penjaga malam
 - Membeli beberapa jajanan karena merasa terkesan akan kegigihannya
 - Dengan berat hati tetap menolak tawarannya karena saya tidak menyukai jajanan tersebut
81. Untuk melestarikan budaya daerah, instansi tempat saya bekerja menganjurkan kepada pegawai untuk menggunakan baju tradisional setempat setiap hari Kamis. Namun, saya bukan seseorang yang berasal dari daerah tersebut. Saya akan
- Ikut menggunakan baju tradisional setempat sebagai wujud pengabdian pada daerah ini
 - Tetap menggunakan seragam sebelumnya karena saya tidak memiliki baju tradisional
 - Ikut menggunakan baju tradisional setempat karena hampir seluruh teman kantor melaksanakan anjuran tersebut
 - Terpaksa mengenakan baju tradisional karena sudah menjadi ketentuan
 - Ikut menggunakan baju tradisional sebagai sebuah kepatuhan karyawan instansi
82. Hari ini pekerjaan di kantor banyak sekali dan saya merasa sangat lelah sehingga ingin cepat pulang. Sesampai di rumah, ternyata Ibu sudah menunggu saya dan meminta untuk mengantarnya ke tempat saudara. Langkah yang akan saya lakukan adalah
- Meminta waktu istirahat sebentar sebelum mengantarkan ibu ke tempat saudara
 - Meminta ibu untuk membatalkan saja acara ke tempat saudara
 - Memanggilkan taksi *online* untuk ibu karena saya tidak bisa mengantarnya
 - Meminta adik untuk mengantar ibu ke tempat saudara
 - Segera mengantar ibu supaya saya bisa segera beristirahat
83. Saat sedang makan malam di sebuah restoran dengan keluarga, saya melihat teman sekolah saya datang bersama keluarganya dan harus menunggu di daftar antrian. Malam ini restoran memang sedang penuh, semua meja terisi, ada yang penuh, dan ada yang menyisakan beberapa kursi. Melihat ini, saya akan
- Menyapanya dan menawarinya untuk bergabung bersama di meja kami
 - Menyapanya dan berbincang dengannya sambil menemaninya menunggu antrian
 - Mengambil beberapa kursi kosong ke meja kami, dan memanggilnya untuk bergabung bersama kami
 - Mempercepat makan malam supaya meja yang saya tempati bisa segera digunakan oleh teman saya tersebut
 - Menyapanya dan berbincang dengannya sambil menunggu pesanan saya datang
84. Tiga hari lagi saya ditugaskan kantor untuk mengikuti kirab budaya yang diadakan untuk memperingati hari ulang tahun kota kami. Setelah melakukan pertemuan dengan perwakilan dari instansi dan perusahaan lain, saya mendapatkan bagian untuk mengenakan pakaian adat daerah yang kebetulan tidak saya miliki. Saya akan



- A. Menanyakan kepada teman sekantor barangkali ada yang memiliki pakaian adat tersebut
 - B. Berusaha mencari pinjaman pakaian adat ke tempat penyewaan pakaian tradisional
 - C. Meminta untuk bertukar pakaian dengan perwakilan dari instansi lain
 - D. Akan mengenakan pakaian tradisional lain yang sudah saya miliki
 - E. Berusaha untuk membuat pakaian adat daerah tersebut
85. Anda bekerja sebagai *customer service* di sebuah kantor yang bergerak di bidang pelayanan perizinan. Suatu hari datang seseorang yang memberikan komplain terkait lambatnya respon yang diberikan saat melakukan proses perizinan melalui aplikasi *online*. Langkah yang akan Anda lakukan adalah
- A. Berusaha segera menindaklanjuti ajuan proses perizinan yang dilakukan melalui aplikasi *online*
 - B. Meminta maaf dan memintanya untuk melakukan proses perizinan melalui cara manual
 - C. Mencatat proses perizinan yang dimaksud dan meminta bagian pelayanan untuk segera menyelesaikannya
 - D. Mencatat keluhan tersebut dan melaporkannya untuk dilakukan perbaikan dalam pelayanan melalui aplikasi *online*
 - E. Meneruskan keluhan tersebut ke bagian pelayanan melalui aplikasi *online* untuk segera diselesaikan
86. Anda sudah lama bekerja di bagian penerimaan berkas dan tiba-tiba dipindah ke bagian pengelolaan data yang semua pekerjaan harus dilakukan menggunakan komputer. Padahal Anda belum pernah sekali pun bekerja menggunakan komputer. Langkah yang akan Anda lakukan adalah
- A. Menerima pekerjaan tersebut dan meminta teman untuk membantu pekerjaan saya
 - B. Meminta atasan untuk mempertimbangkan ulang keputusan tersebut karena merasa ragu dan takut tidak bisa beradaptasi dengan pekerjaan tersebut
 - C. Menerima pekerjaan tersebut dan meminta pegawai senior untuk mengajari saya sambil bekerja
 - D. Menerima pekerjaan tersebut dan mulai belajar cara menggunakan komputer untuk pengelolaan data
 - E. Meminta pindah bagian karena takut tidak bisa maksimal dalam melaksanakan pekerjaan tersebut
87. Karena pandemi Covid-19, kantor tempat saya bekerja memutuskan untuk meminta seluruh karyawan bekerja dari rumah sampai waktu yang tidak ditentukan, dan meminta karyawan untuk mengirimkan progres pekerjaan melalui *email* setiap sore. Sementara saya sedikit mengalami kesulitan untuk bekerja di rumah karena gangguan anak-anak dan baru bisa mulai bekerja dengan tenang saat malam hari. Saya akan
- A. Memutuskan tetap berangkat masuk kantor dan bekerja di kantor untuk bisa memenuhi *deadline* pengiriman progres pekerjaan
 - B. Meminta kebijakan dari atasan untuk dapat mengirimkan progres pekerjaan di malam hari
 - C. Meminta istri saya untuk mengurus anak-anak supaya saya bisa fokus dalam bekerja dan dapat memenuhi *deadline* pengiriman progres tugas
 - D. Membuat rekap progres pekerjaan dalam beberapa hari sekali dan mengirimkannya saat saya luang di siang hari
 - E. Mengirimkan laporan progres pekerjaan hari ini berdasarkan pekerjaan yang telah saya selesaikan pada malam sebelumnya



88. Dampak positif dari sosial media yang saya dapatkan dan paling saya senangi selama saya menggunakannya adalah
- Dapat membangun komunikasi dengan teman-teman lama yang sudah terpisah jauh
 - Selalu mendapatkan informasi terbaru yang sedang terjadi di Indonesia maupun belahan dunia lain
 - Dapat menggunakannya untuk mendapatkan ilmu baru dan mengembangkan kemampuan diri saya
 - Dapat menggunakannya sebagai sarana untuk mendapatkan penghasilan tambahan
 - Dapat menggunakannya untuk mengisi waktu luang dengan mencari informasi terkait hal-hal yang menjadi kesenangan saya
89. Hari ini seharusnya Anda dijadwalkan untuk melakukan presentasi di hadapan perwakilan relasi baru. Namun, ternyata perwakilan relasi tersebut berhalangan hadir karena harus mengurus saudaranya yang mengalami musibah. Padahal keputusan untuk kerja sama harus segera ditetapkan. Langkah yang akan Anda lakukan adalah
- Membuat video presentasi dan mengirimkannya kepadanya melalui *email* supaya dapat dilihat saat dia sudah luang
 - Terpaksa mendatanginya dan meminta untuk melakukan presentasi karena waktu yang sudah mepet
 - Menghubunginya melalui *video call* dan akan melakukan presentasi secara cepat mengenai kerja sama tersebut
 - Melaporkan keadaan tersebut kepada atasan dan meminta supaya penetapan keputusan kerja sama bisa ditunda
 - Akan berkomunikasi secara intens melalui layanan *messenger* untuk membahas kerja sama tersebut di sela kegiatannya mengurus saudaranya
90. Atasan meminta Anda untuk mendokumentasikan kegiatan kantor dalam bentuk video yang menarik dan kekinian. Namun, Anda tidak memiliki pengalaman sama sekali dalam hal membuat dan mengedit video. Langkah yang Anda lakukan adalah
- Menyarankan atasan untuk menunjuk teman lain yang lebih berpengalaman dalam membuat video serupa
 - Mempekerjakan orang yang profesional untuk mengerjakan tugas tersebut supaya hasilnya lebih maksimal
 - Meminta bantuan tenaga profesional untuk mendampingi dan membantu saya dalam mengerjakan pekerjaan tersebut
 - Meminta teman kantor yang lebih berpengalaman untuk mengerjakan tugas tersebut dan akan memberinya imbalan yang sesuai
 - Akan mengerjakan tugas tersebut dengan seluruh kemampuan saya meskipun hasilnya nanti tidak sesuai yang diharapkan
91. Saya bekerja sebagai seorang kepala desa di sebuah desa kecil dengan sebagian besar penduduk bermata pencaharian sebagai petani. Saat ini pemerintah daerah mewajibkan *update* data kependudukan dilakukan melalui aplikasi yang dikelola oleh Ketua RT secara langsung. Sementara sebagian ketua RT di desa saya masih awam dengan aplikasi tersebut. Langkah yang akan saya lakukan adalah
- Meminta para ketua RT untuk melakukan *update* data kependudukan secara manual dan kemudian akan dimasukkan ke aplikasi oleh perangkat desa
 - Meminta kepada perangkat desa untuk melakukan pendampingan terhadap ketua RT saat melakukan *update* data kependudukan
 - Meminta bantuan dari pemerintah daerah untuk memberikan sosialisasi dan pelatihan penggunaan aplikasi kepada seluruh ketua RT



- D. Meminta seorang perangkat desa yang ahli IT untuk melakukan pekerjaan tersebut menggantikan tugas ketua RT
- E. Mengagendakan untuk kegiatan sosialisasi dan pelatihan penggunaan aplikasi dengan menghadirkan narasumber dari pemerintah daerah
92. Tim kami adalah juara bertahan sebuah turnamen sepakbola bergengsi di kota kami. Menghadapi turnamen tersebut tahun ini, pelatih meminta seluruh tim berlatih lebih keras, salah satunya adalah dengan mengadakan *training camp* yang dilaksanakan pada hari Sabtu dan Minggu, hari yang biasa saya habiskan bersama keluarga. Melihat kondisi ini, saya akan
- A. Mengusulkan untuk berlatih seperti biasa dulu karena tim kami sudah sangat solid dan memiliki peluang besar untuk kembali meraih gelar juara
- B. Meminta izin untuk tidak mengikuti *training camp* karena harus bersama keluarga, tetapi menambah jam latihan sendiri di rumah
- C. Mengikuti *training camp* karena ini penting untuk meningkatkan kerja sama tim menjadi lebih baik lagi
- D. Mengikuti *training camp* karena saya yakin tim lain juga berkembang sehingga persaingan meraih gelar juara pasti tidak mudah
- E. Meminta izin untuk mengikuti *training camp* sehari saja, karena harus membagi waktu dengan keluarga
93. Karena bangun kesiangan, saya terlambat masuk kantor. Ini menjadi pertama kalinya buat saya karena selama ini saya tidak pernah terlambat. Ketika memasuki ruangan, atasan memarahi saya karena keterlambatan tersebut. Padahal saya hanya terlambat lima menit saja. Saya akan
- A. Menerima saja dan menganggap itu menjadi nasib buruk saya hari ini
- B. Merasa sedih karena atasan tidak pernah menganggap kedisiplinan saya selama ini
- C. Merasa terpukul dan menjadi malas untuk bekerja hari ini
- D. Menerima saja karena kenyataannya saya memang terlambat hari ini
- E. Menerima saja mungkin atasan sedang memiliki banyak masalah sehingga mudah marah hari ini
94. Karena harus menghadiri sebuah acara penting, pimpinan perusahaan tidak dapat hadir dalam rapat rutin antardivisi bulan ini. Sehari sebelum rapat antardivisi, pemimpin mengatakan bahwa beliau tidak bisa diganggu dan menunjuk saya untuk mewakili serta menggantikannya memimpin rapat tersebut. Dalam sebuah sesi rapat, ada beberapa divisi yang memberikan usulan berkaitan dengan program divisi bulan berikutnya. Langkah yang akan saya lakukan adalah
- A. Mengambil keputusan terhadap usulan-usulan tersebut sesuai dengan kebiasaan pimpinan
- B. Mengambil keputusan terhadap usulan-usulan pada saat rapat, tetapi tetap memungkinkan adanya revisi dari pimpinan
- C. Menghubungi atasan untuk menyampaikan usulan-usulan tersebut agar bisa diputuskan melalui telepon
- D. Mengambil keputusan terhadap usulan-usulan tersebut sesuai dengan kebijakan perusahaan
- E. Menampung usulan-usulan tersebut dan akan mengumumkan keputusan setelah meminta pertimbangan pimpinan
95. Saya baru ingat mendapatkan pesanan kue kering dalam jumlah yang cukup banyak. Padahal waktu pengambilan kue tinggal dua hari lagi dan bahan-bahan kue yang ada di rumah terlihat kurang. Saya akan
- A. Membatalkan pesanan tersebut dan memberikan ganti rugi yang sepadan kepada pemesan
- B. Meminta bantuan dari pembuat kue lain untuk bisa memenuhi pesanan tersebut tepat waktu



- C. Melengkapi bahan-bahan dan memfokuskan karyawan untuk berusaha memenuhi pesanan tersebut
- D. Membuat dengan bahan tersisa dan membeli kekurangan kue dari saudara yang juga seorang pembuat kue
- E. Memberikan kue dengan kualitas terbaik, walaupun jumlahnya mungkin tidak sesuai dengan pesanan
96. Sebagai seorang pimpinan saya senang memberikan penghargaan kepada anak buah saya yang memiliki prestasi baik. Prestasi ini selain ditentukan oleh kinerja harian, juga ditentukan oleh integritas yang dimilikinya. Parameter utama integritas yang saya gunakan untuk menilai mereka adalah
- A. Kemampuannya bekerja keras dalam melaksanakan tiap tugas yang diberikan
- B. Perilakunya yang selalu berusaha untuk jujur dalam melakukan pekerjaan apa pun
- C. Sikap pantang menyerah yang dimiliki saat menghadapi suatu hambatan dalam pekerjaan
- D. Keberaniannya dalam mengemukakan pendapat untuk kemajuan perusahaan
- E. Kedisiplinannya dalam melaksanakan pekerjaan sesuai dengan peraturan yang ada
97. Hari ini seorang rekan sekantor melangsungkan pernikahan, tetapi pimpinan hanya mengizinkan kami menghadiri acara setelah jam kantor selesai. Beberapa teman mengajak saya untuk membolos sebentar pada pagi hari demi menghadiri upacara akad nikah yang sangat sakral. Saya akan
- A. Menolak ajakan mereka dan akan menggunakan waktu istirahat jam makan siang untuk menengok upacara pernikahan
- B. Mengikuti ajakan teman-teman karena ini merupakan momen yang hanya berlangsung sekali seumur hidup
- C. Menolak ajakan mereka dan akan langsung menyusul menuju acara pernikahan begitu jam kantor selesai
- D. Mengikuti ajakan teman-teman sebagai bentuk solidaritas antar sesama karyawan
- E. Menolak ajakan mereka dan akan melaporkan mereka yang membolos kepada atasan
98. Pimpinan instansi meminta saya untuk mengirimkan laporan kegiatan ke ibukota provinsi yang berjarak cukup jauh dari kota kami, sementara saya mendengar ada teman dari divisi lain yang akan bepergian ke kota yang sama untuk mengikuti rapat rutin. Saya akan
- A. Meminta izin kepada atasan untuk menitipkan laporan kepada teman dari divisi lain tersebut
- B. Menitipkan laporan kepada teman dari divisi lain tersebut untuk menghemat anggaran
- C. Berangkat mengantarkan laporan bersama dengan teman dari divisi lain tersebut karena memiliki tujuan yang sama
- D. Menitipkan laporan kepada teman dari divisi lain tersebut dan akan memberinya tambahan uang saku sebagai ucapan terima kasih
- E. Menanyakan kepada atasan apakah laporan bisa dititipkan melalui orang lain atau tidak
99. Seorang pelanggan datang dan mengajukan komplain saat saya sedang sibuk mengerjakan pekerjaan saya. Langkah yang saya lakukan adalah
- A. Menyarankan pelanggan tersebut untuk mengajukan permasalahannya ke teman saya
- B. Menolak melayani karena sedang mengerjakan pekerjaan
- C. Menghentikan pekerjaan dan melayani pelanggan tersebut terlebih dahulu
- D. Tetap mengerjakan pekerjaan sambil mendengarkan permasalahan pelanggan
- E. Meminta bantuan teman untuk mengerjakan pekerjaan saya karena saya harus melayani pelanggan



100. Saat pergantian jam kerja, rekan kerja saya belum datang, sementara masih ada beberapa orang yang harus dilayani. Saya akan
- Meninggalkan pekerjaan karena jam kerja saya sudah habis
 - Melayani dengan sebal
 - Memintanya untuk menunggu teman saya melanjutkan pelayanan
 - Tetap melanjutkan pelayanan sambil menunggu teman saya datang
 - Berkonsultasi dengan atasan apa yang harus saya lakukan
101. Berkembangnya teknologi sangat memudahkan hidup manusia. Berbagai macam layanan berbasis aplikasi bermunculan, termasuk pinjaman *online* yang dapat membantu orang mendapatkan pinjaman dana dengan cepat. Saat terpaksa harus menggunakan pinjaman *online*, hal yang saya lakukan adalah
- Meminjam dengan batas paling minim yang diberikan
 - Meminjam sesuai kebutuhan saya
 - Membaca ketentuan dan persyaratan dengan saksama
 - Meminjam sesuai kemampuan saya membayar
 - Memanfaatkannya untuk meminjam modal usaha
102. Bisnis *online* tumbuh sangat pesat di Indonesia. Banyak orang yang memperoleh keberhasilan melalui bisnis *online*. Melihat peluang yang sangat menjanjikan ini, saya mencoba memulai usaha online berjualan dengan memanfaatkan media sosial. Untuk memperkenalkan produk saya dan mencari pelanggan, strategi yang akan saya tempuh adalah
- Membuat banyak akun di berbagai macam media sosial agar produk saya mudah dikenal
 - Memasang iklan pada media sosial untuk menjaring pelanggan
 - Fokus pada media sosial tertentu yang sekiranya dapat mendongkrak penjualan
 - Mengamati orang yang sudah berhasil dan meniru cara promosinya
 - Menetapkan target pasar dan menggunakan media sosial yang sesuai untuk menjangkaunya
103. Untuk alasan keamanan, pemimpin perusahaan memutuskan untuk memasang CCTV di setiap ruangan dan beberapa sudut kantor. Namun, saya merasa alasan utama adalah untuk memantau kinerja para pegawai. Berdasarkan pada pemikiran itu, saya akan
- Melakukan protes pada pimpinan karena mengambil keputusan tersebut
 - Menjauhi zona CCTV saat membutuhkan waktu istirahat bekerja
 - Tetap bekerja seperti biasa dan tidak terpengaruh adanya pemasangan CCTV di ruangan
 - Bekerja lebih giat karena semua kegiatan saya akan terpantau oleh CCTV
 - Mengajak teman-teman yang tidak nyaman dengan pemasangan CCTV melakukan protes kepada pimpinan
104. Pembatasan Sosial Berskala Besar berimbas kepada banyak bidang, termasuk pendidikan. Kegiatan belajar-mengajar tatap muka langsung harus berganti kegiatan belajar di rumah sehingga guru dituntut untuk kreatif dalam mengisi kegiatan belajar. Sebagai seorang tenaga pendidik, melihat kondisi ini saya akan
- Memberikan siswa saya bahan ajar secara berkala sesuai jadwal mata pelajaran
 - Meminta siswa untuk mengerjakan dan mengisi seluruh lembar kerja siswa dan mengirimkannya secara bertahap melalui *email*
 - Melihat kegiatan belajar siswa satu per satu setiap hari dengan meminta mereka mengirimkan foto kegiatan belajar mereka
 - Mengadakan kelas tatap muka dengan menggunakan aplikasi *video meeting* supaya siswa tetap mendapatkan materi belajar yang sesuai
 - Membuat video tentang materi ajar dan mengirimkannya kepada semua siswa



105. Saya adalah petugas penyuluh pertanian dengan beberapa kelompok binaan yang tersebar di berbagai lokasi. Sebagian besar kelompok binaan terletak di lokasi yang sulit saya jangkau sehingga frekuensi untuk mengunjungi lokasi sangat kurang. Upaya yang saya gunakan untuk memaksimalkan penyuluhan di tengah kurangnya kunjungan langsung adalah
- A. Mengumpulkan seluruh ketua kelompok untuk pertemuan evaluasi di kantor seminggu sekali
 - B. Memberikan target pekerjaan saat kunjungan dan mengevaluasi hasilnya saat kunjungan berikutnya
 - C. Menggunakan telepon atau aplikasi pesan untuk berkomunikasi terkait info penyuluhan dan perkembangan kelompok
 - D. Menyuruh mereka untuk aktif menghubungi saya saat mereka membutuhkan saya
 - E. Menghubungi kelompok secara rutin seminggu sekali melalui telepon untuk memonitor perkembangan
106. Perkembangan dunia teknologi yang sangat pesat telah menumbuhkan era baru dengan teknologi informasi dan komunikasi memegang peranan yang sangat penting dalam setiap sendi kehidupan. Hal ini menurut saya adalah
- A. Hal tak terhindarkan dari adanya kemajuan jaman
 - B. Sebuah peluang yang bisa membawa kita kepada era yang lebih baik
 - C. Sebuah kondisi yang harus dimanfaatkan untuk meraih keuntungan
 - D. Hal yang harus disikapi dengan bijak terkait efek positif dan negatif yang ditimbulkan
 - E. Hal yang tidak asing karena sudah diprediksi sejak lama
107. Sahabat saya di kantor akhir-akhir ini mengikuti kegiatan keagamaan yang terindikasi radikal. Sampai pada suatu upacara bendera, dia tidak mau ikut hormat kepada bendera karena menurutnya tidak sesuai dengan ajaran agama. Saya akan
- A. Mengajaknya berbicara dari hati ke hati dan berharap dia akan mengubah sikapnya itu
 - B. Menegurinya dan mengatakan bahwa dia telah salah mengikuti kegiatan keagamaan tersebut
 - C. Melaporkan kepada atasan supaya dapat diberikan pembinaan
 - D. Merasa kecewa terhadapnya dan tidak mau berteman lagi dengannya
 - E. Membiarkan saja dan berharap dia akan mendapatkan teguran dari atasan
108. Kelompok radikal banyak menasar generasi muda untuk dipengaruhi karena mereka belum memiliki kedewasaan dan kestabilan psikologis untuk menyadari bahaya dari paham radikal. Sebagai generasi muda, upaya yang akan saya lakukan agar tidak ikut terseret dalam gerakan radikalisme adalah
- A. Lebih sering mengisi waktu bersama keluarga dan bercerita tentang kegiatan saya sehari-hari
 - B. Banyak mencari informasi terkait paham radikal supaya saya lebih bisa memahaminya
 - C. Mencari informasi tentang bahaya paham radikal supaya saya bisa menghindarinya
 - D. Mengisi hari-hari dengan banyak kegiatan positif dan produktif
 - E. Menyeleksi teman-teman di lingkaran pertemanan saya dan akan menghindari mereka yang terindikasi terpapar radikalisme



109. Saat ini sikap yang mengarah kepada intoleransi bahkan sudah merasuki generasi muda di Indonesia sejak usia anak. Salah satu contoh kejadian terbaru adalah perusakan yang dilakukan oleh sekelompok anak di bawah umur terhadap makam dari orang yang menganut agama lain di kota Solo. Menurut saya hal tersebut merupakan
- A. Hal yang biasa karena kejadian tersebut dilakukan oleh anak-anak yang masih belum cukup umur sehingga tidak perlu dibesar-besarkan
 - B. Sebuah kejadian lain dari beberapa sejarah peristiwa intoleransi yang pernah terjadi di berbagai tempat di Indonesia
 - C. Peringatan bagi pemerintah untuk menerapkan pendidikan toleransi sejak usia dini sehingga peristiwa semacam ini bisa diminimalisasi
 - D. Sebuah peristiwa yang cukup mengejutkan dan menunjukkan ada yang perlu diubah dari pola pendidikan anak pada masa sekarang ini
 - E. Tantangan bagi kita semua dalam mendidik dan mengawasi anak-anak di sekitar kita sehingga peristiwa intoleransi seperti itu tidak terulang lagi
110. Anda sedang berbelanja di sebuah pusat perbelanjaan dan melihat ada seseorang yang membawa sebuah bungkusan misterius yang disembunyikan di dalam jaket. Selain itu gerak-gerik orang tersebut juga membuatnya sangat patut untuk dicurigai. Menghadapi situasi tersebut, Anda akan
- A. Berusaha melumpuhkan orang tersebut untuk memeriksa bungkusan yang dia sembunyikan di dalam jaket
 - B. Berteriak mengingatkan orang-orang di sekitar agar waspada dan berusaha melumpuhkan orang tersebut
 - C. Menghubungi polisi dan menyampaikan situasi tersebut supaya bisa ditangani
 - D. Mengikuti orang tersebut dan akan melaporkan saat sudah terlihat pasti bungkusan yang dia sembunyikan di dalam jaket tersebut
 - E. Menghubungi petugas keamanan pusat perbelanjaan tersebut dan menyampaikan informasi terkait orang tersebut

Pembahasan Tryout SKD

3

Tes Wawasan Kebangsaan (TWK)

1. Sumber formal Pancasila adalah alinea IV Pembukaan UUD 1945 yang memuat rumusan dan susunan Pancasila secara resmi.
■ **Jawaban: C**
2. Tujuan yang ingin dicapai oleh bangsa Indonesia adalah terwujudnya keadilan sosial bagi seluruh rakyat Indonesia tanpa terkecuali. Tujuan tersebut dijabarkan pada Pancasila sila kelima.
■ **Jawaban: E**
3. Salah satu maksud nilai Pancasila bersifat objektif adalah nilai-nilai dalam Pancasila akan tetap ada sepanjang masa dalam kehidupan bangsa Indonesia, baik dalam adat istiadat, kebudayaan, kegiatan kenegaraan, maupun dalam keagamaan.
■ **Jawaban: C**
4. Asas pembangunan nasional meliputi:
 - Demokrasi
 - Usaha bersama dan kekeluargaan
 - Perikemanusiaan dan keseimbangan
 - Adil dan merata
 - Manfaat
 - Kepercayaan diri
 - Kesadaran hukum■ **Jawaban: D**
5. Sebagai sebuah ideologi terbuka, nilai-nilai dasar Pancasila (cita-cita dan tujuan) tetap tidak boleh berubah. Yang boleh berubah mengikuti keadaan dan perkembangan zaman adalah nilai instrumentalnya (pengamalan).
■ **Jawaban: C**
6. Pancasila bersifat universal karena nilai-nilai Pancasila dapat diterapkan dan digunakan juga oleh negara lain.
■ **Jawaban: B**
7. Pada 7 Agustus 1945, BPUPKI dibubarkan dan dibentuklah Dokuritsu Junbi Inkai (PPKI) dengan Ir. Soekarno sebagai ketua.
■ **Jawaban: D**
8. Tanggal 30 Mei 1945, Mr. Supomo menyampaikan Dasar Negara Indonesia Merdeka, yaitu:
 - 1) Persatuan
 - 2) Kekeluargaan
 - 3) Keseimbangan lahir dan batin
 - 4) Musyawarah
 - 5) Keadilan rakyat■ **Jawaban: A**
9. Pancasila memiliki susunan berupa hierarki piramidal, dengan sila-sila di depan sila lainnya mendasari, meliputi, dan menjiwai sila-sila di belakangnya. Ini berarti sila yang tidak mendasari, meliputi, dan menjiwai sila lainnya adalah sila terakhir, yaitu sila kelima.
■ **Jawaban: E**



10. Penghayatan dan pengamalan akan Bhinneka Tunggal Ika merupakan usaha ke arah bersatu dalam keberagaman di Negara Kesatuan Republik Indonesia sehingga merupakan nilai Pancasila sila ketiga.
 ■ **Jawaban: C**
11. Periode Konstitusi Republik Indonesia Serikat (RIS) tercatat sebagai periode pemberlakuan konstitusi yang paling singkat karena berlaku tidak sampai satu tahun (27 Desember 1949 – 17 Agustus 1950).
 ■ **Jawaban: B**
12. Pemberian grasi, amnesti, abolisi dan rehabilitasi oleh Presiden diatur dalam Pasal 14 ayat 1 dan 2 Undang-Undang Dasar 1945.
 ■ **Jawaban: D**
13. Undang-Undang Dasar 1945 Pasal 23 ayat 1 sampai dengan 3 mengatur tentang Keuangan.
 ■ **Jawaban: A**
14. Waktu perubahan (amendemen) UUD 1945 adalah:
- Amendemen pertama: sidang umum MPR tahun 1999
 - Amendemen kedua: sidang tahunan MPR tahun 2000
 - Amendemen ketiga: sidang tahunan MPR tahun 2001
 - Amendemen keempat: sidang tahunan MPR tahun 2002
- **Jawaban: B**
15. Setelah amendemen, Undang-Undang Dasar Tahun 1945 terdiri atas dua bagian, yaitu:
- Pembukaan
 - Pasal-pasal (sebagai ganti istilah batang tubuh)
- **Jawaban: B**
16. Perubahan Undang-Undang Dasar Negara Republik Indonesia Tahun 1945 yang dilakukan mencakup 21 bab, 73 pasal, dan 170 ayat, 3 pasal aturan peralihan dan 2 pasal aturan tambahan.
 ■ **Jawaban: D**
17. Pemilihan Umum Republik Indonesia pertama kali diselenggarakan pada tahun 1955, yang termasuk dalam periode konstitusi Undang-Undang Dasar Sementara 1950 (berlaku 17 Agustus 1950 – 5 Juli 1959).
 ■ **Jawaban: C**
18. Hal tersebut merupakan isi Pasal 7C UUD 1945 hasil amendemen yang ketiga.
 ■ **Jawaban: D**
19. Bab IV dalam Undang-Undang Dasar 1945 yang berisi tentang Dewan Pertimbangan Agung dihapus melalui amendemen Undang-Undang Dasar 1945 keempat.
 ■ **Jawaban: A**
20. Undang-Undang Dasar 1945 disahkan dan ditetapkan oleh PPKI melalui sidang PPKI pertama pada 18 Agustus 1945.
 ■ **Jawaban: C**
21. Konsep inklusif adalah mayoritas tidak memaksakan kehendaknya pada minoritas.
 ■ **Jawaban: B**
22. Dalam Bhinneka Tunggal Ika harus terdapat sifat saling percaya, saling hormat, saling cinta, rukun, dan bukan saling mendahulukan kepentingannya/eksklusif.
 ■ **Jawaban: E**
23. Negara Indonesia terdiri atas *Zelfbesturende landschappen* atau daerah-daerah swapraja.
 ■ **Jawaban: A**
24. Globalisasi bukan merupakan ancaman militer, melainkan ancaman dalam aspek perkembangan teknologi dan komunikasi.
 ■ **Jawaban: E**

Tes Inteligensi Umum (TIU)

25. Dalam negara persatuan, kepentingan individu letaknya seimbang dengan kepentingan kolektif.

■ **Jawaban: A**

26. Tentara Keamanan Rakyat dibentuk 5 Oktober 1945 dengan Urip Sumohardjo ditunjuk sebagai Kepala Staf Tentara Keamanan Rakyat yang pertama.

■ **Jawaban: A**

27. Delapan provinsi pada awal kemerdekaan Republik Indonesia adalah:

- Sumatra
- Jawa Barat
- Jawa Tengah
- Jawa Timur
- Sunda Kecil
- Maluku
- Sulawesi (Celebes)
- Kalimantan (Borneo)

■ **Jawaban: B**

28. Sebagai lembaga independen anti korupsi, KPK memiliki kewenangan khusus, yaitu KPK bertindak tidak hanya sebagai penyelidik/penyidik, tetapi sekaligus penuntut dalam perkara tindakan korupsi.

■ **Jawaban: C**

29. Kekhususan tindak pidana korupsi dianut dalam asas *lex specialis derogat legi generali* yang artinya peraturan khusus menggantikan peraturan umum. Tindakan korupsi merupakan salah satu tindak kejahatan yang terkategori tindakan khusus.

■ **Jawaban: A**

30. Landasan pengambilan sumpah setia terhadap NKRI dan Pancasila bagi ASN adalah Pancasila ditempatkan sebagai pandangan hidup sehingga dalam praktik penyelenggaraan negara, para ASN dapat memiliki wawasan hidup bangsa, hakikat, nilai, dan moralitas untuk membangun karakter.

■ **Jawaban: A**

31. Cara memainkan alat musik FLUTE adalah DITIUP. Cara memainkan alat musik HARPA adalah dengan cara DIPETIK.

■ **Jawaban: B**

32. Kata bantu untuk menyebut PADI adalah SEBULIR. Kata bantu untuk menyebut DARAH adalah SEGUMPAL.

■ **Jawaban: C**

33. PENSIL merupakan alat yang digunakan untuk MENULIS. PISAU merupakan alat yang digunakan untuk MENGIRIS.

■ **Jawaban: D**

34. AKAR merupakan salah satu bagian dari TUMBUHAN. VENA merupakan salah satu bagian dari sistem SIRKULASI.

■ **Jawaban: A**

35. Diketahui premis:

- Semua pegawai mendapat gaji pokok.
- Sebagian pegawai mendapat bonus penghasilan.

Salah satu premis partikular maka kesimpulan pasti partikular.

Yang mungkin pilihan C dan E. Kesimpulan yang tepat adalah sebagian pegawai mendapat gaji pokok dan bonus penghasilan.

■ **Jawaban: C**

36. Diketahui premis:

1. Semua pasangan yang menikah di KUA adalah pasangan sah.
 2. Pasangan yang sah pasti memiliki buku nikah.
 3. Rina dan Budi mempunyai buku nikah.
- Dari premis 1 dan 2 menghasilkan:
4. Semua pasangan yang menikah di KUA pasti memiliki buku nikah.

Dari premis 3 dan 4, diperoleh kesimpulan Rina dan Budi menikah di KUA.

■ **Jawaban: C**



37. Karena **semua** pemilik mobil harus mempunyai surat izin mengemudi dan Lantip memiliki 2 mobil mewah, Lantip harus memiliki surat izin mengemudi.

■ **Jawaban: B**

38. Diketahui:

- Kendaraan roda dua dan bermesin boleh memasuki tol
- Sementara kereta kuda beroda dua. Karena kereta kuda beroda dua tetapi tidak bermesin, kereta kuda dilarang masuk jalan tol.

■ **Jawaban: D**

39. Diketahui premis:

- Semua balita mendapat imunisasi.
- Beberapa balita mendapat vitamin.

Salah satu premis partikular maka kesimpulan pasti partikular.

Yang mungkin pilihan C dan D. Kesimpulan yang tepat adalah beberapa balita mendapat imunisasi dan vitamin.

■ **Jawaban: D**

40. Diketahui pernyataan utama:

- Anton lebih tua daripada Cika maka $\text{Anton} > \text{Cika}$
- Bowo lebih muda daripada Desti maka $\text{Bowo} < \text{Desti}$ atau $\text{Desti} > \text{Bowo}$

Dari soal

Endang lebih tua dari Desti maka

$\text{Endang} > \text{Desti}$

Sehingga:

$\text{Endang} > \text{Desti} > \text{Bowo}$

Tidak ada hubungan Endang dengan Anton dan Cika sehingga jawaban A, B, C, dan E salah. Jawaban yang benar adalah Endang lebih tua dari Bowo.

■ **Jawaban: D**

41. Dari soal:

Bowo lebih muda daripada Cika maka $\text{Bowo} < \text{Cika}$ atau $\text{Cika} > \text{Bowo}$ sehingga **Anton > Cika > Bowo** tetapi Anton dan Cika tidak dapat dibandingkan dengan Desti (Jawaban A, B, C, dan D salah).

Jadi, jawaban yang benar adalah Anton lebih tua dari Bowo.

■ **Jawaban: E**

42. Dari soal:

Anji lebih tua daripada Meli, Dinar, dan Desti. $\text{Anji} > \text{Meli}, \text{Dinar}, \text{Desti}$.

Anji > Desti > Bowo tetapi Anji tidak dapat dibandingkan dengan Anton dan Cika. (Jawaban A dan E salah)

Jawaban yang benar:

Anji lebih tua dari Desti.

Anji lebih tua dari Bowo.

■ **Jawaban: B**

43. Diketahui:

$\text{Mobil 1} > \text{Mobil 2}$

$\text{Mobil 3} > \text{Mobil 2} +$

$\text{Mobil 1} + \text{Mobil 3} > 2 \times \text{Mobil 2}$

$\Leftrightarrow \frac{\text{Mobil 1} + \text{Mobil 3}}{2} > \text{Mobil 2}$

Jadi, rata-rata harga mobil 1 dan 3 pasti lebih besar dari harga mobil 2.

■ **Jawaban: A**

44. Misalkan gaji Pak Gito adalah X maka:

Gaji Pak Maryadi = $X + \text{Rp}300.000,00$

Gaji Pak Agus = $\frac{X}{3}$

Berapapun besar gaji Pak Gito:

Gaji Pak Gito < Gaji Pak Maryadi

Gaji Pak Agus < Gaji Pak Gito

Jadi,

Gaji Pak Agus < Gaji Pak Gito < Gaji Pak Maryadi

Jadi, gaji Pak Maryadi selalu lebih besar dari gaji Pak Agus.

■ **Jawaban: E**

45. 30, 31, ..., ..., 40, 45

Memiliki pola:

$$\begin{array}{cccccc}
 & +1 & & +2 & & +3 & & +4 & & +5 \\
 & \frown & & \frown & & \frown & & \frown & & \frown \\
 30 & 31 & 33 & 36 & 40 & 45
 \end{array}$$

Angka yang dicari = $31 + 2 = 33$

$33 + 3 = 36$

■ **Jawaban: D**



46. 6, ..., 29, 174, ..., 1002, 995

Memiliki pola:

$$\begin{array}{cccccc} \times 6 & -7 & \times 6 & -7 & \times 6 & -7 \\ \underbrace{6} & \underbrace{36} & \underbrace{29} & \underbrace{174} & \underbrace{167} & \underbrace{1002} & \underbrace{995} \end{array}$$

Angka yang dicari = $6 \times 6 = 36$
 $174 - 7 = 167$

■ Jawaban: D

47. 29, 66, 127, 218, ...

Memiliki pola:

$$\begin{array}{cccccc} 2 + 3^3 & 2 + 4^3 & 2 + 5^3 & 2 + 6^3 & 2 + 7^3 & \\ \downarrow & \downarrow & \downarrow & \downarrow & \downarrow & \\ 29 & 66 & 127 & 218 & 345 & \end{array}$$

Angka yang dicari = $2 + 7^3 = 345$

■ Jawaban: E

48. **Lakukan operasi di dalam kurung terlebih dahulu.**

$$(1,69 : 13) \times 1,3 = \frac{1,69}{13} \times 1,3 = 0,169$$

■ Jawaban: B

49. **Lakukan operasi perkalian terlebih dahulu.**
INGAT: Negatif dikali negatif hasilnya positif

$$\begin{aligned} (-34 \times (-22)) - (-2.020) \\ = 748 + 2.020 \\ = 2768 \end{aligned}$$

■ Jawaban: A

50. Diketahui: rata-rata dari 2, 3, x, dan y adalah 5 maka:

$$\begin{aligned} \frac{2+3+x+y}{4} &= 5 \\ 5+x+y &= 20 \\ x+y &= 15 \end{aligned}$$

Rata-rata dari 4, 5, 6, x, dan y adalah:

$$\begin{aligned} \frac{4+5+6+(x+y)}{5} &= \frac{4+5+6+15}{5} \\ &= \frac{30}{5} \\ &= 6 \end{aligned}$$

■ Jawaban: D

51. Diketahui: Luas = $120 \text{ cm}^2 \Rightarrow p \times \ell = 120$
 Panjangnya (p) bertambah 25% dan lebarnya (ℓ) berkurang 20% maka luasnya menjadi:

$$\begin{aligned} (p + 25\%p) \times (\ell - 20\%\ell) \\ = (125\%p) \times (80\%\ell) \\ = \frac{125}{100}p \times \frac{80}{100}\ell \\ = \frac{5}{4}p \times \frac{4}{5}\ell \\ = \frac{20}{20} \times p \times \ell \\ = \frac{20}{20} \times 120 \\ = 120 \text{ cm}^2 \end{aligned}$$

Jadi, luasnya tetap.

■ Jawaban: C

52. Diketahui:
 Banyak bagian = 8
 Banyak seksi = 10-16
 Banyak pegawai/ seksi = 40-60
 Banyak juru tulis = 10% dari pegawai
 Jumlah minimum juru tulis pada setiap bagian adalah:

$$\begin{aligned} &= \text{batas bawah seksi} \times \text{batas bawah pegawai} \times 10\% \\ &= 10 \times 40 \times 10\% \\ &= 40 \text{ juru tulis} \end{aligned}$$

■ Jawaban: A

53. Misalkan:
 Usia Rudi sekarang = a
 Usia Marlena sekarang = b
- Sepuluh tahun yang lalu Rudi adalah sepertiga dari usianya sekarang maka:

$$\begin{aligned} a - 10 &= \frac{1}{3}a \\ \Leftrightarrow a - \frac{1}{3}a &= 10 \\ \Leftrightarrow \frac{2}{3}a &= 10 \\ \Leftrightarrow \frac{2}{3}a &= 15 \end{aligned}$$

Usia Rudi sekarang = 15 tahun.



- Lima belas tahun yang akan datang perbandingan antara usia Marlena dan usia Rudi adalah 3: 5.

Usia Rudi 15 tahun mendatang adalah
 $= 15 + 15 = 30$ tahun

$$\frac{b+15}{a+15} = \frac{3}{5}$$

$$\frac{b+15}{15+15} = \frac{3}{5}$$

$$b + 15 = \frac{3}{5} \times 30 = 18$$

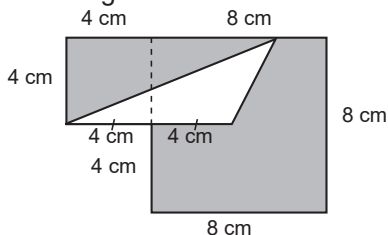
$$b = 18 - 15 = 3 \text{ tahun}$$

Jadi, usia Marlena 5 tahun yang akan datang adalah:

$$b + 5 = 3 + 5 = 8 \text{ tahun}$$

■ **Jawaban: E**

54. Perhatikan gambar berikut.



INGAT kembali rumus persegi dan rumus segitiga.

Luas Persegi = sisi × sisi

Luas Segitiga = $\frac{1}{2}$ × alas × tinggi

Luas daerah yang diarsir adalah

= luas bangun – luas putih

$$= ((8 \times 8) + (4 \times 4)) - (8 \times 4 : 2)$$

$$= (64 + 16) - 16$$

$$= 64$$

■ **Jawaban: B**

55. Diketahui: penyebut > pembilang

Misalkan bilangan tersebut: $\frac{a}{b}$ dengan $b > a$

Dari soal:

$$b - a = 13 \text{ atau } a = b - 13$$

$$a + b = 67$$

Dicari penyebut = b.

Substitusi (i) ke (ii) maka

$$b - 13 + b = 67 \Leftrightarrow 2b = 80$$

$$\Leftrightarrow b = 40$$

Dapat juga menjawab dengan logika.

- 67 → agar $a + b = 67$, maka bilangan kedua 0. Namun, tidak memenuhi syarat $b - a = 13$
- 54 → agar $a + b = 67$, maka bilangan kedua 13. Namun, tidak memenuhi syarat $b - a = 13$
- 40 → agar $a + b = 67$, maka bilangan kedua 27 dan memenuhi syarat $b - a = 13$

■ **Jawaban: C**

56. Data yang diurutkan:

4.192, 4.360, 4.442, **4.792**, 7.798, 4.998, 5.534

Tidak ada satupun nilai data yang sering muncul, sehingga data tersebut tidak memiliki modus.

Median = nilai tengah = 4.792

$$\text{Rata-rata} = \frac{\text{jumlah data}}{7} = \frac{33.116}{7} \approx 4.731$$

Jadi, **rata-rata < median.**

■ **Jawaban: B**

57. Ingat bahwa:

$$3^0 = 1$$

$$3^1 = 3$$

$$3^2 = 9$$

$$3^3 = 27$$

$$3^4 = 81$$

$$3^5 = 243$$

...

dst

Memiliki periode setiap kelipatan 4.

100 dapat diubah ke bentuk 100

$$= (4 \times 25) + 0$$

Jadi angka satuan 3^{100} sama dengan angka satuan 3^0 yaitu 1.

■ **Jawaban: B**



58. Diketahui:

Kecepatan Ade

$$= \frac{12 \text{ lusin}}{18 \text{ hari}} = \frac{12 \times 12 \text{ potong}}{18 \text{ hari}}$$

$$= 8 \text{ potong/hari}$$

Kecepatan Tenti

$$= \frac{12 \text{ lusin}}{24 \text{ hari}} = \frac{12 \times 12 \text{ potong}}{24 \text{ hari}}$$

$$= 6 \text{ potong/hari}$$

Kecepatan gabungan = 8 + 6
= 14 potong/hari

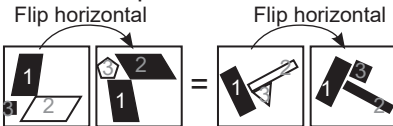
Jadi, selama 6 hari jaket yang berhasil diproduksi adalah

$$= 6 \text{ hari} \times 14 \text{ potong/hari}$$

$$= 84 \text{ potong}$$

■ **Jawaban: E**

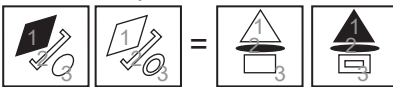
59. Perhatikan pembahasan berikut.



1. Warna tidak berubah
2. Warna berubah
3. Jumlah sisi bertambah 1 dan berubah warna.

■ **Jawaban: D**

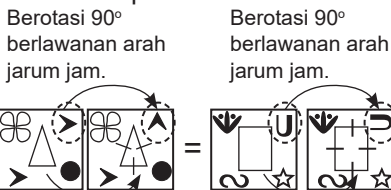
60. Perhatikan pembahasan berikut.



1. Warna berubah
2. Warna tidak berubah
3. Warna tidak berubah tetapi bertambah satu bangun yang sama lebih kecil.

■ **Jawaban: B**

61. Perhatikan pembahasan berikut.




Setiap sisi bertambah garis.

■ **Jawaban: E**

62. Perhatikan pembahasan berikut.

Jumlah sisi bangun di luar bertambah 1.



Jumlah ujung runcing dalam bertambah 1, dan warna selalu berganti selang-seling.

■ **Jawaban: B**

63. Perhatikan pembahasan berikut.

Jumlahnya selalu bertambah 1.



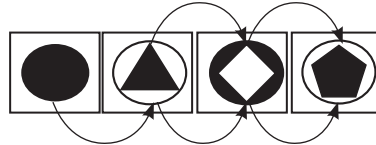
Bergeser 1 langkah searah jarum jam.

Bergeser 1 langkah searah jarum jam, namun tertutup oleh persegi hitam yang lebih besar.

■ **Jawaban: B**

64. Perhatikan pembahasan berikut.

Sisi bertambah 1 dan berubah warna



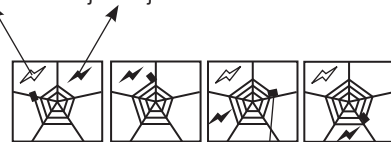
Warna berubah

■ **Jawaban: B**

65. Perhatikan pembahasan berikut.

Posisi berpindah berlawanan arah jarum jam

Posisi tetap



Posisi berpindah searah jarum jam diikuti penambahan garis

■ **Jawaban: B**



Tes Karakteristik Pribadi (TKP)

Skor	5	4	3	2	1
66.	A	C	E	B	D
67.	C	A	D	E	B
68.	D	E	B	C	A
69.	A	E	C	D	B
70.	B	E	C	A	D
71.	E	C	A	D	B
72.	E	C	B	D	A
73.	B	C	A	E	D
74.	B	C	A	E	D
75.	C	E	B	D	A
76.	A	C	E	B	D
77.	E	D	A	B	C
78.	E	B	D	C	A
79.	D	E	A	C	B
80.	D	B	C	A	E
81.	E	A	C	D	B
82.	E	A	D	C	B
83.	C	A	D	B	E
84.	B	A	C	E	D
85.	D	E	C	A	B
86.	D	C	A	B	E
87.	C	E	B	D	A
88.	C	D	A	E	B
89.	A	E	C	B	D
90.	C	B	E	D	A
91.	E	B	C	A	D
92.	C	D	E	B	A
93.	D	A	E	B	C
94.	D	B	A	E	C
95.	C	B	D	E	A
96.	B	E	D	A	C
97.	C	A	E	B	D
98.	C	E	A	B	D
99.	C	E	A	D	B
100.	D	B	E	C	A
101.	C	D	B	A	E
102.	E	C	B	A	D
103.	C	D	B	A	E
104.	D	E	B	A	C
105.	C	E	D	A	B
106.	B	D	C	E	A
107.	A	C	B	E	D
108.	C	A	D	E	B
109.	E	C	D	A	B
110.	E	D	C	A	B

